

ORTAOKUL 5.SINIF

HAFTALIK EV ÖDEVİ
13-17 Nisan



SIİRT İL MİLLÎ EĞİTİM MÜDÜRLÜĞÜ
2020



1) Aşağıdakilerden hangisinde “sormak” sözcüğü “aramak” anlamında kullanılmıştır?

- A) Derlerle ilgili anlamadıklarını soruyordu.
- B) Henüz üç yaşında olmasına rağmen ilginç sorular soruyordu.
- C) Doktorlar hastalarını bir bir soruyordu.
- D) Arkadaşlarına düne dair bir şeyler soruyordu.

2) Aşağıdakilerden hangisinde “yağmak” kelimesi mecaz anlamda kullanılmıştır?

- A) Dün yağın yağmur birçok sokağa zarar verdi.
- B) Bu şehre uzun zamandır böyle kar yağmadı.
- C) Dolunun yağması çiftçileri düşündürdü.
- D) Ödevler haftanın bitmesiyle arka arkaya yağdı.

(1) Balinalar açık denizlerin yaratıklarıdır; denizde beslenirler. (2) Yaşamları denizde yaşamaya çok uyum sağlamıştır. (3) Bu hayvanlar uluslararası yasalarla koruma altındadırlar. (4) Su aygırları balinaların karada yaşayan en yakın akrabalarıdır.

3) Hangi cümlede “karşılaştırma” yapılmıştır?

- A) 4
- B) 3
- C) 2
- D) 1

4) Aşağıdaki cümlelerin hangisinde “Botan Vadisi” ile ilgili bir benzetme yapılmıştır?

- A) Doğaseverler için önemli bir hazinedir.
- B) Her mevsim ziyaretçilerine ayrı güzellik sunar.
- C) Yaklaşık 350 metre yükseklikteki Rasıl Hacı Tepesi'nden izlenebilir.
- D) Tarihi İpek Yolu'nun bir kısmının içinde yer alır.

“Bu yörede karşılaşılan insanların bağrı yanık kişiler olması yazarların her zaman kitaplarına ilham kaynağı olmuştur.”

5) Yukarıdaki ifadede altı çizili deyimden hangisinin anlamı hangisidir?

- A) Sessiz, sakın
- B) Fırsatçı, kurnaz
- C) Dertli, acılı
- D) Sinirli, hassas

- 1. değeri
- 2. ölçülür
- 3. kitapların
- 4. bir
- 5. okuduğu
- 6. insanın
- 7. değeriyle

6) Numaralandırılmış sözcüklerle anlamlı ve kurallı bir cümle oluşturulduğunda sıralama nasıl olur?

- A) 4-6-7-2-1-3-5
- B) 3-1-6-2-5-4-7
- C) 4-6-1-5-3-7-2
- D) 3-7-2-1-5-4-6

“Grimm Kardeşler'in yazdığı masallardan biridir. Fabl uslubunda yazılmıştır. Sahiplerinin kendilerine olan kötü tutumundan dolayı evden kaçan bir eşek, bir köpek, bir kedi ve bir horozun Bremen'e gidip orada müzisyenlik yapma düşleri ana temadır.”

7) Yukarıda tanıtılan “Bremen Mızıkacıları” kitabını anlatan hangi ifadede kişileştirme sanatı yoktur?

- A) Hayvanların müzik grubu kurmaya karar vermeleri
- B) Hayvanların evden üzülmeye ayrılması
- C) Hayvanların yolda planlar kurması
- D) Hayvanların bir süre sonra acıkması

Aşık Veysel Şatıroğlu, 1894'te Sivas'ın Şarkışla ilçesine bağlı Sivrialan köyünde dünyaya geldi. Annesi Gülizar, babası "Karaca" lakaplı Ahmet adında bir çiftçiydi. Veysel'in iki kız kardeşi, yörede yaygınlaşan çiçek hastalığına yakalanarak yaşamlarını yitirdi. Ardından Veysel de yedi yaşında aynı hastalıktan dolayı iki gözünü de kaybetti.

8) Yukarıdaki paragrafta “Aşık Veysel” ilgili aşağıdaki bilgilerden hangisine yer verilmemiştir?

- A) Doğum yerinin neresi olduğuna
- B) Babasının lakabının ne olduğuna
- C) Kardeşlerinin hayatını kaybetmelerinin nedenine
- D) İlk şiirini nasıl yazdığına

Bilmezler yalnız yaşamayanlar,
Nasıl korku verir sessizlik insana;
İnsan nasıl konuşur kendisiyle;
Nasıl koşar aynalara,
Bir cana hasret,
Bilmezler.

9) “Orhan Veli Kanık”a ait verilen yukarıdaki şiirin ana duygusu hangisidir?

- A) Özlem
- B) Umut
- C) Yalnızlık
- D) Telaş

İnsan önce içindeki sıkıntıyı dağıtmazsa yer değiştirmek daha fazla bunaltır onu: Nasıl ki yerine oturmuş yükler daha az engel olur geminin gidişine. Bir hastaya iyilikten çok kötülük edersiniz yerini değiştirmekle. Hastalığı azdırırsınız kimildatmakla, nasıl ki kazıklar daha derine gidip sağlamlaşır sarsıp sallamakla. Onun için kalabalıktan kaçmak yetmez, bir yerden başka bir yere gitmekle iş bitmez: İçimizdeki kalabalık hallerimizden kurtulmamız, kendimizi kendimizden koparmamız gerek.

10) Bu metnin ana düşüncesi aşağıdakilerden hangisidir?

- A) İnsan önce kendi içiyle barışmalı, kendi içinde sıkıntıyı dağıtmalıdır.
- B) Engeller bizi başarıya götürür.
- C) Kalabalıktan kaçmak her zaman çözümdür.
- D) İnsan insana ihtiyaç duyar.
- E) İnsan önce kendi içiyle barışmalı, kendi içinde sıkıntıyı dağıtmalıdır.

Bir ikilidir ağlamak ve gülmek. Ağlamak, sanılanın aksine çaresizlik, zayıflık, güçsüzlük demek değildir bence. Gariptir belki... Ama ben ne zaman ağlayan birini görsem, içim gerçekten acısa dahi bir miktar da sevinirim. Çünkü üzülmeyi becerebilen bir kişi, sevmeyi de bir o kadar iyi becerebilir. Çünkü, ağlayabilen bir insan gülmenin o mükemmel kıymetini belki de daha iyi anlayabilir.

11) Yukarıdaki paragrafın konusu hangisinde doğru verilmiştir?

- A) Gülmek ve ağlamak arasında bağ olduğu
- B) Gülmenin bir hazine kadar değerli olduğu
- C) Ağlamanın insanı üzüntüye sevk ettiği
- D) Ağlamak hissini insanların sevmediği

Kitaptan niçin korkarlar? Bunu bir türlü anlayamadım. Kitaptan korkmak...

12) Yukarıdaki cümle hangisiyle tamamlanması anlatımın akışını bozar?

- A) İnsanın kendisinden korkmasıdır.
- B) Gerçeklerden kaçmak demektir.
- C) Her insanın ihtiyaç duyduğu bir davranıştır.
- D) Bir bakıma doğru bilgiyi istememektir.

Türkiye Büyük Millet Meclisi, 23 Nisan 1920'de Osmanlı Devleti'nin İtilaf Devletleri 'nce işgali sırasında direniş gösteren Türk Milletinin oluşturduğu irade ile kuruldu.

13) Yukarıdaki cümlede aşağıdaki sorulardan hangisinin yanıtı yoktur?

- A) Ne? B) Nasıl?
- C) Ne zaman? D) Nerede?

14) Aşağıdaki cümlelerden hangisi paragrafın giriş cümlesi olmaya uygun değildir?

- A) Sözün kısası kitabı her yönüyle severim.
- B) Anlatılana dalıp gitmekten de hoşlanırım.
- C) Odamdan dışarıya çıktığım zamanlar, yanıma küçük boyda bir kitap almayı hiç unutmam.
- D) Bakarsınız, kalabalık içinde insana ansızın yalnızlık çökebilir.

(1) Bal porsuğu uzun, kalın ve sırt boyunca geniş bir gövdeye sahiptir. (2) Gevşek olan cildi serbestçe dönmesine ve bükülmesine izin vermektedir. (3)Ağız ve burnu kısa olan bal porsuğunun kafası küçük ve düzdür. (4)Sevimli küçük gözleri hayatla mücadelesinde en büyük yardımcısıdır.

15) Yukarıda numaralandırılmış cümlelerin hangisi kişisel bir düşünce ifade eder?

- A) 1 B) 2 C) 3 D) 4

Görmüş geçirmiş, anasının gözü bir horoz Tünemiş bir ağacın dalına.

Kurnaz tilki, sesini yumuşatarak, ona Dedi ki: "Kardeşliğim, artık dostuz; Barış oldu hayvanlar arasında.

Müjde getirdim sana, in de bir öpüşelim; Ama Allah aşkına oyalanma; Çünkü bilirsin ya, başımdan aşkım işlerim. Oysaki siz serbestsiniz daima, İşleri düşünemeye bilirsiniz; Hem artık siz yardım da ederiz. Ama, kuzum, in de aşığıya bir Doya doya öpeyim gözlerinden

16) "La Fontaine" nin yazmış olduğu bu metnin türü hangisidir?

- A) Hikaye B) Fabl C) Masal D) Tiyatro

Matilda, kitap okumaya karşı doyulmaz bir iştahı olan çok zeki, olağanüstü bir kızdır. Üç yaşına geldiğinde evdeki gazete ve dergileri inceleyerek kendi kendine okumayı öğrenmiştir. Dört yaşına geldiğinde köy kütüphanesindeki tüm kitapları bir çırpıda bitirmiştir. Anne-babası Bay ve Bayan Wormwood ise onun işe yaramaz bir baş belası olduğunu düşünmektedir. Onların yalnızca televizyon izlemekle ve insanları aldatarak para kazanmakla ilgili olduklarını gören Matilda, anne-babasını cezalandırmaya karar verir. Kendisine her kötü davrandıklarında şu ya da bu şekilde buna bir karşılık verecektir. Bu zeki, sevimli küçük kız çok geçmeden doğaüstü güçleri olduğunu da keşfedecektir. Bu güçler yalnızca evde değil, Matilda ve sınıf arkadaşlarının gelmiş geçmiş en korkunç başöğretmen olan Bayan Trunchbull'la başa çıkarken de çok işine yarayacaktır.

17) Metne göre hangisi Matilda' nın özelliklerinden değildir?

- A) Anne babasına karşı tavır alması
- B) Tam bir kitap kurdu olması
- C) Okumayı kendi çabasıyla öğrenmesi
- D) Öğretmen olmak hayaliyle yaşaması

18) Aşağıdaki cümlelerin hangisinde neden sonuç anlamı vardır?

- A) Zamanın ünlü bilgini Beydeba, Debşelim'in huzuruna çıkar.
- B) Kendinden emin bir şekilde ona yanlışı yaptığını söyler.
- C) Debşelim, şaşırır ve Beydeba'ya çok kızar.
- D) Daha sonra haklı olduğunu anladığı için yumuşar.

Melody'nin hastalığının adı Spastik ikili kuadripleji(beyin felci). Yürüyemiyor, konuşamıyor, tekerlekli sandalyeye mahkum. Hiçbir uzvuna komut veremeyen bu küçük kızın beyni ise mükemmel işliyor.

19) Hangisi altı çizili kelimelerde görülen ses olaylarından değildir?

- A) Ünsüz Benzeşmesi(Sertleşmesi)
- B) Ünlü Daralması
- C) Ünsüz Yumuşaması(Değişimi)
- D) Ünlü(Hece) Düşmesi

20) Aşağıdaki cümlelerde altı çizili kelimelerden hangisinin aldığı ek nedeniyle anlamı değişmemiştir?

- A) Amasya'da birçok ünlü insan yaşamıştır.
- B) Şehirde yer alan tarihi binalar herkes tarafından beğenilir.
- C) Anadolu'nun iç kesimlerinde bulunan bir yerdir.
- D) Araştırmacı birçok insan burayı ziyaret eder.



Adı-Soyadı:..... Sınıf:..... Numarası:.....

Mehmet babasıyla toptan çorap almak için alışverişe çıkmıştır.4 çifti 7 TL'den 280 çift çorap almışlardır. Bu alışverişten sonra Mehmet'in babasının cebinde 75 TL parası kalmıştır. Babası Mehmet'ten toptancıya giderken cebinde kaç TL parası olduğunu bulmasını istemiştir.

1) Mehmet doğru cevabı bulduğuna göre babasının cebinde önceden kaç TL vardır?

- A) 535 B) 565 C) 615 D) 685

Meral Hanım oğlu Burak'a uzaktan eğitim sürecinde kitap okuma alışkanlığı kazandırmak amacıyla her gün belli bir artış miktarıyla 155 sayfalık bir kitap okutmayı hedeflemektedir. İlk gün 5 sayfa kitap okuyan Burak'a annesi diğer gün bir önceki gün okuttuğunun 2 katı kadar sayfa okumasını istemiştir.

2) Burak bu kitabı belirlenen örüntüye göre kaç günde bitirir?

- A) 3 B) 5 C) 7 D) 10

Çin'in Wuhan kentinde meydana gelip dünyanın her tarafına yayılan Covid-19 (Corona) virüsünden kaynaklı olarak dünya genelinde yaklaşık olarak 1.130.000 kişi hastalık geçirmiştir.

3) Verilen bu sayı ile ilgili aşağıdakilerden hangisi yanlıştır?

- A) Okunuşu "Bir Milyon Yüz Otuz Bin" dir.
B) Milyonlar basamağındaki rakamın sayı değeri 1'dir.
C) Yüz binler basamağı ile milyonlar basamağındaki rakam aynıdır.
D) Binler bölüğündeki sayıların basamak değerleri toplamı 4'tür.

$$2^3 + (3 \times 2)$$

4) Yukarıda verilen işlemde aradaki "+" işaretini "-" olarak gören Ali işlemin sonucunu 2 olarak bulmuştur.

Eğer Ali işlemi doğru yapmış olsaydı bulduğu sonuç ile yanlış bulduğu sonuç arasındaki fark kaç olurdu?

- A) 18 B) 16 C) 14 D) 12

I. $15 \times 9 = (15 \times 10) - 15 = 135$

II. $17 \times 100 = 1700$

III. $16000 \div 200 = 800$

IV. $135 \div 5 = (135 \times 2) \div 10 = 270$

V. $4530 \div 10 = 435$

5) Yukarıda verilen matematiksel işlemlerden kaç tanesi doğrudur?

- A) 1 B) 2 C) 3 D) 4

6) $3\frac{3}{7}$ işleminin sonucu aşağıdakilerden hangisine eşittir?

- A) $\frac{13}{7}$ B) $\frac{24}{7}$ C) $\frac{27}{7}$ D) $\frac{29}{7}$

7) $\frac{48}{72}$ kesrinin en sade hâli aşağıdakilerden hangisidir?

- A) $\frac{2}{3}$ B) $\frac{4}{9}$ C) $\frac{6}{9}$ D) $\frac{8}{11}$

8) $\frac{7}{8}$, $\frac{7}{11}$, $\frac{7}{13}$ kesirlerinin büyükten küçüğe doğru sıralanışı aşağıdakilerden hangisidir?

- A) $\frac{7}{8} > \frac{7}{13} > \frac{7}{11}$
B) $\frac{7}{13} > \frac{7}{11} > \frac{7}{8}$
C) $\frac{7}{11} > \frac{7}{8} > \frac{7}{13}$
D) $\frac{7}{8} > \frac{7}{11} > \frac{7}{13}$

9) Hangi sayının $\frac{7}{9}$ 'u 56'dır?

- A) 72 B) 76 C) 80 D) 90

10) $(\frac{1}{2} + \frac{1}{4}) - \frac{1}{8}$ işleminin sonucu kaçtır?

- A) $\frac{1}{2}$ B) $\frac{3}{4}$ C) $\frac{4}{8}$ D) $\frac{5}{8}$

11) Canan, Merve ve Ali isimli üç arkadaşın ceplerinde bulunan paralar sırasıyla 6,03 TL, 6,3TL ve 6,20 TL'dir. Buna göre bu üç arkadaşın ceplerinde bulunan paraların büyükten küçüğe doğru sıralanışı aşağıdakilerden hangisidir?

- A) Canan, Merve, Ali
B) Merve, Ali, Canan
C) Ali, Canan, Merve
D) Canan, Ali, Merve

12) Ahmet 50TL olan harçlığının birinci gün 20 lira 5 kuruşunu, ikinci gün ise 6 lira 13 kuruşunu harcıyor. Kalan parasının tamamını ise üçüncü gün harcamayı planlıyor. **Buna göre Ahmet üçüncü gün ne kadar para harcamıştır?**

- A) 23,37 B) 23,82 C) 24,17 D) 23,92

13) Aşağıda ondalık gösterimi verilen sayılardan hangisinde basamak değeri 0,03 olan bir sayı bulunmaktadır?

- A) 13,36 B) 35,56 C) 11,23 D) 40,31

14) Bir sayı doğrusunda 3 ile 4 doğal sayılarının arası beş eşit parçaya ayrılıyor ve daha sonra 3 sayısının sağına doğru olacak şekilde 3 parçası alınarak işaretleniyor. **İşaretlenen bu kısmın ondalık olarak gösterimi aşağıdakilerinden hangisidir?**





- A) 3,6 B) 3,5 C) 3,4 D) 3,3

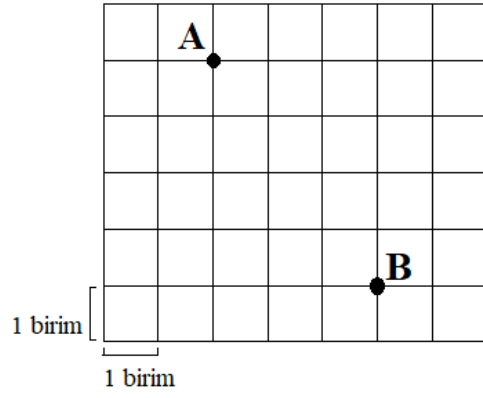
15) $\frac{3}{5}$, %32, 50 kuruş ve 0,7

Yukarıda farklı gösterimleri verilen çokluklar **büyükten küçüğe** doğru sıralandığında sondan ikinci sırada hangisi yer alır?

- A) $\frac{3}{5}$
B) %32
C) 50 kuruş
D) 0,7

16) Aşağıdakilerden hangisinin sembolle gösterimi **doğrudur?**

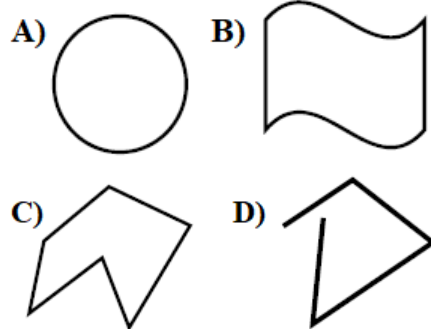
- A)  AB
B)  [CD]
C)  EF]
D)  [KL]



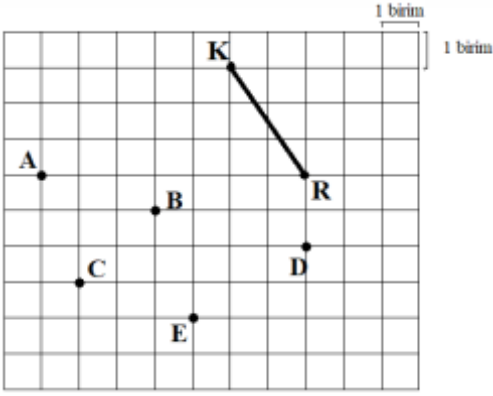
17) Birim karelerden oluşan kâğıtta verilen B noktasının A noktasına göre konumu aşağıdakilerden hangisidir?

- A) 4 birim yukarısında 3 birim sağında
B) 3 birim sağında 4 birim aşağısında
C) 3 birim solunda 4 birim yukarısında
D) 4 birim aşağısında 3 birim solunda

18) Aşağıdakilerden hangisi **cokgendir?**



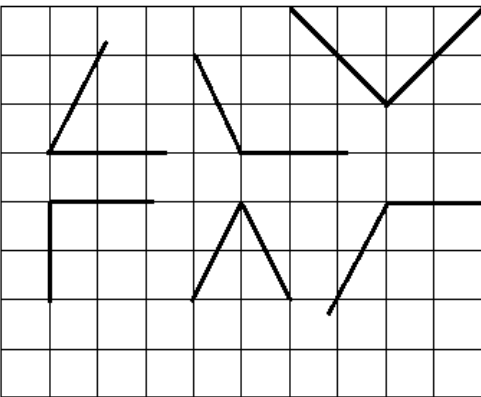
- 19) Birim karelerden oluşan kâğıtta [KR] ve A, B, C, D, E noktaları verilmiştir.



Aşağıdaki seçeneklerde verilen nokta çiftlerinden hangileri bir doğru parçasıyla birleştirilirse elde edilen doğru parçasının uzunluğu [KR]'nin uzunluğuna eşit olur?

- A) A ile B
- B) B ile C
- C) C ile D
- D) D ile E

- 20) Aşağıda birim karelerden oluşan kareli kâğıtta verilen açılardan kaç tanesi geniş açıdır?



- A) 2
- B) 3
- C) 4
- D) 5

1) Ali, Ay'ın Güneş ve Dünya etrafında hareketlerini araştırıyor. **Bu araştırma sonuçlarına göre Ay hareketleri ile ilgili aşağıdaki ifadelerden hangisine ulaşamaz?**

- A) Ay kendi etrafında dönebilir.
- B) Ay, Dünya'nın etrafında dolanabilir.
- C) Ay, Dünya ile birlikte Güneş'in etrafında dolanabilir.
- D) Ay, Güneş ile birlikte Dünya etrafında dolanabilir.



2) Ayşe, Güneş ve Ay'ı boyutlarına göre modellemek istiyor. Bunun için sınıfa aşağıdaki model örneklerini getiriyor.

- 1. 1. Voleybol topu
- 2. 2. Misket
- 3. 3. Fitness topu
- 4. 4. Basketbol topu

Buna göre Selin, hangi örnek ikilisini sırasıyla kullanırsa Güneş ve Ay'ı doğru modellemiş olur?

- A) 1 ve 3
- B) 4 ve 3
- C) 3 ve 2
- D) 2 ve 1

3) Babası fen bilimleri öğretmeni olan Hatun bir akşam gökyüzüne baktığında Ay'ı göremez ve babasına nedenini sorar. **Babası aşağıdaki açıklamalardan hangisini yaparsa doğru açıklama yapmış olur?**

- A) Güneş Dünya ile ay arasına girdiğinden Ay görünmez.
- B) Ay Güneş ile Dünya arasına girdiğinden Ay görünmez.
- C) Dünya Güneş ile Ay arasında girdiğinden Ay görünmez.
- D) Sırası ile Ay-Güneş-Dünya şeklinde hizaya geldiğinden Ay görünmez.

4) Galileo yaklaşık 400 yıl önce kendi icadı olan teleskopla, kâğıt üzerine düşürdüğü Güneş lekelerinin zamanla aynı yöne doğru kaydığını fark etmiştir.

Bu buluşundan yararlanan Galileo Güneş'in hangi özelliğini keşfetmiştir?

- A) Isı ve ışık kaynağı olmasını
- B) Dünya'ya olan uzaklığını
- C) Kendi eksenini etrafında döndüğünü
- D) Dünya'dan çok daha büyük olduğunu

5) Aşağıda bazı canlı türlerine ait görseller numaralar ile gösterilmiştir.



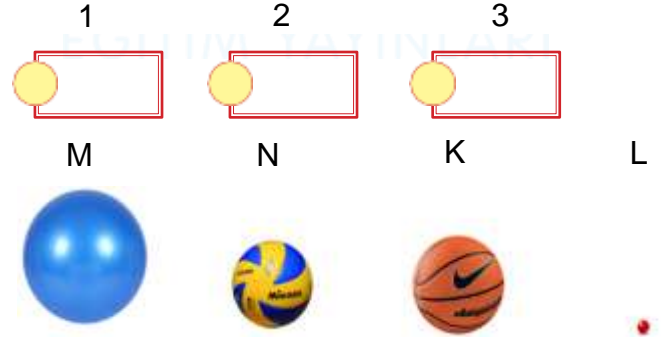
Buna göre verilen canlılar çoğalma şekillerine göre gruplandırılırsa hangi seçenekte belirtilenler doğru olur?

	Yumurta ile çoğalanlar	Doğurarak çoğalanlar
A)	1-3-4-7	2-5-6
B)	4-6-7	1-2-5-3
C)	5-6-7	1-2-3-4
D)	3-4	1-2-5-6-7

6) Cemile, Ay'ın yapısı ile ilgili araştırmalar yapmıştır.

Cemile'nin yaptığı araştırmalar sonucunda aşağıdaki bilgilerden hangisine ulaşması beklenmez?

- A) Dünya'mızın uydusudur.
- B) Yüzeyi toz tabakası ile kaplıdır.
- C) Gece gündüz sıcaklık farkı çok azdır.
- D) Yağmur, kar, rüzgâr gibi hava olayları görülmez.



7) Arda, farklı numaralar verdiği etiketleri farklı büyüklüklerde topların üzerine yapıştırarak Güneş, Dünya ve Ay modeli yapacaktır.

Arda'nın yapacağı modellerle ilgili aşağıdaki ifadelerden hangisi yanlıştır?

- A) 1 numaralı etikete Güneş yazdıysa etiketi M topuna yapıştırmalıdır.
- B) 2 numaralı etikete Ay yazdıysa etiketi N topuna yapıştırmalıdır.
- C) 3 numaralı etikete Dünya yazdıysa etiketi M topuna yapıştırmalıdır.
- D) Etiketleri doğru yapıştırdığında toplar Güneş, Ay ve Dünya şeklinde sıralanır.

8) Ay'ın evreleri ile ilgili etkinlik yapan Mustafa Öğretmen öğrencilere şekildeki evreyi göstermiştir.



Daha sonra bu evreden 2 hafta sonra hangi evrenin görüleceğini sormuştur.

Öğrenciler Mustafa Öğretmene aşağıdaki cevaplardan hangisini verirse soruyu doğru cevaplamış olurlar?

- A) Yeni Ay
- B) Dolunay
- C) İlk dördün
- D) Son dördün

9) Güneş, Dünya ve Ay modeli yapacaktır.



Esmâ Güneş modeli için sarı, Dünya modeli için mavi ve Ay modeli için kırmızı renk oyun hamuru kullanacağına göre Esmâ'nın yapacağı modellerle ilgili aşağıdaki ifadelerden hangisi yanlıştır?

- A) Oyun hamurlarını yuvarlayarak küre haline getirmelidir.
- B) 2 numaralı kutudan kullanacağı oyun hamuru 1 numaralı kutudan kullanacağı oyun hamurundan daha fazladır.
- C) 1 numaralı kutudan kullanacağı oyun hamuru 3 numaralı kutudan kullanacağı oyun hamurundan daha fazladır.
- D) 2 numaralı kutudan kullanacağı oyun hamuru 3 numaralı kutudan kullanacağı oyun hamurundan daha fazladır.

10) A bakterisi: İnsan vücuduna girerek bazı hastalıklara neden olur.

B bakterisi: Sütün yoğurda dönüşmesini sağlar.

A ve B bakterileri ile ilgili aşağıdaki özelliklerden hangisi ortaktır?

- A) Yararlı bakteriler olmaları
- B) Zararlı bakteriler olmaları
- C) Sadece insan vücudunda yaşamaları
- D) Mikroskop yardımı ile görülebilmeleri

11) Ebru, gün içerisinde farklı faaliyetler gerçekleştirmektedir.

Ebru'nun gün içerisinde gerçekleştirdiği aşağıdaki faaliyetlerden hangisi diğerlerinden daha fazla kuvvet gerektirir?

- A) Kalemle yazı yazmak
- B) İğneden ip geçirmek
- C) Cep telefonunu şarja takmak
- D) Küçük kardeşini kucağında taşımak

12) Yağız 20 Kasım 2018'de süt almak için markete gitmiştir.



Markette bulunan sütlerin son tüketim tarihleri üzerlerinde yazdığına göre Yağız'ın hangi numaralı sütü alması sağlık açısından sakıncalıdır?

- A) 1
- B) 2
- C) 3
- D) 4



13) Kuvvetin büyüklüğünü ölçmek için dinamometreler kullanılır. Şekilde K cisminin dinamometreye uyguladığı kuvvet gösterilmiştir.

K cisminin dinamometrede daha fazla uzamaya sebep olması için;

- I. Dinamometreye K cismi ile özdeş bir cisim daha asmak.
- II. Dinamometredeki yayı aynı maddeden yapılmış daha ince bir yay ile değiştirmek.
- III. K cismini ikiye bölüp yarısını almak.

işlemlerinden hangileri yapılabilir?

- A) Yalnız I
- B) I ve II
- C) II ve III
- D) I, II ve III

14) Ay hakkında verilen;

- I. Dünya'dan baktığımızda Ay'ın hep aynı yüzünü görürüz.
- II. Ay Dünya'ya en yakın ısı ve ışık kaynağıdır.
- III. Ay'ın gökyüzündeki farklı görünüşleri Ay'ın evreleri olarak adlandırılır.

bilgilerinden hangileri doğrudur?

- A) Yalnız I
- B) I ve III
- C) II ve III
- D) I, II ve III

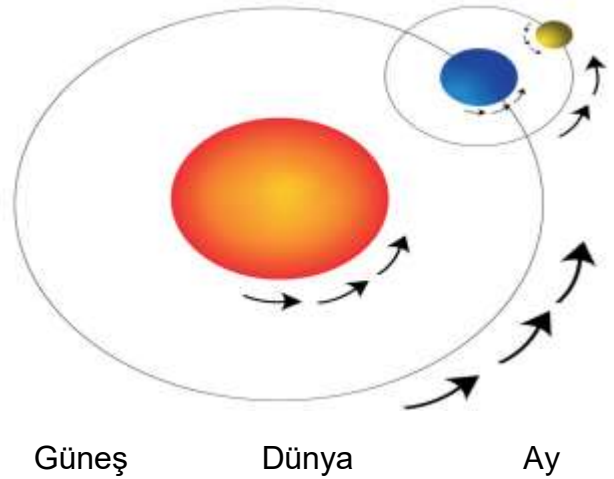
15) Aşağıda bir canlıya ait özellikler yazılmıştır.

- Yavrusunu sütle besler.
- Uçan bir canlıdır.
- Koyun ile aynı sınıflandırmada yer alır.

Özellikleri verilen canlı hangisi olabilir?

- A) Keçi
- B) Yarasa
- C) Leylek
- D) Serçe

16) Aşağıda Dünya, Güneş ve Ay'ın yer aldığı şekil görülmektedir.



Buna göre Dünya ve Ay için hangi seçenekte verilen özellik ortak değildir?

- A) Dönme yönleri
- B) Dolanma yönleri
- C) Şekilleri
- D) Büyüklükleri

17) Sürtünme kuvveti ile ilgili hangi seçenekte verilen sorunun cevabı diğerlerinden farklıdır?

- A) Sürtünme kuvveti harekete zıt yönde midir?
- B) Bisikletin zincirinin yağlanması sürtünme kuvvetini azaltır mı?
- C) Sürtünme motor parçalarının aşınmasını sağlar mı?
- D) Su direnci gemilerin hareketini kolaylaştırır mı?

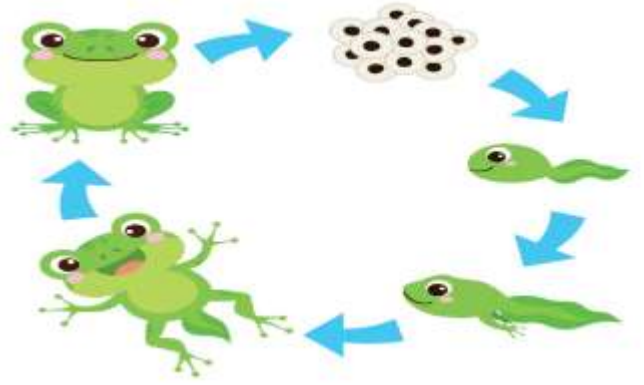
18) K ve L cisimlerinin özdeş dinamometrelerde meydana getirdiği uzama miktarları şekilde görülmektedir.



Buna göre K ve L cisimlerinin dinamometrelere uyguladığı kuvvetler hangi seçenekteki gibi olabilir?

	<u>K (N)</u>	<u>L (N)</u>
A)	3	2
B)	6	1
C)	6	2
D)	4	4

19) Kurbağanın yaşam döngüsü şekilde verilmiştir.



Buna göre hangi seçenekte verilen ifade yanlıştır?

- A) Yumurtadan çıkan canlı ana canlıya benzemez.
- B) Kurbağa yaşam döngüsü boyunca farklı değişimler geçirir.
- C) Kelebekler de benzer bir yaşam döngüsüne sahiptir.
- D) Yumurta ile çoğalan her canlı aynı döngüyü geçirir.

20) Şekildeki oyuncak araba verilen rampadan serbest bırakıldıktan sonra K noktasında durmuştur.



Oyuncağın daha uzun süre hareket etmesi için hangi seçenekte verilen öneri doğrudur?

- A) Oyuncağın hareket ettiği zemini yağlamak.
- B) Oyuncak arabanın tekerlerine zincir takmak.
- C) Zemini pürüzlü hale getirmek.
- D) Zemin üzerine kum serpmek.

- 1) Bir olayın birden çok nedeni ve sonucu olabilir. Buna bir olayın çok boyutluluğu denir.

Bu bilgilere göre bir olayın çok boyutluluğunu incelerken sormamız gereken sorulardan biri değildir?

- A) Olayın nedenleri nelerdir?
B) Olay hangi insanları etkilemiştir?
C) Olay hangi gün meydana gelmiştir?
D) Olayın sonuçları nelerdir?

- 2) Aşağıdakilerden hangisi haklarımız arasında değerlendirilemez?

- A) Eğitim
B) Barınma
C) Oy kullanma
D) Sağlık

- 3) Merhaba çocuklar ben okulda müdür yardımcısı, evde çocuklarımın babası, futbol takımında oyuncu, aynı zamanda Ali'nin amcasıyım.

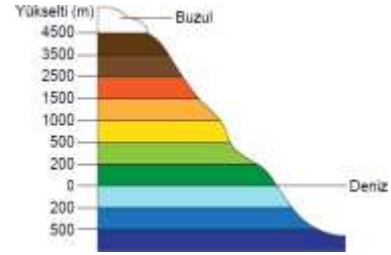
Buna göre, Ahmet bey kendini tanıtırken aşağıdakilerden hangisine vurgu yapmıştır?

- A) Yaşadığı çevrenin özelliklerini
B) Gelecekle ilgili planlarını
C) Mesleki yeterliliğini
D) Yaşadığı çevre içindeki rollerini

- 4) Dünyadaki bütün çocukların doğuştan sahip oldukları haklara **çocuk hakları** denilmektedir. Bu haklar devlet güvencesindedir.

Aşağıdakilerden hangisi bu haklara örnek gösterilemez?

- A) Bütün çocuklar eğitim hakkına sahiptirler
B) Her çocuk çalışarak aile bütçesine katkı yapmalıdır
C) Bütün Çocuklar sağlık hakkına sahiptirler
D) Her çocuk sağlık bir ortamda barınma hakkına sahiptir.



- 5) Haritalarda bulunan yükselti değerleri ile ilgili aşağıdaki yorumlardan hangisi yapılamaz?

- A) Deniz seviyesi sıfır olarak gösteriler.
B) 0-200 metre arası yükseltinin az olduğu yerlerdir.
C) Deniz derinleştikçe renk açık mavi olur.
D) 2500 metre ve üstü kahverengi olarak gösterilir.

6) Bazı Anadolu ve Mezopotamya medeniyetlerinin mezarlara, ölüleri eşyalarıyla gömmüşlerdir. Bunun nedeni aşağıdakilerden hangisidir?

- A) Komşu devletlerden etkilendiklerinin
- B) Ölümden sonra yaşama inandıklarının
- C) Dine dayalı yönetim anlayışını benimsediklerinin
- D) Tek tanrılı din inancına sahip olduklarının

7) Doğu Anadolu da yapılan kazılarda Urartulara ait Şamran denilen sulama kanallarına rastlanmıştır.

Bu durum aşağıdaki ekonomik faaliyetlerden hangisinin yapıldığını gösterir?

- A) Tarım
- B) Ticaret
- C) Hayvancılık
- D) Madencilik



8) Yukarıdaki görsele bakılarak aşağıdaki yorumlardan hangisi yapılabilir?

- A) Ege bölgesinde tarım gelişmiştir.
- B) En fazla okur-yazar oranı iç bölgelerdedir.
- C) Marmara bölgesinde nüfus yoğunluğu vardır.
- D) Güneydoğu Anadolu bölgesi göç almaktadır.

9) Kültürel unsurlar; milletin kaynaşmasını, dayanışmasını, birlik ve beraberlik içinde yaşamasını sağladığı için önemlidir.

Aşağıdakilerden hangisi toplumsal birlikteliği destekleyen kültürel unsurlardan değildir?

- A) Dini bayramlarımız
- B) Düğün törenlerimiz
- C) Misafirperverliğimiz
- D) Tarım alanlarımız



ZİGGURAT



TEKERLEK



ÇİVİ YAZISI

10) Yukarıdaki verilen görseller hangi medeniyete aittir?

- A) Sümerler
- B) İyonlar
- C) Asurlar
- D) Lidyalılar

11) Yemekler bir kültüre ait en önemli göstergelerdendir.

Aşağıdaki yemeklerden hangisi kültürümüze ait yemeklerden değildir?

- A) Kebap
- B) Çağ kebabı
- C) Döner
- D) Pizza

12) Büyük oranda veya tamamen insanların kontrolü dışında gerçekleşen, mal ve can kaybına neden olabilecek tehlikeli ve genellikle büyük çaplı olaylara **doğal afet** denir.

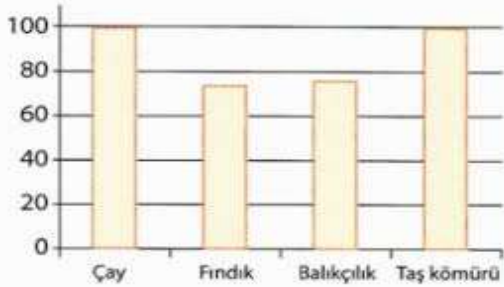
Buna göre aşağıdakilerden hangisi doğal değildir?

- A) Deprem
- B) Heyelan
- C) Maden göçüğü
- D) Sel

13) Hakim Hoca sabah kalkıp okula gitmek için hazırlanmıştır çıkmadan önce, kalın elbiseler giymiş; kabanını, montunu, atkı, bere ve botunu giymiştir.

Buna göre havanın nasıl olması beklenmez?

- A) Kar yağışlı
- B) Güneşli ve sıcak
- C) Yağmurlu
- D) Bulutlu ve soğuk



14) Yukarıdaki diyaframda ekonomik faaliyetlerin Türkiye üretimindeki payı verilmiştir.

Bu diyafram aşağıdaki bölgelerimizden hangisine aittir?

- A) Karadeniz Bölgesi
- B) Akdeniz Bölgesi
- C) Marmara Bölgesi
- D) Ege Bölgesi

1. Çay	A. Mersin
2. Fındık	B. Aydın
3. İncir	C. Siirt
4. Muz	D. Rize

15) Yukarıda verilen şehir ve ürünlerin doğru eşleşmesi aşağıdakilerden hangisidir?

- A) 1D – 2B – 3C – 4A
- B) 1D – 2C – 3B – 4A
- C) 1D – 2B – 3D – 4C
- D) 1B – 2D – 3C – 4D

16) Aşağıdakilerden hangisi girişimci insanların özelliklerinden biri **değildir**?

- A) Özgüvene sahiptirler.
- B) Geniş bir hayal gücüne sahiptirler.
- C) Çalışkandırlar.
- D) Kararsızdırlar.

17) Atatürk'ün "Hayatta en hakiki mürşit ilimdir." sözü aşağıdakilerden hangisine önem verdiğinin göstergesidir?

- A) Sanata
- B) Ekonomiye
- C) Bilime
- D) Spora

18) Buluş yapan insanların onları diğer insanlardan ayıran özellikleri vardır.

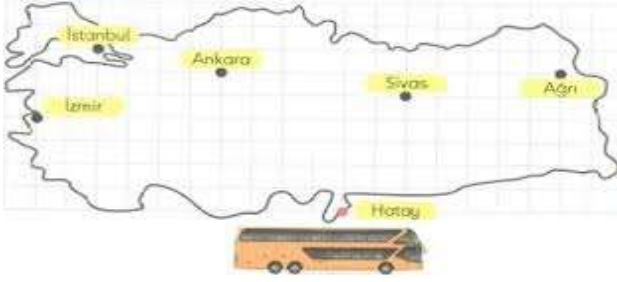
Aşağıdaki kişilik özelliklerinden hangisi bunlardan biri **değildir?**

- A) Çalışkan olmaları
- B) Sorgulayıcı olmaları
- C) Eleştiriye açık olmaları
- D) Önyargılıdırlar

19) Bir araştırma veya incelemede yararlanılan kaynakları gösteren listeye **kaynakça** adı verilir. Çalışmalarımız okuyan başka insanlar, kaynakçaya bakarak yararlandığımız kaynaklara ulaşabilir.

Aşağıdakilerden hangisi kaynakça bölümünde yer almaz?

- A) Yazarın gittiği okulların isimleri
- B) Yazarın soyadı ve adı
- C) Eserin adı
- D) Eserin basıldığı yer ve yılı



20) Yukarıdaki otobüs iklimin soğuk olduğu ve temel geçim kaynağının büyükbaş hayvancılık olduğu ille gidecektir.

Aşağıdakilerden hangisi bu otobüsün gideceği ildir?

- A) İstanbul
- B) Ağrı
- C) İzmir
- D) Ankara



1) Çeşitli galaksiler, gezegenler ve milyonlarca yıldızdan oluşan evren; genişliği ve büyüklüğü ile insanları hayrete düşürür. Bu haliyle evren, benzersiz bir sanatçının eseri olduğu görüntüsünü verir.

Evrene bakış açısı böyle olan birisinin aşağıdakilerden hangisini kabul etmediği söylenebilir?

- A) Allah'ın varlığını
- B) Yaratıcının kudretinin (gücünün) büyüklüğünü
- C) Evrenin kendi kendine oluştuğunu
- D) Yaratıcının bir olduğunu

2) Mustafa, öğretmenine: "Evrende birden fazla yaratıcı olsaydı nasıl bir sonuçla karşılaşırız?" diye sorar.

Mustafa'nın sorusuna öğretmeni tevhit inancına uygun olarak aşağıdaki cevaplardan hangisini vermiş olabilir?

- A) Her şey yine yerli yerinde ve düzenli olurdu.
- B) Evrendeki düzen devam ederdi.
- C) Evrenin düzeni bozulurdu.
- D) Evreni yönetmek daha kolay olurdu.

3) Arkadaşlarına ramazan ayı ile ilgili bilgi veren Ömer aşağıdaki şıklardan hangisinde **yanlış** bilgi vermiştir?

- A) Kur'an-ı Kerim ilk bu ayda indirilmiştir.
- B) Zekat bu ayda verilir.
- C) Fitre sadakası bu ayda verilir.
- D) Teravih namazı bu ayda kılınır.

4) İhlas suresinde "**Allah sameddir**" denilmektedir. Bu cümlede geçen "**samed**" ne anlama gelmektedir?

- A) Allah'ın bir olması, eşi ve benzerinin olmaması
- B) Allah'ın her şeye gücünün yetmesi
- C) Allah'ın her şeyi görmesi, bilmesi ve işitmesi
- D) Allah'ın hiçbir şeye muhtaç olmayıp, her şeyin O'na muhtaç olması

- **Ali:** Sadece namazdan sonra dua edilir.
- **Zeynep:** Allah ile iletişim kurma yoludur.
- **Mehmet:** Her zaman dua edilebilir.
- **Ayşe:** Sadece kendimize dua etmeliyiz.

5) Dua ile ilgili hangisi veya hangileri doğru bilgi vermiştir?

- A) Ali ve Mehmet
- B) Zeynep ve Mehmet
- C) Zeynep ve Ayşe
- D) Mehmet

6) Aşağıdakilerden hangisi Allah'a (c.c.) imanın, insan davranışlarına etkilerinden değildir?

- A) Dürüst ve doğru sözlü olmak
- B) Başkalarına zarar vermek
- C) Güzel söz söylemek
- D) Arkadaşlarına iyilik yapmak

7) Toplumsal hayatta nezaket kurallarına uygun davranışlar sergilemeye özen gösteren Mine aşağıdakilerden hangisini yapmamalıdır?

- A) Arkadaşıyla konuşurken göz teması kurmalıdır.
- B) Yolda yürürken dükkanın önünde oturan Ali Amcaya selam vermelidir.
- C) Kendisine verilen meyveyi yememelidir.
- D) Komşusunun rahatsız olacağı davranışlardan kaçınmalıdır.

- Bir kişinin bedeni, odası, elbisesi, eşyaları ve özel hayatının gizliliği demektir.
- "Ey iman edenler! Kendinizi tanıtip izin almadan ve içinde oturanlara selam vermeden başkalarının evlerine girmeyin." (Nur suresi, 27.ayet)

8) Yukarıda verilen tanım ve ayetle ifade edilen kavram aşağıdakilerden hangisidir?

- A) Mahremiyet
- B) Nezaket
- C) Gıybet
- D) Haset

İnsan toplum içinde yaşayan bir varlıktır. Toplum içinde yaşamının bazı kuralları vardır. Bunlar uzun zamanda oluşmuş ve toplum tarafından benimsenmiş kurallardır. Adap ve nezaket kuralları da bu kuralların bir kısmını oluşturur. Adap ve nezaket sahibi kişiler, başkalarını rahatsız edici söz ve davranışlardan kaçınırlar. Hem söz hem davranışlarında kibar olup büyüklerine saygı, küçüklerine sevgi ve şefkatle yaklaşırlar.

9) Buna göre aşağıdakilerden hangisi adap ve nezaket sahibi birinin yapacağı davranışlardan biri olamaz?

- A) Konuşurken kibarca konuşur.
- B) İnsanlarla karşılaştığında selam verir.
- C) Biri konuşurken sözünü keser.
- D) Birini kırdığında özür diler.

Sıfatlar	Semî	Basir	Tekvin	İlim
Görmesi	+			
İşitmesi		+		
Yaratması			+	
Bilmesi				+

10) Yukarıdaki tabloda Allah'ın sıfatları anlamlarıyla verilmiştir. Hangi sıfatların anlamı yanlış işaretlenmiştir?

- A) Tekvin ve Basir
- B) Basir ve Semi
- C) Semi ve İlim
- D) İlim ve Tekvin

- Kendisine Zebur adlı bir ilahi kitap verilmiştir.
- Gür ve güzel bir sese sahipti.
- Demiri işleyip zırh yapmıştır.
- Peygamberliğin yanı sıra hükümdarlık da yapmıştır.

11) Yukarıda hakkında bilgi verilen peygamber aşağıdakilerden hangisidir?

- A) Hz. İbrahim
- B) Hz. Davut
- C) Hz. Süleyman
- D) Hz. Lokman

12) Kültürümüzde “aşure tatlısı” olarak bilinen yemek, hangi ay içerisinde yapıp komşuya, akraba ve arkadaşlara dağıtılır?

- A) Muharrem Ayı
- B) Ramazan Ayı
- C) Recep Ayı
- D) Şaban Ayı

- I. Tan yerinin ağarmasıyla birlikte oruç yasaklarının başladığı zamana iftar denir.
- II. Ramazan ayında yatsı namazından sonra sünnet olarak kılınan namaz teravih namazıdır.
- III. Gücü yetenlerin Ramazan ayında vermeye yükümlü oldukları sadakaya fidiye denir.

13) Yukarıda verilen bilgilerden hangisi veya hangileri yanlıştır?

- A) I ve II
- B) I ve III
- C) Yalnız I
- D) I,II ve III

“Acaba onlar bir yaratıcı bulunmadan mı yaratıldılar,yoksa yaratıcı kendileri midir?” (Tur Suresi,6.ayet)

“Görmezler mi üstlerinde uçan kuşları? Onları gökte, ancak rahman tutmakta. Şüphe yok ki O, her şeyi görür.” (Mülk Suresi, 19.ayet)

“Geceyi, gündüzü, güneş’i ve ay’ı sizin hizmetinize O verdi. Bütün yıldızlar da O’nun emrine boyun eğmişlerdir. Şüphesiz ki bunda aklını kullanan bir toplum için ibretler vardır.”(Nahl Suresi,12.ayet)

14) Yukarıdaki ayetler göz önüne alındığında aşağıdakilerden hangisi evrenin bir yaratıcısı olduğuna ulaşmak için Kur’an-ı Kerim’in gösterdiği bir yol olamaz?

- A) Kendi varlığımızdan hareketle inanmak
- B) Çeşitli gök cisimlerine bakarak inanmak
- C) Kelime-i Şehadeti söyleyip düşünmeden inanmak
- D) Hayvanlar üzerine düşünerek inanmak

İslam’ı diğer dinlerden ayıran en önemli özellik, Tevhid inancına dayalı bir din oluşudur.Allah tarafından gönderilen bütün peygamberler, toplumda bu inancı yaymak ve yerleştirmek için mücadele etmişlerdir.

15) Aşağıda verilenlerin hangisinde “Tevhid inancı “ açıklanmıştır?

- A) Yüce Allah’ın bir ve tek olduğuna inanmak.
- B) Yüce Allah’ın her şeye gücünün yettiğine inanmak.
- C) Yüce Allah’ın merhametli ve affedici olduğuna inanmak.
- D) Yüce Allah’ın kötülerini cezalandırıcı olduğuna inanmak.



16) Aşağıdakilerden hangisi sofrada yemekle ilgili kurallardan değildir?

- A) Ağzımızda yemek varken konuşmak
- B) Yemeğe Basmekle ile başlamak
- C) Yemekten önce ve sonra elleri yıkamak
- D) Yemeği kendi önümüzden yemek

Tahiyyat Duası

Ettehiyyâtü lillâhi vessalevâtü vettayibât.
Esselâmü aleyke eyyühen-Nebiyü ve
rahmetüllâhi ve berakâtüh, Esselâmü aleynâ
ve alâ ibâdillâhis-Sâlihîn. Eşhedü en lâ ilâhe
illallâh ve eşhedü enne Muhammeden abdühü
ve Rasûlüh.

17) Tahiyyat duasında geçen "Tahiyyat" kelimesinin anlamı aşağıdakilerden hangisidir?

- A) Namaz kılmak
- B) Selamlamak
- C) Dua etmek
- D) Şükretmek

"Mübarek Ramazan ayı size geldi. Yüce Allah bu ayda size oruç tutmayı farz kıldı. Bu ayda sema (cennet) kapıları açılır, cehennem kapıları ise kapanır..." Hadis-i Şerif

18) Buna göre aşağıdakilerden hangisinin ramazanda yapılması beklenmez?

- A) Bu ayın gündüzleri oruçla geçirilmelidir.
- B) Bu ayda günahlar çokça bağışlanır.
- C) Nasılsa günahlar bağışlandığı için rahatlıkla günah işlenebilir.
- D) Bu ayı bol ibadetle ve sevapla geçirmek kârimıza olacaktır.



Ramazan ayında büyüklere özenen çocukların, sabahtan öğlene kadar ya da öğleden akşama kadar veya daha kısa bir süre için oruç tutmalarınadenir. Büyüklerin küçükleri oruca alıştırmak için verdikleri bu oruç türü, dinen oruç sayılmasa da faydalı bir uygulama olarak kabul edilmektedir.

19) Yukarıdaki boşluğa ne gelmelidir?

- A) Diş kirası
- B) Tekne orucu
- C) Aşure günü
- D) Hırka-i Şerif



Allahım senin rızan için oruç uttum, sana inandım, sana sığındım, senin rızkınla orucumu açtım. Hamdolsun verdiğin nimetlere sağlık ve afiyete. Ey bağışlaması bol rabbim beni ailemi devletimi milletimi ve bütün inananları koru. Rahmetini ve yardımını biz aciz kullarından esirgeme

20) Yukarıda yapılan dua ne duasıdır?

- A) İftar Duası
- B) İmsak Duası
- C) Sahur duası
- D) Ramazan duası

1) Fill in the blanks.

Adjectives	Opposites
beautiful	ugly
lazy	hardworking
rude	

- A) weak
- B) funny
- C) brave
- D) kind

2) My parents like watching They can learn different kind of animals.

- A) cartoon
- B) animation
- C) documentary
- D) horror

3) Alice: What is the movie about?

John:

- A) It is at half past seven.
- B) I hate science- fiction movies.
- C) It is about a brave girl.
- D) Yes, I do.

4) Jasmin: What is your favourite movie character?

Steve: Spiderman. I think he is very.....and strong.

- A) lazy
- B) ugly
- C) weak
- D) brave

	horror	cartoon	comedy	drama
Tina	☺	☹	☹	☺
Jack	☺	☹	☹	☺
Mike	☹	☹	☺	☺
Lisa	☺	☺	☹	☺

5) Which of the following is false according to the table?

- A) Lisa dislikes cartoons.
- B) Tina doesnt like comedies.
- C) All of them like watching dramas.
- D) Mike dislikes horror movies, but Jack enjoys watching horror movies.

6) "The Smurfs" is an animation movie. It is about the blue Smurfs and Gargamel. The Smurfs live in a forest. Gargamel is evil. He thinks he is very strong clever.



Which of the following is not mentioned in the text?

- A) What kind of a movie is it?
- B) What is the name of the movie?
- C) What time is the movie?
- D) What the the movie about?

7) Put the words in order.

hate/documentary/I/watching/it//because/is/boring

1 2 3 4 5 6 7 8

- A) 3-1-4-2-6-5-7-8
- B) 1-3-4-8-7-2-5-6
- C) 1-2-4-3-7-5-6-8
- D) 8-1-4-3-7-2-5-6

Positive	Negative
(1).....	Scary
honest	Boring
hardworking	(2).....

8) Fill in the blanks.

- A) boring/ interesting
- B) ugly/ beautiful
- C) kind/ brave
- D) funny/ weak

Hi! I 'm Melanie. I love watching movies. My favourite movie is ‘Frozen’. It is an animation. My favourite movie character is Elsa. She is very beautiful.



9) What kind of a movie does Melanie love watching?

- A) horror
- B) animation
- C) cartoon
- D) adventure

10) Martin: What about watching “Harry Potter” this afternoon?

Bill: What kind of a movie is it?

Martin: It is an adventure movie.

Bill: Great.....They are my favourite.

Martin:

Which of the following completes the dialogue?

- A) OK, then. Let’s watch it.
- B) I hate adevnture movies.
- C) Nice to meet you.
- D) I’m afraid. I can’t.

11) Isabel: What is the date today?

Tony: It is

- A) August
- B) Monday
- C) quarter to ten
- D) the first of May

Answer the questions (12-14) according to the dialogue below.

Jacob: Hi Olivia! I have a birthday party next Saturday. Would you like to come?

Olivia: Great. Where is the party?

Jacob: At my garden.

Olivia: What time is it?

Jacob: It is at one o'clock.

Olivia: OK, then. See you on Saturday.

12) When is the party?

- A) at home
- B) at night
- C) on Saturday
- D) in the evening

13) In the dialogue there is NO information about the.....of the birthday party.

- A) time
- B) guests
- C) place
- D) date

14) Where is the party?

- A) at one o'clock
- B) on Saturday
- C) in the morning
- D) at Jacobs' garden

15) Which of the following is true according to the invitation card?



- A) It is in the morning.
- B) It is a birthday party.
- C) It is at five o'clock.
- D) It is at a cafe.

16)

To Do List

order the cake

organize the music

decorate the party room

.....

Complete the To Do List.

- A) invite friends
- B) brush teeth
- C) do origami
- D) play marbles

17) **Peter:** When is your birthday?

Sebastian: It is

- A) at home
- B) at half past seven
- C) on the twenty- second of June
- D) in the garden

18) **Find the odd one out.**

Winter- Summer- September- Spring

- A) Summer
- B) September
- C) Spring
- D) Winter

19) The birthday party is Friday three o'clock.

- A) in/ on
- B) at/ in
- C) on/ in
- D) on/ at

20) It is my best friends birthday party next week. I give her a gift.

- A) must
- B) am
- C) can't
- D) don't

CEVAP ANAHTARI

TÜRKÇE	MATEMATİK	FEN BİLİMLERİ	SOSYAL BİL.	DİN KÜLTÜRÜ	İNGİLİZCE
1) C	1) B	1) D	1) C	1) C	1) D
2) D	2) B	2) C	2) C	2) C	2) C
3) D	3) D	3) C	3) D	3) B	3) C
4) A	4) D	4) C	4) B	4) D	4) D
5) C	5) C	5) B	5) C	5) B	5) A
6) C	6) B	6) C	6) B	6) B	6) C
7) D	7) A	7) C	7) A	7) C	7) A
8) D	8) D	8) A	8) C	8) A	8) D
9) C	9) A	9) C	9) D	9) C	9) B
10) A	10) D	10) D	10) A	10) B	10) A
11) A	11) B	11) D	11) D	11) B	11) D
12) C	12) A	12) D	12) C	12) A	12) C
13) D	13) C	13) B	13) B	13) B	13) B
14) C	14) A	14) B	14) A	14) C	14) D
15) D	15) C	15) B	15) B	15) D	15) B
16) B	16) D	16) D	16) D	16) A	16) A
17) D	17) B	17) D	17) C	17) B	17) C
18) D	18) C	18) C	18) D	18) C	18) B
19) A	19) D	19) D	19) A	19) B	19) D
20) D	20) A	20) A	20) B	20) A	20) A