

İLKOKUL 4.SINIF

HAFTALIK EV ÖDEVİ
18-22 Mayıs



SIİRT İL MİLLİ EĞİTİM MÜDÜRLÜĞÜ
2020

Eskiden çeşit çeşit balıkların yaşadığı, koskocaman bir deniz varmış. Bu denizde bir çok balıkla birlikte alımlı, öylesine güzel, herkesin ona hayran olduğu küçük kırmızı bir balık yaşamış. Bu balık, çok alımlı olduğundan kimseyi beğenmezmiş. Herkese tepeden bakarmış. Bir gün böyle yalnız yüzerken ona koskocaman bir balık saldırmış. Kırmızı balığı, o beğenmediği arkadaşları kocaman balığın elinden kurtarmışlar. Küçük Kırmızı Balık, ölümden kurtulduğuna çok sevinmiş ve arkadaşlarından kendisini affetmelerini istemiş. Küçük Kırmızı Balık, bundan sonra asıl güzelliğın dış güzellik olmadığını, huy güzelliğının gerçek güzellik olduğunu anlamış.

İlk 5 soruyu yukarıdaki metne göre cevaplayın.

1. Küçük Kırmızı Balık, kendini diğer balıklardan neden üstün görmektedir ?

- A) Daha güzel ve alımlı olduğu için
- B) Diğer balıklardan daha büyük olduğu için
- C) Diğer balıklardan daha akıllı olduğu için
- D) Denizde yaşamaktan hoşlandığı için

2. Aşağıdakilerden hangisi Küçük Kırmızı Balık'ın özelliklerinden değildir?

- A) Kendini beğenmiş olması
- B) Alımlı ve güzel olması
- C) Herkesin ona hayran olması
- D) Diğer balıklardan büyük olması

3. Küçük Kırmızı Balık uğradığı saldırıdan nasıl kurtulmuştur ?

- A) Zekasını kullanarak oradan kaçmıştır.
- B) Büyük balığa yalvarmıştır.
- C) Beğenmediği arkadaşları kurtarmıştır.
- D) Büyük balığı ısırmıştır.

4. Hikayenin ana düşüncesi aşağıdakilerden hangisidir ?

- A) İnsan, birlikte yaşadığı insanlarla iyi geçinmelidir.
- B) Gerçek güzellik dış güzellik değil, huy güzelliğidir.
- C) Zor durumdaki insanlara yardım edilmelidir.
- D) Kendini beğenen insanlarla arkadaşlık yapılmaz.

5. Parçada geçen “ tepeden bakmak ” deyiminin anlamı hangisidir ?

- A) Alçak gönüllü davranmak .
- B) Birden bire öfkelenmek .
- C) Etrafına çok dikkat etmek
- D) Kendini karşısındakinden üstün görmek

6. ” Pazarıcı babama yardım ettiğini söyledi.”

Yukarıdaki cümlede anlam karışıklığını ortadan kaldırmak için hangi kelimedenden sonra **virgül** koymalıyız?

- A) pazarıcı
- B) babama
- C) yardım
- D) ettiğini

7. Aşağıdaki cümlelerden hangisinin sonuna soru işareti konulmaz?

- A) Bu soruyu nasıl çözdün
- B) Nasıl da tatlı gülüyor
- C) Sana olanları nasıl anlattı
- D) Bunları nasıl taşıyacaksınız

8. Aşağıdaki cümlelerin hangisinde öznel olmayan (nesnel) bir yargı söz konusudur?

- A) Ben herkesi koşuda geçirim.
- B) Ay, Dünya'mızın uydusudur.
- C) Bu civardaki en güzel kız benim.
- D) Herkes renkli gözlü insanları sever.

9. Aşağıdaki cümlelerin hangisinde mecaz anlamlı bir cümle kullanılmıştır?

- A) Amcam bana oyuncak getirmiş.
- B) Tombul yanaklı, şeker bir çocuktur.
- C) Sigara sağlığa zararlıdır.
- D) Akşamüstü dolu yağmaya başladı.

10. Aşağıdaki cümlelerden hangisi hayal ürünü öğeler içermektedir ?

- A) Hep birlikte araçlara bindik.
- B) Sonra oyunlar oynadık ve çok eğlendik.
- C) Özetle ödeşmiş olduk.
- D) Gölde denizkızı varmış, gidip bakalım mı?

11. “ Küçük çocuk, sokakta ağır ağır yürüyordu. “

Yukarıdaki cümleye göre hangi sorunun yanıtı yoktur ?

- A) Kim ?
- B) Nasıl ?
- C) Ne zaman ?
- D) Nerede ?

12) Aşağıdaki cümlelerin hangisinde zıt anlamlı sözcükler bir arada kullanılmıştır?

- A) Üç aşağı beş yukarı aynı fiyata geliyor.
- B) Yan yana oturuyorlar.
- C) Sakin ve sessiz dinlediler.
- D) Arka arkaya koştular.

- | | |
|--------------|--------------|
| 1.için | 2.kaybettiği |
| 3.Neşe | 4.ağladı |
| 5.oyuncağını | 6.çok |

13. Yukarıdaki sözcüklerle anlamlı ve kurallı bir cümle oluşturulursa doğru sıralama nasıl olmalıdır?

- A) 6-2-1-5-4-3
- B) 3-1-5-6-2-4
- C) 3-5-2-1-6-4
- D) 1-2-3-4-5-6

14. “Keşke derslerime biraz daha çalışsaydım, şimdi takdir belgesi almış olacaktım.”

Yukarıdaki cümlede aşağıdaki duygulardan hangisi dile getirilmektedir?

- A) özlem
- B) hayranlık
- C) pişmanlık
- D) Öfke

15. Aşağıdaki cümlelerin hangisinde noktalı yere “veya” yazılmalıdır?

- A) Seninle gelirim önce annemden izin almalıyım.
- B) Dün seni aradım telefonu kimse açmadı.
- C) Sinemaya cumartesi pazar günü gideceğiz.
- D) Dün gece erken yattım sabahleyin zor uyandım

16. “Derin” kelimesi cümlelerin hangisinde mecaz anlamda kullanılmıştır?

- A) Derin denizlerde yüzebiliyorum.
- B) Öğle saatlerinde derin bir uykuya daldı.
- C) Derin vadiler keşfedilmeyi bekliyor.
- D) Çorba koymak için derin bir tabak aldık.

17. Cümlelerin hangisinde terim anlamında kullanılan bir kelime yoktur?

- A) Sahnenin dekoru hazırlanmıştı.
- B) Oyun iki perdelikmiş.
- C) Elinde küçük ölçekli bir Türkiye Haritası vardı.
- D) O, benimle konuşunca kalbim yumuşadı.

18. Aşağıdaki cümlelerin hangisinde bağlaç olan “de” yanlış yazılmıştır?

- A) Toplantı saat 10.00’da başlayacakmış.
- B) Kutunun kapağında son kullanma tarihi yazıyordu.
- C) Yanına cüzdanını almayı da unutma.
- D) Sınıf gecesinde herkes çok eğlendi

19. Aşağıdaki cümlelerden hangisinin sonuna soru işareti (?) konmalıdır?

- A. Henüz gelip gelmeyeceğini öğrenemedim ()
- B. Okula saat kaçta gidiyorsun ()
- C. Bugün hava kapalı, yağmur yağabilir ()
- D. Evin geniş mi geniş bir salonu vardı ()

20. Aşağıdaki cümlelerin hangisinde abartılı ifade vardır?

- A) Sınıfımızın en uzun öğrencisi Murat’tır.
- B) Sedat’ın gözleri masmaavidir.
- C) Fırat, basketbol oynarken devleşiyor.
- D) Gülcan çok hızlı konuşuyor.

1. Açı ölçme birimi aşağıdakilerden hangisidir?

- A) İletki B) Pergel
C) Gönye D) Derece

2. Aşağıdakilerden hangisi açı ölçü birimidir?

- A) Metre B) Derece
C) Litre D) Kilogram

3. Doğru açı, dik açıdan kaç derece fazladır ?

- A) 45° B) 90°
C) 180° D) 270°

4. NKLM dikdörtgeninin köşegeni aşağıdaki doğru parçalarından hangisidir?



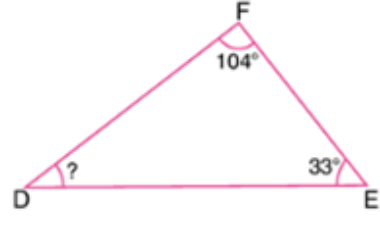
- A) [KL] B) [LM]
C) [KM] D) [NM]

5. Aşağıdaki karenin doğru olarak isimlendirmesi hangisidir?



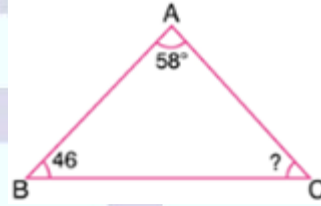
- A) FBLA B) ABLF
C) ABFL D) LBFA

6. Aşağıdaki FDE üçgeninde, $s(\hat{F}) = 104^\circ$ ve $s(\hat{E}) = 33^\circ$ dir. Buna göre $s(\hat{D})$ açısı kaç derecedir?



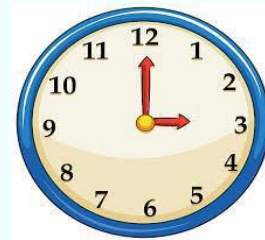
- A) 27 B) 37 C) 43 D) 53

7. Görselde verilen ABC üçgeninde, $s(\hat{BAC}) = 58^\circ$ ve $s(\hat{ABC}) = 46^\circ$ dir. Buna göre $s(\hat{ACB})$ açısı kaç derecedir?



- A) 56 B) 66
C) 76 D) 86

8)



Yukarıdaki saatin akrep ile yelkovanı dik açığa örnektir. Buna göre 1 saatlik zaman aralığı kaç derecedir?

- A)15 B)30 C)45 D)90

9. En büyük dar açı ile dik açının toplamı kaç derecedir?

- A) 179 B) 180
C) 245 D) 280

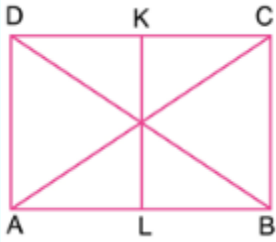
10. Aşağıdaki ifadelerden hangisi yanlıştır?

- A) Açılarını iletki ile ölçeriz.
B) 90° olan açılara dik açı denir.
C) Bir doğru açıda iki dik açı vardır.
D) Geniş açıları gönye ile çizeriz.

11. Bir dik açı ile bir doğru açının toplamı kaç derecedir?

- A) 90 B) 180
C) 270 D) 360

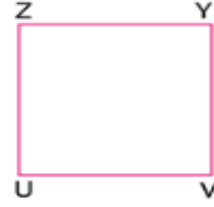
12.



Yukarıdakilerden hangisi ABCD dikdörtgeninin köşegenidir?

- A) [KL] B) [AB]
C) [DB] D) [BC]

13.



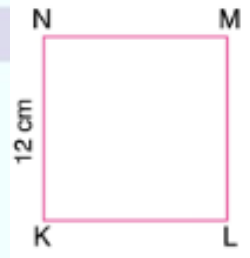
Yandaki kare , aşağıdakilerden hangisi gibi isimlendirilemez ?

- A) VYZU B) YVUZ
C) YUZV D) UVYZ

14. Aşağıdakilerden hangisi yanlıştır?

- A) Karenin bütün kenarlarının uzunlukları birbirine eşittir.
B) Karenin köşegen uzunlukları birbirinden farklıdır.
C) Dikdörtgenin iç açılarının ölçüsü birbirine eşit ve 90° dir.
D) Dikdörtgenin karşılıklı kenar çiftlerini oluşturan doğru parçalarının uzunlukları birbirine eşittir.

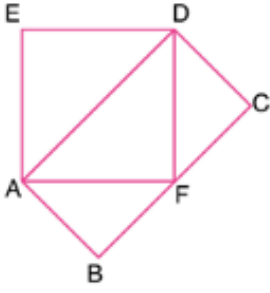
15.



Yukarıdaki KLMN karesinde $|KL| = 12$ cm'dir. Buna göre aşağıdakilerden hangisi yanlıştır?

- A) $|KL| = |KM|$ B) $|LM| = 12$ cm
C) $|MN| + |KL| = 24$ cm D) $|NK| = |MN|$

16.



Yukarıdaki şekilde ABCD bir dikdörtgen ve AFDE bir karedir. Buna göre, aşağıdakilerden hangisi bir köşegendir?

- A) |DF| B) |AF|
C) |DC| D) |AD|

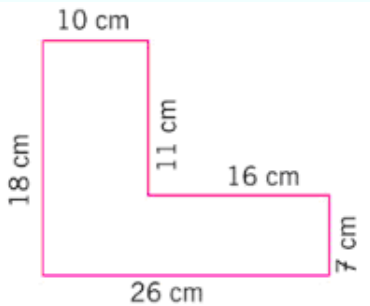
17. Kare şeklindeki tarlamızın çevresi 212 m'dir. Tarlamızın bir kenarı kaç metredir?

- A) 57 B) 53
C) 44 D) 67

18. Dikdörtgen şeklindeki bir tarlamızın uzun kenarı 105 m, kısa kenarı 72 m'dir. Tarlamızın çevresine 4 sıra tel çekmek istiyoruz. Kaç m.tel gereklidir?

- A) 1416 B) 354
C) 1254 D) 454

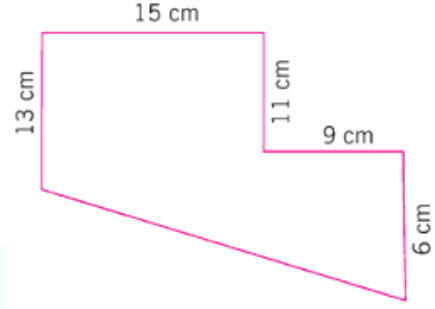
19.



Yukarıda verilen düzlemsel şeklin çevre uzunluğu kaç cm'dir?

- A) 58 B) 68 C) 78 D) 88

20.



Yukarıdaki şeklin çevresi 82 cm olduğuna göre, verilmeyen kenarın uzunluğu kaç cm'dir?

- A) 22 B) 24 C) 26 D) 28

1. Aşağıdakilerden hangisi yaşam alanının tanımıdır?

- A) Ormanlık alanlarla kaplı olan yer
- B) Hijyen bir çevre
- C) Canlıların yaşamını sürdürebilmesi için gerekli olan alan
- D) Suluk alan

2.

- I. Alışverişe çıkmadan önce liste hazırlamalıyız.
- II. Çabuk bozulabilecek besinleri gerektiğinden fazla almamalıyız.
- III. Besin maddelerini uygun koşullarda saklamalıyız.
- IV. İndirimdeki gıdaları fırsatı kaçırmamak için ihtiyacımızdan fazla almamalıyız.

Besin tasarrufuyla ilgili yukarıdaki ifadelerden hangisi veya hangileri doğrudur?

- A) I ve II
- B) I, II ve III
- C) I, III ve IV
- D) II, III ve IV

3. Aşağıdaki canlıların hangisinin yaşam alanı diğerlerinden farklıdır?

- A) Aslan
- B) Penguen
- C) Ayı
- D) Zürafa

4. Aşağıdakilerden hangisi hem su hem de karada yaşayabilir?

- A) Kurbağa
- B) Balık
- C) Kedi
- D) Sinek

5. Aşağıdaki ifadelerden hangisi doğrudur?

- A) Su hiç tükenmeyecek bir kaynağımızdır.
- B) Kağıt ve camın geri dönüşümü mümkün değildir.
- C) Işık yayarak çevresini aydınlatan varlıklara ses kaynağı denir.
- D) Mikrofon ve megafon sesin şiddetini artırır.

6. Aşağıdakilerden hangisi doğal ışık kaynaklarına aittirler?

- A) Meşale-ampul-şimşek
- B) Güneş-yıldız- mum
- C) Ateş böceği-şimşek-Güneş
- D) Floresan-şimşek-ateş böceği

7. Sıvıların bulunduğu kabın şeklini almasının sebebi nedir?

- A) Akışkan olması
- B) Belli bir şeklinin olması
- C) Bulunduğu ortama yayılması
- D) Hayat kaynağı olması

8. Aşağıdakilerden hangisi mıknatıs tarafından çekilir?

- A) Bardak
- B) Demir bilye
- C) Çakıl
- D) Altın yüzük

9. Aşağıdaki maddelerin hangisinin belirli bir şekli ve hacmi vardır?

- A) Süt B) Hava
C) Benzin D) Kalem

10. Aşağıdakilerden hangisinde maddenin hacmi ifade edilmiştir?

- A) 13 kg B) 6 t
C) 25 ml D) 30 cm

11. Gazın direkt sıvıya dönüşmesine ne denir

- A) Yoğunlaşma B) Bozunma
C) Kırışılma D) Süblimleşme

12. Duraktaki yolcuyu almak için minibüs şoförü hangi hareketi yapar ?

- A) Hızlanma B) Yavaşlama
C) Yön değiştirme D) Dönme

13. Saatin yelkovanının hareket etmesi hangi tür harekete örnektir ?

- A) Sallanma B) Yön değiştirme
C) Dönme D) Yavaşlama

14. Hangileri suyla karıştıığında çözelti meydana getirir ?

- A) Şeker B) Kum
C) pirinç D) Çakıl

15. Isınan ve ya soğuyan bir maddenin kütlelerinde ne gibi bir değişik gözlemlenir?

- A) Azalır
B) Değişir
C) Önce artar, sonra azalır
D) Değişmez

16. Katı maddelerin su içinde görünmeyecek şekilde dağılmasına ne ad verilir?

- A) Çözelti B) Çözünme
C) Karışım D) Bozunma

17. Aşağıdakilerden hangisi Dünya'nın gözlemlenebilen katmanlarının en dışında yer alır ?

- A) Atmosfer
B) Manto
C) Çekirdek
D) Su küre

18. Aşağıdakilerden hangisi diğerlerine göre daha fazla enerji veren besinlerle doludur ?

- A) Mandalina-limon-armut
B) Karnabahar-ıspanak-kabak
C) Leblebi-kavun-çilek
D) Fındık-fıstık-ceviz

19. Dünya'da aynı yönde giden tüm taşıtlar, eninde sonunda tekrar başladıkları yere geri döner. Bunun temel sebebi

aşağıdakilerden hangisidir?

- A) Dünya'nın kendi çevresinde dönmesi
- B) Dünya'nın Güneş etrafında dönmesi
- C) Dünya'nın yuvarlak olması
- D) Dünya'nın gezegen olması

20. Kayaçlar Dünya'nın hangi katmanında bulunur?

- A) Ateş kabuğu
- B) Yer kabuğu
- C) Çekirdek
- D) Atmosfer

Kurtuluş Savaşı'nda yaşlı kadın ve erkekler ile birlikte İnebolu'da bulunan cephanelerin Ankara'ya götürülmesinde çocuğu ve kağınsıyla yer alırken ağır kış şartları nedeniyle Aralık 1921'de hayatını kaybeden kahramanımızdır

Maraş'ta Fransız ve Ermeni işgaline karşı ilk tepkiyi vererek halkı direnişe geçirmiştir..

Milli Mücadele döneminde yaptıklarıyla Antep ve çevresi için sembol olmuş kahramanlarımızdandır.







1. Aşağıdaki Milli Mücadele kahramanlarımızdan hangisinden yukarıdaki metin kutularında söz edilmemiştir?

- A)Şahin Bey B)Şerife Bacı
C)Sütçü İmam D)Tayyar Rahmiye

2. Aşağıdaki hangi icat ulaşımaya katkı sağlamamıştır?

- A)Tekerlek B)Pusulula
C)Mikroskop D) Uçak

3.

--Kerem bulunduğu kareden 3kare kuzey,1 kare doğuya ilerlerse hangi hayvana ulaşır?

--Kerem bulunduğu kareden 2 kare güneye ,1 kare batıya ilerlerse hangi hayvana ulaşır?

Yukarıdaki iki sorunun doğru cevapları sırası ile hangi seçenekte verilmiştir?

- A)kuş,arı B)tavşan ,kuş
C)balık,tavşan D)kedi,balık

4. Bütçe hazırlayarak sahip olduğumuz parayı ve ne kadarını nereye harcayacağımızı bilir zor durumda kalmayız.

Aşağıdaki hangi atasözü bütçe ile ilgili olabilir?

- A)Paranın yüzü sıcaktır.
- B)Ayağını yorganına göre uzat.
- C)Paran çoksa kefil ol, işin yoksa şahit ol
- D)Bakarsan bağ, bakmazsan dağ olur.

5. Meslekler insanların ihtiyaçlarından ortaya çıkmıştır. Aşağıdaki hangi meslek farklı bir alandaki ihtiyacı karşılar?

- A)Hemşire
- B)Doktor
- C)Diş hekimi
- D)Polis

6. Tüketici olarak hepimiz çeşitli haklara sahibiz. Aşağıdakilerden hangisi tüketici olarak sahip olduğumuz haklardan biri değildir?

- A)Ürünün garanti belgesini istemek
- B)Bozuk çıkan ürünü belirlenen sürede iade etmek
- C)Ürünün fiyatını belirlemek
- D)Ürün hakkında satıcıdan bilgi almak

7. Çocuk Hakları Sözleşmesi ülkemizde..... yılında imzalanmıştır ve Bakanlığı kapsamında uygulanması sağlanmaktadır.

Yukarıdaki cümlede boşluklara sıra ile hangi sözcükler yazılmalıdır?

- A)1990-Sağlık
- B)1990-Aile ,çalışma Ve Sosyal Hizmetler
- C)1954 -Gençlik Ve Spor
- D)1890-İçişleri

8. Ceren: Zeka ve strateji oyunlarını çok severim .

Hira: Halk oyunlarını izlemeyi sever öğrenmeyi çok isterim.

Yukarıdaki öğrencilerin okuldaki hangi kulüplere üye olmaları doğru olur?

- A)Yeşilay /Folklor
- B)Bilinçli Tüketici /Satranç
- C)Satranç/Folklor
- D)Spor /Müzik

9. Halk oyunları kültürümüzün önemli bir ögesidir. Ülkemizde her bölgeye özgü halk oyunları vardır. Aşağıdaki hangi tabloda doğru bir eşleştirme yapılmıştır?

A)

Zeybek	Ege Bölgesi
Horon	Karadeniz Böl.
Bar	Doğu Anadolu Böl.
Kaşık	İç Anadolu Böl.

B)

Zeybek	İç Anadolu Böl.
Horon	Karadeniz Böl.
Bar	Doğu Anadolu Böl.
Kaşık	Ege Böl.

C)

Bar	İç Anadolu Böl.
Horon	Karadeniz Böl.
Zeybek	Doğu Anadolu Böl.
Kaşık	Ege Böl.

D)

Zeybek	İç Anadolu Böl.
Kaşık	Karadeniz Böl.
Bar	Doğu Anadolu Böl.
Horon	Ege Böl.

10. Aşağıdaki tabloda milli kültürü yansıtan öğeler işaretlenirse hangi seçenekteki tablo ortaya çıkar?

	hamam		market
	cami		saray
	okul		park
	köprü		müze

A)

x		x	
x		x	

B)

x			
x		x	
x		x	

C)

x		x	
x		x	
x			

D)

x			
x		x	
		x	
x		x	

11. Yeni kimlik kartları için hangisini söylemek yanlış olur?

- A)Nüfus cüzdanından daha küçüktür
- B)Üzerinde kart sahibinin imzası vardır.
- C)Kadın ve erkekler için farklı renktedir.
- D)Arka yüzünde birçok bilginin depolandığı çip vardır.

12. Aşağıdakilerden hangisi doğal afet olan çığ ve heyelanın ortak özelliğidir?

- A)Aşırı rüzgar sebep olur.
- B)Denize yakın yerlerde daha çok olur.
- C)Yer altında gerçekleşir.
- D) Bitki örtüsüne zarar vermek ve yok etmek bunlara sebeptir.

13. Bireylerin kendi üzerine düşen görevlerini yerine getirmesi ve davranışlarının sonuçlarına katlanmasına..... denir?

Yukarıdaki cümlede noktalı yere gelmesi gereken kelime hangisidir?

- A) sorumluluk B)hak
- C) özgürlük D) empati

14. Buldukları yer ile ülkemizin komşuları eşleştirilmiştir. Buna göre hangi eşleştirme yanlıştır?

- A)İran \implies Doğu
- B)Yunanistan \implies Batı
- C)Suriye \implies Güney
- D)Nahçıvan \implies Kuzey

15. Başkenti Atina'dır. Atatürk'ün doğduğu Selanik şehri bu komşumuzun sınırları içindedir.

Yukarıda sözü edilen ülke hangisidir?

- A)Bulgaristan B)Yunanistan
- C)Gürcistan D)İran

16. Asya kıtasında, ortak tarihi ve kültürel bağlarımız olan Türk Cumhuriyetleri yer alır. Aşağıdakilerden hangisi bu devletlerden biri değildir?

- A)Kırgızistan B)Azerbaycan
- C)Çin D)Özbekistan

17. Sakarya Savaşı

- Atatürk'ün Samsun'a çıkışı
- Büyük Millet Meclisi'nin açılması
- Sivas Kongresi

Yukarıdaki olaylar kronolojik sıraya konulursa en sonda hangisi yer alır?

- A) Sakarya Savaşı
- B)Büyük Millet Meclisi'nin açılması
- C) Atatürk'ün Samsun'a çıkışı
- D) Sivas Kongresi

18.Sözlü tarih yöntemi ile büyüklerimizden ailemizle ilgili birçok bilgi edinebiliriz. Aşağıdakilerden hangisi bu yöntemle edinebileceğimiz bir bilgi değildir?

- A)Ailemizin göç ettikleri yerler
- B)Ailemizin geçim kaynakları
- C)Yaşadıkları dönemdeki gelenek ve görenekler
- D)Gelecekte ailemizin yaşayacağı yerler

19. İstek ve ihtiyaçlara dair aşağıdaki ifadeler doğru yanlış olarak değerlendirilirse nasıl bir sıralama ortaya çıkar?

- Temel ihtiyaçlar kişiden kişiye değişiklik gösterir.
- Bütün isteklerimizi hemen yerine getirmek mümkün olmayabilir.
- İsteklerimiz karşılanmadığında yaşantımızı sürdüremeyiz.
- Temel ihtiyaçlar isteklerden önce karşılanmalı.


- A) Y / D / Y / D
- B) D / D / Y / Y
- C) Y / Y / Y / D
- D) D / D / Y / D

20. Aile bütçesini hazırlayan Hamza Bey'in giderler kısmına hangisini yazması doğru olmaz?

- A)Ev kirasını
- B) Aldığı maaşı
- C) Ulaşım masraflarını
- D)Mutfak masraflarını

1. Look at the pictures and write the words under the pictures. (Resimlere bakalım ve resimlerin altına kelimeleri yazalım.)

soil plant pebble pot goggles microscope tubes



2. Complete the sentences with the words. (Cümleleri kelimelerle tamamlayalım.)
Plant / scientist / stir / experiment / cut / cover / mix / pour

- 1- Newton is a
- 2- red and blue, you get purple.
- 3- Use a spoon to the liquid.
- 4- the paper with a scissors

- 5- Do an in a laboratory.
- 6- water from the bottle.
- 7- the seed with the cotton.
- 8- the flower in your garden

2. Write the correct colour. (Doğru rengi yazalım.)

- a. Mix red and blue, you get find
- b. Mix red and yellow, you get find
- c. Mix blue and yellow, you get find
- d. Mix black and white, you get find
- e. Mix red and white, you get find

3. Look at the picture and answer the question. (Resme bakalım ve soruları cevaplayalım.)



- 1- Where is the cat?
- 2- Where is the lamp?
- 3- Where is the ball?
- 4- Where is the book?
- 5- Where are the flowers?

Test Time

1. Görseli doğru ifade eden seçenek hangisidir?

- A. Cut the paper
- B. Fold the paper
- C. Do an experiment
- D. Line up the glasses



2. What is *experiment* in Turkish?

- A. Saksı
- B. Deney
- C. Tohum
- D. Bilim

3. Where is the box?

- A. It is between the teddy bears.
- B. It is near the teddy bear.
- C. It is in the teddy bear.
- D. It is opposite the teddy bear.



4. Mix yellow and red, you get.....

- A. Blue
- B. Pink
- C. Orange
- D. Green

CEVAP ANAHTARI

Türkçe

1	2	3	4	5	6	7	8	9	10	11	12	13	14	15	16	17	18	19	20
A	D	C	B	D	A	B	B	B	D	C	A	C	C	C	B	D	C	B	C

Matematik

1	2	3	4	5	6	7	8	9	10	11	12	13	14	15	16	17	18	19	20
D	B	B	C	B	C	C	D	A	B	C	C	C	B	A	D	B	A	D	D

Fen Bilimleri

1	2	3	4	5	6	7	8	9	10	11	12	13	14	15	16	17	18	19	20
C	B	B	A	D	C	A	B	D	C	A	B	C	A	D	B	A	D	C	B

Sosyal Bilimler

1	2	3	4	5	6	7	8	9	10	11	12	13	14	15	16	17	18	19	20
D	C	A	B	D	C	B	C	A	B	C	D	A	D	B	C	A	D	A	B

İngilizce


Answer Key (Cevap Anahtarı)

1. Look at the pictures and write the words under the pictures. (Resimlere bakalım ve resimlerin altına kelimeleri yazalım.)

soil plant pebble pot goggles microscope tubes



goggles



tubes



plant



pebble



soil



microscope



pot

2. Complete the sentences with the words. (Cümleleri kelimelerle tamamlayalım.)

1- Scientist

2- Mix

3- Stir

4- Cut

5- Experiment

6- Pour

7- Cover

8- Plant

3. Write the correct colour. (Doğru rengi yazalım.)

a. purple

b. orange

c. green

d. grey

e. pink

4. Look at the picture and answer the question. (Resme bakalım ve soruları cevaplayalım.)

1- It is next to the armchair.

2- It is on the table

3- It is under the table.

4- It is near the lamp.

5- They are in the vase.

Test Time

1- B 2- C 3- A 4- C

Çalıřmada Emeęi Geçen Öğretmenlerimiz:

Nevzat YILMAZ

(SINIF ÖĞRETMENİ-FEVZİ ÇAKMAK İLKOKULU)

Mukaddes KAYA

(SINIF ÖĞRETMENİ- FEVZİ ÇAKMAK İLKOKULU)

Onur ÇELEPÇIKAY

(SINIF ÖĞRETMENİ -GAZİ İLKOKULU)

Seda AYDINLI

(İNGİLİZCE ÖĞRETMENİ-80. YIL İLKOKULU)

Mesut ERDOĞAN

(BİLİŐİM TEKNOLOJİLERİ ÖĞRETMENİ-SİİRT TÜRK TELEKOM ÖZEL EĞİTİM ORTAOKULU)

Bu çalıřma Siirt İl Milli Eğitim Müdürlüęü öğretmenleri tarafından hazırlanmıřtır. Emeklerinden dolayı teřekkür ederiz.

