

İLKOKUL 2.SINIF

HAFTALIK EV ÖDEVİ
20 - 24 NİSAN



SIİRT İL MİLLİ EĞİTİM MÜDÜRLÜĞÜ
2020

AYILAR

Ayılar büyük tüylü hayvanlardır. Top gibi yuvarlak büyük kafaları vardır. Gözleri ve kulakları küçüktür. Ayılar, yavrularını küçük mağaralarda doğururlar. Tek seferde bir ya da iki yavru doğurabilirler. Üç yavru doğuranlarda vardır. Yavru ayılar annelerinin sütünü içerek beslenirler. Yavru ayılar zamanlarını uyuyarak ve süt içerek geçirirler. Yavru ayılar üç yaşlarına geldiğinde annelerinden ayrılırlar.

1. Ayıların kafaları neye benziyormuş?

- A) Ayvaya
- B) Topa
- C) Elmaya

2. Ayıların hangi organları küçüktür?

- A) Ayakları
- B) Kolları
- C) Gözleri ve kulakları

3. Anne ayılar yavrularını nerede doğururlarmış?

- A) Ağaç altında.
- B) Çimenlikte.
- C) Küçük mağaralarda.

4. Ayılar tek seferde en fazla kaç yavru doğururlarmış?

- A) Bir
- B) İki
- C) Üç

5. Yavru ayılar zamanlarını nasıl geçirirlermiş?

- A) Uyuyarak ve süt içerek
- B) Oyun oynayarak
- C) Avlanarak

6. Yavru ayılar kaç yaşına geldiklerinde annelerinden ayrılırlarmış?

- A) Dört
- B) Üç
- C) İki

7. Kar yağışı Ulaşım durdu?

Buse'nin noktalı yere aşağıdakilerden hangisi yazılmalıdır?

- A) Nedeniyle
- B) Çünkü
- C) Ama

8. Benden ... hızlı okuyan yok.

Sıla'nın cümlesinde noktalı yere hangi sözcük yazılmalıdır?

- A) Daha
- B) İçin
- C) Gibi

9. Benim güler yüzlü yavrum uyanmış.

Annenin cümlesi ne tür bir ifadedir?

- A) Duygusal ifadedir.
- B) Abartılı ifadedir.
- C) Karşılaştırma yapılmıştır.

10. Aşağıdaki cümlelerin hangisinde abartılı ifade yer almaktadır?

- A) Kiralık ev buluncaya kadar canım çıktı.
- B) Kiralık ev buldum.
- C) Kiraladığım evi boyadım.

11. Makarna çok güzeldi ... hepimize yetmedi.

Bülent'in cümlesindeki noktalı yere hangi sözcük yazılmalıdır?

- A) Veya
- B) Fakat
- C) Ya da

12. Akşam saat kaçta yatıyorsun?

Ela'nın sorusunun yanıtı aşağıdakilerden hangisi olmalıdır?

- A) Saat yirmi birde.
- B) Kardeşim yatıyor.
- C) Uyumayı seviyorum.

13. Ali 'ye haber veremedim... onu göremedim

Oğuz'un cümlesinde noktalı yere hangi sözcük yazılmalıdır?

- A) Fakat
- B) Nedeniyle
- C) Çünkü

14. Cemil, tavşan gibi hızlı koşardı.

Yukardaki cümlede Cemil neye benzetilmektedir?

- A) Köpek
- B) Kedi
- C) Tavşan

15. Aşağıdaki cümlelerin hangisinde abartılı ifade yer almaktadır?

- A) İşlerimi zamanında yaparım.
- B) Başımda dünya kadar iş var.
- C) Akşam çok kitap okudum.

16. Sınıfınızda kaç kız arkadaşınız var?

**Cem'in sorusunun yanıtı
aşağıdakilerden hangisi olmalıdır?**

- A) Sınıfımızın mevcudu otuz.
- B) Sınıfımızda on dört kız var.
- C) Sınıfımızda on dört kız, on beş erkek var.

HASTALIK

Hasta olma arkadaş
Kendine iyi bak
Temiz hava bol güneş
Yedikçe bol vitamene bak.
Hastalık felakettir
Herkes buna üzülür
Hastalığın çaresi
Temizliktir temizlik

YAHTYA TÜRKELİ

17. Yukarıdaki şiirin konusu
aşağıdakilerden hangisidir?

- A) Vitamin
- B) Temiz hava
- C) Hastalık

18. Şiirin ana duygusu aşağıdakilerden
hangisidir?

- A) Doktorun dediklerini yapmalıyız.
- B) Hastalanınca ilaç içmeliyiz.
- C) Temizliğe önem vermeliyiz.

19. Gamze, annesini görünce gözyaşlarını
tutamadı.

Cümlesinde nasıl bir anlam vardır?

- A) Duygusal anlam.
- B) Abartılı anlam.
- C) Mizahi anlam.

20. Dedem, çiçekleri teker teker kokladı.

**Yukarıdaki cümlede aşağıdaki sorulardan
hangisinin yanıtı yoktur?**

- A) Nereye
- B) Neyi
- C) Kim

21. Hastalandığım ... okula gidemedim.

**Canan'ın cümlesindeki noktalı yere hangi
sözcük yazılmalıdır?**

- A) veya
- B) için
- C) ve

Cevap Anahtarı

1-B

2-C

3-C

4-C

5-A

6-B

7-A

8-A

9-A

10-A

11-B

12-A

13-C

14-C

15-B

16-B

17-C

18-C

19-A

20-A

21-C

1. Yandaki toplama

işleminde verilmeyen

toplanan aşağı-

dakilerden hangisidir?

$$15 + \text{?} = 80$$



A) 95

B) 65

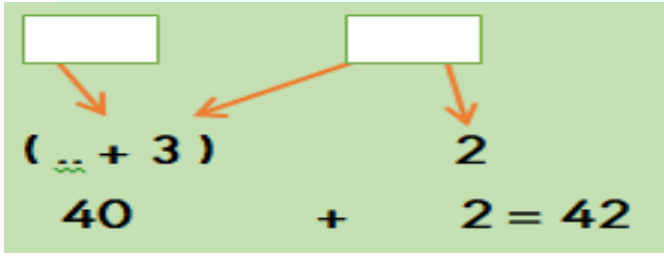
C) 75

2. Zihinden toplama işlemi yapılırken

büyük sayı, küçük olan sayıdan birlik

alınarak 10'un katı-na tamamlanır.

Geriye kalan birlikler üzerine eklenir.


$$\begin{array}{r} \boxed{} \\ + 3 \\ \hline 40 \end{array} + \begin{array}{r} \boxed{} \\ + 2 \\ \hline 2 \end{array} = 42$$

Yukarıda verilen bilgiye göre, verilen

zihin-den toplama işleminde

toplananlar aşağıda-kilerden

hangisidir?

A) 39+52

B) 37+5

C) 40+2

3. Ocağa kaynaması için 43 litre su koyan Gamze suyu ocakta unutuyor. Bir süre sonra ocağa su koyduğunu hatırlayan Gamze ocaktaki kazanda 28 litre su kaldığını görüyor.

Buna göre kazandan kaç litre su eksilmiştir?

A) 25

B) 15

C) 17

4.Yandaki çıkarma işleminde

verilmeyen çıkan aşağıdaki-

lerden hangisidir?

$$\begin{array}{r} 86 \\ - 58 \\ \hline \end{array}$$

A) 28

B) 32

C) 38

Gerçek Fark

$$\begin{array}{r} 82 \\ - 36 \\ \hline \end{array}$$

Tahmini Fark

$$\begin{array}{r} \bullet \bullet \\ - \bullet \bullet \\ \hline \end{array}$$

5. Bir çıkarma işleminde farkı tahmin etmek için eksilen ve çıkan en yakın onluğa yuvarlatılır.

Buna göre, yukarıdaki çıkarma işleminde gerçek fark, tahmini farktan kaç fazladır?

- A) 6 B) 7 C) 8

6. $13 + 5 = 22 - \square$

Yukarıdaki eşitliğin doğru olabilmesi için " \square " ile belirtilen yere hangi sayı gelmelidir?

- A) 5 B) 6 C) 4



7. Üstteki kova beş sürahi su ile olmaktadır. Bir sürahi ise 3 su bardağı su almaktadır.

Buna göre bu kovayı su bardağı ile doldurmak istersek kovaya kaç su bardağı su koymalıyız?

- A) 8 B) 15 C) 16


8. Aşağıdaki ifadelerde doğru olanlara (D), yanlış olanlara (Y) yazılırsa "Doğru-Yanlış" sıralaması nasıl olur?

- () 2 düzine kalem 3 deste kalemde 6 eksiktir.
() İki basamaklı en büyük çift doğal sayı 98'dir.
() 57 sayısındaki 5 rakamının basamak değeri 5'tir.

- A) D-D-D B) D-Y-D C) D-D-Y



9. Yukarıdaki şekil 2 eş parçaya ayrılırsa eş şekillerden biri aşağıdakilerden hangisi olur?

- A)  B)  C) 

10. Yandaki düğme şekli kaç şekilde iki eş parçaya ayrılabilir?



- A) 2 B) 3 C) 4

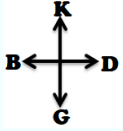


Not:11 ve 12. Soruları yukarıdaki resme göre cevaplayınız.

11. Yukarıdaki şekle göre Elbinur saat yönünün tersinde çeyrek tur dönerse hangi nesneyi görür?


- A) Kedi B) Bisiklet C) Televizyon

12. Resme göre Elbinur'un batısında hangi nesne vardır?



- A) Bisiklet B) Kedi C) Sandalye

13.



Yukarıdaki örüntüde “ ? ” ile belirtilen yere hangisi gelmelidir?

- A) 6 B) 5 C) 15

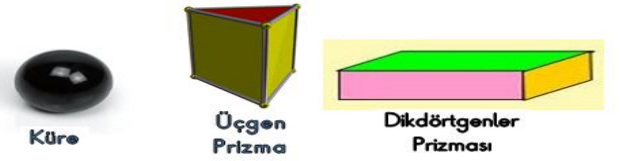


14. Aşağıdaki örüntülerden hangisinin kuralı yukarıda belirtilen örüntünün kuralı ile aynı **değildir**?

- A)

- B)

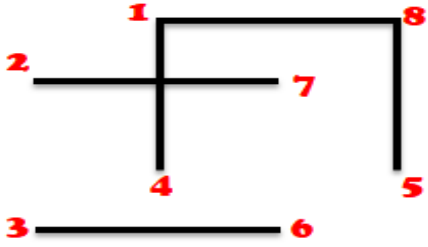
- C)



15. Yukarıdaki şekillerde prizmaların adları altlarına yazılmıştır.

Buna göre aşağıdakilerden hangisi **yanlıştır**?

- A) Üçgen prizmanın altı köşesi vardır.
B) Kürenin köşesi yoktur. Ancak iki tane ayrıtı vardır.
C) Dikdörtgenler prizmasının 12 ayrıtı vardır.



16. Yukarıdaki numaralı yerler sırasıyla birleştirildiğinde hangi şekil ortaya çıkar?

- A) Küre
- B) Dikdörtgenler Prizması
- C) Küp

17. Aşağıdaki çarpma işleminin toplama işlemi olarak gösterilişi hangi seçenekte doğru verilmiştir?

$$4 \times 3 =$$

- A) $4+4+4$
- B) $4+3$
- C) $3+3+3+3$

18. Bir baba ailesi için her gün 4 ekmek alıyor.

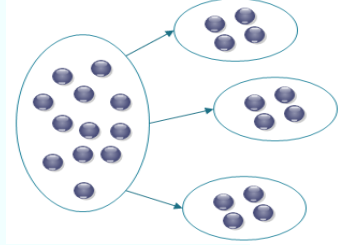
Buna göre bu aile bir haftada kaç ekmek tüketir?

- A) 28
- B) 11
- C) 24

19. Bir düzine şeker dörderli kaç gruba ayrılır?

- A) 3
- B) 8
- C) 16

20. Yanda yapılan paylaşırma işlemi aşağıdakilerden hangisi ile ifade edilir?



- A)
$$\begin{array}{r} 8 \\ + 4 \\ \hline \end{array}$$
- B)
$$\begin{array}{r|l} 12 & 3 \\ \hline & 4 \end{array}$$
- C)
$$\begin{array}{r|l} 12 & 4 \\ \hline & 3 \end{array}$$

Cevap Anahtarı

1. C
2. B
3. B
4. A
5. A
6. C
7. B
8. C
9. A
10. A
11. C
12. C
13. B
14. B
15. B
16. C
17. C
18. A
19. A
20. B

1. Sağlıklı bir yaşam için aşağıdakilerden hangisini yapmalıyız.

- A) Dişlerimizi haftada üç defa fırçalamalıyız.
- B) Ellerimizi sadece yatarken yıkamalıyız.
- C) Düzenli olarak banyo yapmalıyız.

2. Elif ve Murat çok iyi iki arkadaşlardır.

Murat temizliğine çok dikkat etmez,
Elif temizliğe çok önem vermiştir.

Buna göre aşağıdakilerden hangisi yanlıştır?

- A) Murat'ın hastalanma riski yüksektir.
- B) Elif, daha çok mikrop kapar.
- C) Elif daha sağlıklıdır.

3. Cihan'ın dişi çürüdüğü için canı ağrıtmaktadır.

Buna göre aşağıdakilerden hangisi söylenemez?

- A) Cihan şekerli yiyeceklerden sonra dişlerini fırçalamamıştır.
- B) Cihan ağız temizliğine dikkat etmiştir.
- C) Cihan üç günde bir dişlerini fırçalamalıdır.

4. Aşağıdaki kişiler ile yaptığı sağlık hizmeti arasındaki eşleştirmelerden hangisi yanlıştır?

- A) Doktor= Hastalığın tanısı, tedavisi
- B) Diş doktoru= Ağız ve diş sağlığı
- C) Hemşire=İlaç temin ettiğimiz kişi

5. Havası kirli ortamlarda fazla kalanların en çok hangi organı zarar görür?

- A) Burun
- B) Akciğer
- C) Kalp

6. Sadece kişisel temizlik yapmamalıyız. Çevremizi de temiz tutmalıyız.

Öğretmenin söylediği cümleye hangi öğrenci yanlış örnek vermiştir?

- A) Çöpleri çöp kutusuna atmamız.
- B) Yemekten önce ellerimizi yıkamamız.
- C) Çöp poşetlerinin ağzını bağlayarak çöp kutusuna atmamız.

7. 1. Spor
2. Dengeli beslenme
3. Kişisel bakım
4. Düzenli beslenme

Sağlıklı büyüme ve gelişme için yukarıdakilerden hangilerine özen göstermeliyiz?

- A) 1,2 ,3,4 B) 3,4 C) 1,2,3,

8. Aşağıdakilerden hangisi yanlıştır?

- A) Hemşireler, hastalığın teşhisi konulurken ve tedavi sırasında doktora yardımcı olurlar.
- B) Diş doktorları, ağız sağlığıyla ilgili doktorlardır.
- C) Kan tahlili için eczaneye gitmeliyiz

9. Hemşire Polis
Eczacı Diş hekimi

Yukarıda verilen gruplardan kaç tanesi sağlık için çalışır.

- A) 3 B) 2 C) 4

10. Aşağıdakilerden hangisi zararlıdır?

- A) Elma B) Cips C) Yumurta

11. Yemeklerimizi zamanında yemeye beslenme, her çeşit besinden yemeye ise beslenme diyoruz.

Yukarıdaki tümcenin doğru olması için boşluklara sırasıyla hangisi gelmelidir?

- A) düzenli, dengeli
- B) dengeli düzenli
- C) düzenli, iyi

12. Sağlıklı büyümek ve gelişmek için aşağıdakilerden hangisini yapmak yanlıştır?

- A) Kişisel temizliğe önem göstermek.
- B) Beslenmemize dikkat etmeliyiz.
- C) Ucuz olan ürünlerden fazla tüketmeliyiz

13. Mehmet aşağıdakilerden hangisini yaparsa büyüme ve gelişmesi olumsuz etkilenir.

- A) Düzenli uyursa
- B) Temizliğine dikkat ederse
- C) Yalnız abur cubur yiyerek beslenirse

14. Can = Günde iki öğün yemek yerim
Cem = Canım ne zaman isterse o zaman yemek yerim.
Canan = Öğün atlamadan günde üç öğün beslenirim.

Arkadaşlarımızdan hangisi düzenli deslenmektedir?

- A) Can
- B) Cem
- C) Canan

15. Berk= Her türlü yiyecekte yeterince yerim.

Aykut= Canım ne isterse onu yerim.

Cemile= Beğenmediğim yemekleri Yemem

Arkadaşlarımızdan hangisi dengeli beslenmektedir?

A) Berk B) Aykut C) Cemile

16. Aslı'nın sabah kahvaltısında hangisi olursa sağlıklı beslenmiş olur.

A) Patates kızartması, kola, süt
B) Süt, yumurta ,peynir, bal
C) Hamburger, kola

17. Aşırı kilolarından rahatsız olan Melih aşağıdakilerden hangisini yapmalıdır?

A) Daha çok çikolata yemelidir.
B) Cips, patates kızartması gibi yiyecekleri arttırmalıdır.
C) Düzenli beslenmeli ve spor yapmalıdır.

18. 1-) Yemekten önce eller yıkanmalıdır.

2-) Yemeğe aile bireyleri ile birlikte oturmalıyız.

3-) Yemeğe herkesle başlanmalıdır.

Yukarıda yazılanlardan kaç tanesi doğrudur?

A) 3 B) 2 C) 1

19. Aşağıdakilerden hangisi temel ihtiyaçlarımızdan biridir?

A) Peynir B) Ekmek C) Çikolata

20. Sarı saçlı, uzun boylu, ela gözlüyüm. Güzel resim yaparım. Botan fiziksel özelliklerinden kaç tanesini saymıştır.

A) 3 B) 4 C) 2

Cevap Anahtarı

1-C

2-C

3-B

4-C

5-B

6-B

7-A

8-C

9-A

10-B

11-A

12-C

13-C

14-C

15-A

16-B

17-C

18-A

19-C

20-A

IN THE CLASSROOM

A) Look at the pictures and write. (Resimlere bakalım ve yazalım.)

turn right

sit down

stand up

turn left

close the door



.....

.....

.....

.....

.....

B) Aşağıdaki boşluğa hangisi gelmelidir?

a.You' re welcome.

b.Thank you.

c.Excuse me !

Gülay : Open the door, please!

Rüya :

Gülay : Open the door.

C) Aşağıdaki boşluğa hangi kelime gelmelidir?

a. You' re welcome.

b. Thank you.

c. I am sorry.

Mustafa : Thank you, Havin.

Havin :

D) Aşağıdaki boşluğa hangi kelime gelmelidir?

- a.You' re welcome. b.Thank you. c.Excuse me !

Osman : Hello Zeynep .How are you ?

Zeynep : I am okay, Osman

TEST TIME

1. "Open" kelimesinin zıt anlamlısı hangisidir?

- a. read b. close c. Look

2. Boş bırakılan yere sırasıyla hangi kelimeler gelmelidir?

..... a picture.

Cut the

..... left.

- a. draw / window / turn
b. paint / close / look
c. draw / paper / turn

3. Aşağıdaki ifadelerden hangisi yanlıştır?

- a. Say your name----- adını söyle.
b. Look at the board ----- tahtaya bak.
c. Glue ----- kes

4. Arkadaşınıza yanlışlıkla çarptığınızda ona ne söylersiniz?

- a. I'm sorry.
b. Thank you.
c. Be quite.

ANSWER KEY (CEVAP ANAHTARI)

A) Look at the pictures and write. (Resimlere bakalım ve yazalım.)



stand up

turn right

close the door

sit down

turn left

B) Aşağıdaki boşluğa hangisi gelmelidir?

a. You're welcome.

b. Thank you.

c. Excuse me

C) Aşağıdaki boşluğa hangi kelime gelmelidir?

a. You're welcome.

b. Thank you.

c. I am sorry.

D) Aşağıdaki boşluğa hangi kelime gelmelidir?

a. You're welcome.

b. Thank you.

c. Excuse me !

TEST TIME

1) B

2) C

3) C

4) A

ÇALIŞMADA EMEĞİ GEÇEN ÖĞRETMENLERİMİZ

Ekrem AYBEK, Hasan YILMAZ,
Seda AYDINLI, Kasım AYDIN