

ORTAOKUL 6.SINIF

HAFTALIK EV ÖDEVİ
20-24 Nisan



SIİRT İL MİLLİ EĞİTİM MÜDÜRLÜĞÜ
2020



Sınıflarda kullandığımız tahtalar 19. Yüzyıldan beri bir eğitim sembolü olmuştur. Kullandığımız tahtalar zamanın gereklerine ayak uydurmuştur. Tozlu tebeşir yerini tozsuz tebeşire bırakmış; kara tahta önce yeşil, daha sonra beyaz tahtaya dönüşmüştür. Günümüzde ise teknolojinin yoğun gelişimi ile beraber etkileşimli elektronik tahtalar (akıllı tahta) yaygınlaşmıştır. Ülkemizde FATİH projesi ile beraber, okullara bu akıllı tahtalar kurulmuş ve eğitimin kalitesi arttırılmaya çalışılmıştır.

1) Yukarıdaki paragraf aşağıdaki sorulardan hangisine bir cevap olabilir?

- A) Öğretmenlerimiz ders sırasında tahtayı etkili kullanabiliyor mu?
- B) FATİH projesi eğitimde başarıyı nasıl etkiler?
- C) Eğitimde kullanılan tahtalar zamanla nasıl değişmiştir?
- D) Akıllı tahta kullanmak neden önemlidir?

Gecemi zehrediyor içime düşen kuşku,
Sırra kadem mi bastın, kaşla göz arasında?
Nasıl anlatsam bilmem aramızdaki aşkı,
Bir sıcaklık vardır ya külle köz arasında...

2) Yukarıdaki şiirde geçen altı çizili deyim anlamı aşağıdakilerden hangisidir?

- A) Birdenbire ortalıktan yok olmak
- B) Gizli bir bilgiyi başkalarına söylemek
- C) Başkalarını gizlice dinlemek
- D) Çok söz söylemek

Güzel bir orman. Her yerde ötüşen kuşlar, coşkuyla akan su, yaprakların hışırtısı ne güzel bir doğa orkestrası çalıyor etrafta. Suyun kenarında renkli çiçekler, yemyeşil ağaçlar doğada hayat var.

3) Yukarıdaki parçada aşağıdaki duyuların hangisinden yararlanılmıştır?

- A) Görme - koklama
- B) İşitme – koklama
- C) Görme – işitme
- D) Dokunma – görme

10 Mayıs 2019, Pazar annemin doğum günüydü. Annem, babam ve ben çok güzel bir kutlama yaptık. Annemin yakın arkadaşları, dedem, ananem, babaannem, teyzelerim tüm akrabalarımız toplanmıştık. Annem ona aldığımız hediye çok beğendi. Herkes o gün çok eğlenmişti.

4) Yukarıdaki paragrafta hikaye unsurlarından hangisine yer verilmemiştir?

- A) Zaman
- B) Olay
- C) Yer
- D) Kişiler

Her akşam uyumadan önce on dakika gözlerimi kapatır, kendimle konuşurum. O gün neler yaptığımı gözümde canlandırırım. Başarılarım için kendimi tebrik eder, başarısız olduğum durumları telafi etmek içinse kendime söz veririm. Günümü değerlendirir, kendimle hesaplaşırım. Ertesi gün yapacaklarımı detaylı bir şekilde zihnimde canlandırmadan uyumam.

5) Bu parçada tanıtılan kişinin en belirgin özelliği nedir?

- A) Çalışkan olması
- B) Hırslı olması
- C) Planlı olması
- D) Düzenli olması

6) Buna göre hangi öğrencinin verdiği örnek yanlıştır?

- A) Aslı
- B) Kamuran
- C) Metin
- D) Zehra

Belirtili İsim tamlamalarında bazen tamlayanı oluşturan sözcük düşebilir. Örneğin "Çalışmalarını dikkatlice takip ediyorum." cümlesi aslında "Öğretmenin çalışmalarını dikkatlice takip ediyorum şeklindedir." Buradaki "Öğretmenin çalışmaları" kısmı belirtili isim tamlamasıdır. Ancak "Öğretmenin" (tamlayan) kelimesi düşmüştür. Buna tamlayanı düşmüş isim tamlaması denir.

7) Bu açıklamaya göre aşağıdaki cümlelerin hangisinde tamlayanı düşmüş isim tamlaması vardır?

- A) Bilginin efendisi olmak için çalışmak gerekir.
- B) Çantası dün akşam arabada kalmış.
- C) Zamanı ve parayı boşa harcamamalıyız.
- D) Okumanın faydalarını mutlaka görürsün.



Kerim öğretmen öğrencilerinden içinde yapım eki almış bir sözcüğün olduğu birer cümle kurmalarını istemiştir. Öğrencilerden Kamuran Aslı, Metin, ve Zehra yukarıdaki örnekleri vermişlerdir

İsimlerin önüne gelerek renk, durum, biçim, sayı gibi özellikler bildiren sözcüklere sıfat (önad) denir. Sıfatlar niteleme ve belirtme sıfatları olmak üzere ikiye ayrılır.

8) Aşağıdaki cümlelerin hangisinde diğerlerinden farklı bir sıfat kullanılmıştır?

- A) Masanın üzerindeki mavi kalemi uzatır mısın?
- B) Bu okulda o kadar çok anım var ki.
- C) Soruyu bazı öğrenciler anlamamış.
- D) İşleri üç günde bitireceğini söyledi.



Okuduğum kitaplardaki şiirler, hayallerimi süsler. Şiirler, duygularımızı ve düşüncelerimizi geliştirmemizi sağlayarak bizleri yönlendirir.

Hande öğretmen isimler konusuyla ilgili öğrencilerine yukarıdaki paragrafı okumuştur. Buna göre;

9) Yukarıdaki paragrafta aşağıdakilerden hangisinin örneği yoktur?

- A) Somut ad
- B) Soyut Ad
- C) Tekil ad
- D) Cins Ad

Kişiden kişiye değişen, kişisel görüş ve düşünce içeren cümlelere öznel cümle denir.

Öğretmen yaptığı tanıma göre öğrencilerinden öznel cümleye örnek vermelerini istemiştir.



Yarın hava 16 derece olacaktı.

Ayşe



Kütüphanede beş adet kitaplık var.

Ekrem



Güzel havalarda kırlarda gezmeliyiz.

Melike



Annem kitaplara 100 TL ödedi.

Zeynep

10) Yukarıda verilen örneklere göre hangi öğrencinin verdiği örnek doğrudur?

- A) Ayşe
- B) Ekrem
- C) Melike
- D) Zeynep

Kapı kapı bu yolun son kapısı ölümse;

Her kapıda ağlayıp o kapıda gülümse!

11) Yukarıdaki dizelerde aşağıdaki söz sanatlarından hangisi kullanılmıştır?

- A) Konuşturma
- B) Karşıtlık
- C) Benzetme
- D) Abartma

12) "Bazı" sözcüğü hangi cümlede zamir olarak kullanılmıştır?

- A) Bazı resimlerin daha güzel olmuş.
- B) Dün bazı kitapları geri dönüşüme verdim.
- C) Bazıları yapılan iyiliği hemen unuttur.
- D) Bazı oyuncaklarımı hediye ettim.

13) Aşağıdaki cümlelerden hangisi sesteşlik özelliği göstermez?

- A) Niçin kondun a bülbül
kapımdaki asmaya
Ben yârimden ayrılmam
götürseler asmaya
- B) Kalem böyle çalınmış yazıma
Yazım kışıma uymaz, kışım
yazıma
- C) Onu dinlemediğimde bana
kızardı.
Heyecandan, sevinçten yüzü
kızardı.
- D) Merdivenlerden düşüp
ayağını kırdı.
Beni sormadan gidince
gönlümü kırdı.

14) Aşağıdaki kelimeler arası anlam ilişkisi sıralamasında hangi seçenekte farklı bir anlam ilişkisi vardır?

- A) Yaşlı – İhtiyar – Genç
- B) Arkadaş – Dost - Düşman
- C) Toy – Acemi – Usta
- D) Eksik – Noksan – Tam

15) 'Perde' sözcüğü aşağıdaki cümlelerin hangisinde mecaz anlamda kullanılmıştır?

- A) Perdeyi çek de güneş girsin.
- B) Dün akşam sergilenen beş perdelik oyun çok beğenildi.
- C) Sınıftaki perdeleri dönüşümlü olarak yıkıyoruz.
- D) Gözüne adeta bir perde inmişti, gerçekleri görmüyordu.

Ormanlar kralı aslan bir gün avlanmaktan gelmiş, yatmış uyuyormuş. Minik bir fare aslanın üzerinde dolaşmaya başlamış. Aslan sinirlenmiş, fareyi yakalamış. Tam öldüreceği sırada fare yalvarmış: "Ne olur beni bırak! Gün gelir benim de sana bir iyiliğim dokunur demiş."

16) Bu metin, aşağıdaki yazı türlerinden hangisine örnek gösterilebilir?

- A) Tiyatro
- B) Fabl
- C) Hikâye
- D) Gezi Yazısı

17) Aşağıdaki cümlelerin hangisinde araç içinde eylemin amacı verilmemiştir?

- A) Ders anlatmak üzere tahtaya çıktı. (Ders anlatmak)
- B) İsraf etmemek için geri dönüşüme önem verdi. (Geri dönüşüme önem vermek)
- C) Geleceğe yatırım yapmak için kitap okumalıyız.(Geleceğe yatırım yapmak)
- D) Virüsü almamak için sosyal mesafe kurallarına uyuyordu.(Virüsü almamak)

Bazı canlılar yaşamlarını sürdürürken sesin yansıma özelliğinden yararlanırlar.
II Balina, yunus yarasa gibi canlılar avlarını yerini sesin yansıma özelliğinden faydalanarak tespit ederler.
III Köpekler bizim duymadığımız sesleri duyduklarından, bazı köpek bakıcıları insanların duymadığı sesleri üreten düdüklere kullanarak köpekleri eğitirler.
IV Yunuslar çıkardıkları sesleri yansıtarak haberleşirler.

18) Numaralandırılmış cümlelerin hangisi parçanın anlam bütünlüğünü bozmaktadır?

- A) I
- B) II
- C) III
- D) IV

19) Aşağıdaki cümlelerin hangisinde virgül diğerlerinden farklı görevde kullanılmıştır?

- A) Mehmet, Narin, Melike saygılı öğrencilerdir.
- B) Akşam yemeğini hızlıca yedi, uyudu.
- C) Pazardan elma, armut, muz alır mısın?
- D) Yazın Aydın, Muğla, İzmir'e tatile gittik.

Hal eki olan "de" ve bağlaç olan "de" sık sık karıştırılır. Cümleden çıkarıldığında anlamı bozan "de" hal ekidir ve bitişik yazılır. Cümleden çıkarıldığında anlamı bozmayan "de" bağlaçtır ve ayrı yazılır.

20) Buna göre aşağıdaki cümlelerin hangisinde "de"nin yazımı yanlıştır?

- A) Cebinde beyaz bir mendil vardı.
- B) Arkadaşın seni bahçede bekliyor.
- C) Çantasını bugün evde unutmuş
- D) Bizimle sinemaya sende gelsene.

- 1) I- En küçük asal sayı 1'dir.
II- 5 ile kalansız bölünebilen her doğal sayı 10 ile de kalansız bölünür.
III- 1'in bütün kuvvetleri 1'dir.
IV-Rakamları toplamı 9 veya 9'un katı olan bütün sayılar 9'a tam bölünür.

Yukarıda verilen bilgilerden kaç tanesi doğrudur?

- A) 1 B) 2 C) 3 D) 4

2)



"KORONAVİRÜS" kelimesinden oluşan kümenin eleman sayısı kaçtır?

- A) 9 B) 10 C) 11 D) 12

3)



Ömer Öğretmen sınıfta "Çarpanlar ve Katlar" konusunu işlemiştir. Öğrencilerin konuyu daha iyi kavraması için sınıfa 12 kg buğday ve 15 kg pirinci sınıfa getirmiştir. Öğrencilere buğday ve pirinci eşit hacimli saklama kaplarına hiç artmayacak şekilde koymak istediğini söylemiştir.

Buna göre Ömer Öğretmen kaç kg'lık kaplar almalıdır?


- A) 6 B) 5 C) 4 D) 3

4) Bir çiftlikte 20 inek, 25 koyun, 55 tane de tavuk vardır.

Bu çiftlikteki hayvan sayısı, hayvanların ayak sayılarından ne kadar azdır?

- A)180 B)185 C)190 D)195

5)



Remziye
400
sayfalık
Kitap

400 sayfalık romanı okumak için Remziye hergün bir önceki okuduğu sayfanın 13 sayfa fazlasını okumayı planlıyor.

İlk gün 50 sayfa roman okuyan Remziye'nin 3.gün sonunda okumadığı kaç sayfa kalır?

- A)189 B) 211 C) 219 D)228

6) 750 TL parası olan Serkan Bey parasının $\frac{12}{25}$ 'i ile ev kirası ödemiştir.

Geriye kalan parasının $\frac{3}{10}$ 'u kaç lira eder?

- A)117 B)120 C)125 D)128

7) Ö ve Y sayıları aşağıda verilmiştir.

$$\text{Ö} \equiv 9 \quad \text{Y} \equiv \frac{4}{3}$$

Buna göre Ö:Y işleminin sonucu kaçtır?

- A) $\frac{3}{12}$ B) $\frac{4}{27}$ C) $\frac{27}{4}$ D) $\frac{1}{27}$

8) $B = \{ 9\text{'un katı olan 2 basamaklı doğal sayılar} \}$
Yukarıdaki küme ile ilgili hangisi yanlıştır?


- A) $36 \in B$ B) $45 \in B$
C) $99 \notin B$ D) $91 \notin B$

9) Eylül Öğretmen sınıfındaki öğrencileri 2'şerli ve 3'erli oturttuğunda ayakta hiç öğrenci kalmamaktadır.

Buna göre Eylül öğretmenin sınıfında bulunan öğrenci sayısı aşağıdakilerden hangisi olamaz?

- A) 30 B) 72 C) 24 D) 56

10)



Yukarıda verilen iki saatten birinin 30 dakika, diğerinin 45 dakikada bir alarmı çalmaktadır. İki saat beraber çaldıklarında saat 09:00'u göstermektedir.

Buna göre aşağıda verilen saatlerden hangisinde iki saat birlikte çalmazlar?

- A) 10:30 B) 12:00
C) 13:30 D) 14:30

11)



ZEYTİN KG 8 TL



PEYNİR KG 9 TL



SUCUK KG 54 TL

Kilogramı 8 TL olan zeytinden 3 kg, kilogramı 9 TL olan peynirden 4 kg ve kilogramı 54 TL olan sucuktan yarım kg alan Ali Bey kasaya 100 TL ödemiştir.

Buna göre kasiyer, Ali Bey'e kaç lira para üstü vermelidir?

- A) 15 TL B) 12 TL
C) 13 TL D) 18 TL

12)



Nurullah'ın başı fazla kiloları ile derttedir. 58 kilo olan Nurullah düzenli spor yaparak zayıflamak istemektedir. Nurullah her ay 2 kilo vermeyi düşünmektedir. Buna göre her şey Nurullah'ın istediği şekilde gerçekleşirse 6 ay sonra Nurullah kaç kilogram olacaktır?

- A) 46 B) 48 C) 50 D) 52

13)



EV

SPOR SALONU

Ahmet 'in evi ile spor salonu arasındaki mesafe 850 metredir. Ahmet Her gün bu mesafeyi yaya olarak gidip gelmektedir.

Buna göre Ahmet spor salonuna gidip gelirken bir hafta boyunca kaç metre yürümüş olur?

- A) 11900 B) 12000
C) 12900 D) 14000

14) Okullar arası voleybol turnuvasında Şehit Öğretmen İsmail Çelik Ortaokulu oyuncularından Ayşe, Leyla'nın 2 katı kadar; Suphiye ise Ayşe ve Leyla'nın yaptıkları sayının 3 katı kadar sayı yapmıştır.

Buna göre, aşağıdakilerden hangisinde Ayşe, Leyla ve Suphiye'nin yaptıkları sayıların cebirsel ifadeleri doğru verilmiştir?

Ayşe	Leyla	Suphiye
A) x	2x	9x
B) 2x	x	9x
C) x	2x	3x
D) 2x	x	6x

15) Aşağıdakilerden hangisinin cebirsel ifadesi $\frac{5x}{2} + 3$ 'tir?

- A) Bir sayının 3 fazlasının 3 katının yarısı
B) Bir sayının 5 fazlasının yarısının 3 katı
C) Bir sayının yarısının 5 katının 3 fazlası
D) Bir sayının yarısının 3 katının 5 fazlası

16)



Songül Öğretmen kızı Zehra için yaptığı pastanın $\frac{2}{10}$ 'ini yedikten sonra kalan kısmının yarısını Zehra'nın arkadaşlarına ikram ediyor.

Buna göre geriye pastanın kaçta kaç kalmıştır?

- A) $\frac{4}{10}$ B) $\frac{3}{10}$ C) $\frac{2}{10}$ D) $\frac{6}{10}$

17)



Bir tarlanın önce $\frac{2}{5}$ 'i, daha sonra kalan kısmının $\frac{1}{3}$ 'ü sulanmıştır. Geriye tarlanın sulanmayan kısmı 120 m^2 olarak hesaplanmıştır.

Buna göre tarlanın tamamı kaç m^2 dir?

A) 280 B) 300 C) 320 D) 450

18) **Şehit Öğretmen İsmail Çelik Ortaokulu**

6-A sınıfındaki erkek öğrencilerin sayısının kız öğrencilerin sayısına oranı $\frac{5}{7}$ 'dir. 6-A sınıfındaki öğrenci sayısı, tüm okuldaki öğrenci sayısına oranı ise $\frac{6}{35}$ 'tir

6-A sınıfında 14 kız öğrenci olduğuna göre okulun mevcudu kaçtır?

A) 110 B) 120 C) 130 D) 140

19) Bir tarladaki buğday ekili alanın, arpa ekili alana oranı $\frac{3}{4}$, arpa ekili alanın pirinç ekili alana oranı $\frac{4}{5}$ tir.

Bu tarlada pirinç ekili alan 150 m^2 ise tarlanın tamamı kaç m^2 olur?

A) 320 B) 360 C) 400 D) 440

20) **Çözümlemiş biçimi,**

$$(7 \times 100) + (8 \times 10) + (3 \times \frac{1}{10}) + (2 \times \frac{1}{100}) +$$

$$(4 \times \frac{1}{1000}) \text{ olan sayının ondalık gösterimi}$$

aşağıdakilerden hangisidir?

A) 780,324

B) 708,324

C) 780,324

D) 708,342



1) Göktürklerin ilk kez Türk adını kullanmaları ve kendi adlarıyla bir alfabe oluşturmaları aşağıdaki yargılardan hangisinin kanıtı olarak ileri sürülebilir?

- A) İlk Türk devleti olduklarının
- B) Orta Asya'da kurulduklarının
- C) Ulusçu bir devlet anlayışını benimsediklerinin
- D) Kağıdı kullanılmaya başladıklarının

2) 2005 yılında yapılan kazılarda ortaya çıkarılan Köktürlere ait paraların ön yüzünde Kağan ve eşinin (hatun) resimleri birlikte yer almıştır. Buna göre;

- I. Kağanların yönetime seçimle geldiğinin
- II. Kağanın eşinin siyasal yaşamda yer aldığı
- III. Kağan eşlerinin kağanlardan daha yetkili olduğunun

yargılarından hangilerine ulaşılabilir?

- A) Yalnız I
- B) Yalnız II
- C) II ve III
- D) I ve III

3) Aşağıda Hz. Muhammed (s.a.v) dönemine ait bilgilerden hangisi yanlıştır?

- A) İlk vahiy Hira mağarasında 610 yılında gelmiştir.
- B) 622 yılında Hz. Muhammed (s.a.v) ve bazı müslümanlar Mekke'den Medine'ye göç etmişlerdir.
- C) 630 yılında Mekke fethedilmiştir.
- D) Müslümanlarla Mekkeli müşrikler arasında yapılan Bedir, Uhud ve Hendek savaşları yapılmış ve bu savaşları müslümanlar kazanmıştır.

4) Toplumsal yaşamın vazgeçilmezi olan değerlerin, örf ve âdetlerin, gelenek ve göreneklerin nesilden nesile aktarılmasını sağlayan kültürel öge aşağıdakilerden hangisidir?

- A) Din
- B) Tarih
- C) Dil
- D) Ahlak

5) Önyargılar insanlar arasındaki ilişkileri nasıl etkiler?

- A) Arkadaşlık bağlarını kuvvetlendirir.
- B) İletişimdeki hataları azaltır.
- C) Kişilerin doğru anlaşılmasını sağlar.
- D) İnsanları birbirinden uzaklaştırır.

6) Aşağıdakilerden hangisi sivil toplum örgütlerinin kuruluş amaçlarından değildir?

- A) Üyelerinin ekonomik ihtiyaçlarını karşılamak
- B) Toplumun birlik ve beraberliğini artırmak
- C) Toplumun sorunlarına çözüm bulmak
- D) Toplumunu bilinçlendirmek

7) Türkiye’de yaz mevsiminin kurak geçtiği ve kış mevsiminin soğuk ve karlı olduğu iklimlerde tahıl üretimi yapılmaktadır. Bu iklim türünde aşağıdaki fabrikalardan hangisinin kurulması daha uygundur?

- A) Meyve suyu Fabrikası
- B) Zeytinyağı Fabrikası
- C) Çay Fabrikası
- D) Un Fabrikası

8) Ülkemizde görülen Akdeniz ikliminin özellikleri şunlardır;

- Yazlar sıcak ve kuraktır.
- Kışlar ılık ve yağışlıdır.

Buna göre Akdeniz ikliminin hakim olduğu kıyı bölgelerde aşağıdaki faaliyetlerden hangisinin gelişmesi beklenemez?

- A) Yaz turizmi
- B) Kış turizmi
- C) Seracılık
- D) Tarım

9) Akarsular üzerine yapılan barajlar sayesinde elektrik enerjisi elde etmek mümkündür. Fakat bunun için akarsuların bazı özelliklere sahip olması gerekir.

Buna göre aşağıdaki özelliklerden hangisine sahip olan akarsu elektrik üretimine daha uygundur?

- A) Denize dökülen
- B) Uzunluğu kısa olan
- C) Akış hızlı fazla olan
- D) Tarımsal sulama için kullanılan

10) Türkiye’ye araştırma için gelen bir grup öğrenci Türkiye ile Yunanistan’ın bitki örtüsünün büyük oranda benzer olduğunu görmüştür.

Buna göre iki ülkenin hangi bakımdan benzer olduğu söylenebilir?

- A) Ülkelerin kapladığı alan
- B) İklim özellikleri
- C) Yer şekilleri
- D) Ekonomi

11) Türkiye 36° – 42° kuzey paralelleri arasında yer alır. Bu bilgiden hareketle Türkiye’nin konumu ile ilgili hangisi söylenemez?

- A) Türkiye Kuzey Yarım Küre’de yer alır.
- B) Türkiye’nin en kuzeyinde 42° kuzey paraleli bulunur.
- C) Türkiye’nin en güneyinde 36° kuzey paraleli bulunur.
- D) Türkiye Güney Kutup Noktası’na, Kuzey Kutup Noktası’ndan daha yakındır.

12) Aşağıda verilenlerden hangisinin üzerinde iklimin etkisi yoktur?

- A) Turizm faaliyetleri
- B) Hayvancılık
- C) Yer altı kaynakları
- D) Bitki örtüsünün dağılışı

13) Nüfusun dağılışını etkileyen doğal ve beşeri etmenler vardır. Aşağıdakilerden hangisinde nüfus artışının nedeni beşeri bir etkene dayandırılmıştır?

- A) İzmir de iklim şartlarının elverişli olmasından dolayı nüfusun yoğun olması
- B) İstanbul'da sanayinin gelişmiş olmasından dolayı nüfusun yoğun olması
- C) Adana'da düz ve verimli arazilerin bulunmasından dolayı nüfusun yoğun olması
- D) Antalya'da kışların ılık geçmesinden dolayı nüfusun yoğun olması

14) Amerika'da bir üniversite öğrencisi internetten müzik dosyası indirdiği ve bunu paylaştığı için dört plak şirketine 675 bin dolar ödemeye mahkûm edildi. Buna göre üniversite öğrencisi hangi hakkı ihlal ettiği için ceza ödemek zorunda kalmıştır?

- A) İnsan haklarını
- B) Telif ve patent hakkını
- C) Haberleşme hakkını
- D) Fikir hürriyeti hakkını

15) Bir ürünün piyasaya korsan olarak çıkarılması aşağıdakilerden hangisine neden olur?

- A) Eser sahibinin emeğinin karşılığını alamamasına
- B) Sanat adamlarının çoğalmasına
- C) Yeni eserlerin teşvikine
- D) Devlete verilecek verginin artmasına

16) Sosyal bilimler, toplum olaylarını, insanın sosyal ve kültürel faaliyetleri konusunda araştırma ve inceleme yapan bilim dallarını kapsar. Her sosyal bilim dalı insan yaşamının farklı bir alanını inceler. Buna göre aşağıdaki bilim dallarından hangisi sosyal bilimler arasında sayılır?

- A) Matematik
- B) Fizik
- C) Kimya
- D) Tarih

17) Teknoloji kullanımının sosyalleşme ve toplumsal ilişkiler üzerinde birçok olumlu etkisi vardır. Buna göre aşağıdakilerden hangisi bu olumlu etkilerden biri değildir?

- A) Geniş insan kitlelerine daha kolay ulaşılması
- B) Duygu ve düşüncelerin paylaşımını kolaylaştırması
- C) Kolay bir şekilde bilgi alışverişi yapılması
- D) Daha güçlü insan ilişkilerinin kurulması

18) Aşağıdakilerden hangisi korsan ürünlerle ilgilidir?

- A) Telif hakkı alınmış ürünlerdir.
- B) Üzerlerinde Kültür Bakanlığı bandrolü vardır.
- C) Ürünlerin vergisi devlete ödenmiştir.
- D) Başkalarının ürünlerini izni olmadan yasa dışı yollarla kopyalanmasıdır.

19) Aşağıdakilerden hangisi bilimsel araştırmanın son basamağı(aşaması)'dır?

- A) Kaynak taraması
- B) Problemin ortaya konması
- C) Konunun belirlenmesi
- D) Rapor hazırlama

20) Yararlanılan kaynakların araştırma sonunda belirtildiği bölüme kaynakça denir. Kaynakça'da aşağıdakilerden hangisi bulunmaz?

- A) Yazarın adı ve soyadı
- B) Kitabın sayfa sayısı
- C) Kitabın yayınevi
- D) Basıldığı yer ve yıl

Zeynep, kanın görevleri ile ilgili aşağıdaki kartı hazırlıyor.

Kanın Görevleri

1. Vücut ısısını ayarlar
2. Vücudu mikroplara karşı korur.
3. Hormonları ilgili organlara taşır.
4. Hücrelerde oluşan karbondioksit gazını akciğerlere taşır.

1) Buna göre, Zeynep'in hazırladığı kart ile ilgili aşağıdakilerden hangisi söylenebilir?

- A) Hazırladığı karttaki tüm bilgiler doğrudur.
- B) Kartın doğru olabilmesi için 2. Maddeyi çıkarmalıdır.
- C) Kartın doğru olabilmesi için 3. Maddeyi çıkarmalıdır.
- D) Kartın doğru olabilmesi için 4. Maddeyi çıkarmalıdır.

Öğretmen:.....

....

Asel: Uranüs

Öğretmen:.....

....

Merve:Dünya

Öğretmen:

.....

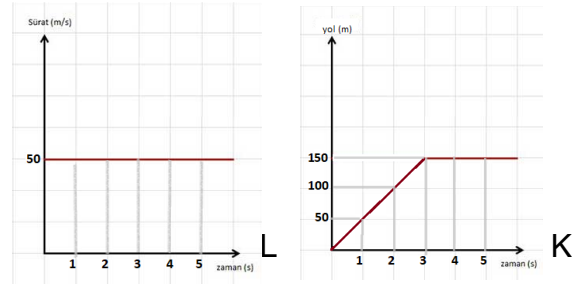
Onur: Jüpier

Öğretmenin sorularını öğrenciler yukarıdaki gibi ve doğru yanıtlamışlardır.

Buna göre aşağıdakilerden hangisi öğretmenin sorularından biri değildir ?

- A) Üzerinde yaşam olduğu bilinen tek gezegen hangisidir?
- B) Güneş sistemindeki en büyük gezegen hangisidir?
- C) Yörüngesinde yan yatmış varil gibi dolanan gezegen hangisidir?
- D) Çoban yıldızı olarak da bilinen gezegen hangisidir ?

3)



Yukarıda K ve L araçlarının yol-zaman ve sürat zaman grafikleri verilmiştir.

Buna göre aşağıda verilen bilgilerden hangisi yanlıştır ?

- A) K ve L araçlarının 2. Saniyedeki süratleri eşittir.
- B) L aracı sabit süratli hareket yapmıştır.
- C) 5 saniyede K aracının aldığı yol L aracının aldığı yola eşittir.
- D) L aracı 1. Ve 2. Saniyeler arasında 50 m yol almıştır.

4) Aşağıda verilenlerden hangisinin yapılma amacı ses yalıtımı sağlamak değildir?

- A) Otoban kenarlarına ağaçlandırma yapılması
- B) Gürültülü fabrikalarda çalışan işçilerin kulaklık takması
- C) Opera ve tiyatro salonlarının duvarlarının özel malzemelerle kaplanması
- D) Banyoların duvarlarının fayans ile kaplanması

5) K gezegenini Güneş'e L gezegeninden daha yakın, M gezegeninden ise daha uzaktır. M gezegeninin Güneş sisteminin ikinci büyük gezegeni olduğu bilindiğine göre ,

L gezegeni aşağıdakilerden hangisidir?

- A) Jüpiter B) Uranüs
- C) Neptün D) Satürn

Aşağıda kan hücreleri ile ilgili bilgiler verilmiştir.

X Kanda en az sayıda bulunan, en büyük ve beyaz renkli kan hücreleridir.

Y Kanda en küçük ve renksiz olan hücrelerdir.

Z Kanda en fazla bulunan kırmızı renkli kan hücreleridir.

Buna göre;

- i. X ile gösterilen kan hücresi vücut dokularına oksijen taşır.
- ii. Y ile gösterilen kan hücresi kanama sırasında kanın pıhtılaşmasını sağlar.
- iii. Z ile gösterilen kan hücresi vücudu mikroplara karşı korur.

6) Kan hücreleri ile ilgili yukarıda verilen bilgilerden hangileri doğrudur ?

- A) Yalnız II B) II ve III C) I ve III D) I, II ve III

7)



Yanda verilen kan dolaşımı ile ilgili;

- i. Büyük kan dolaşımıdır.
- ii. Kanın kalp ile vücut dokuları arasındaki dolaşımıdır.
- iii. Kan dolaşımının amacı

karbondioksitçe zengin kanın temizlenmesini sağlamaktır.

ifadelerinden hangileri doğrudur?

- A) Yalnız I B) II ve III C) I ve II D) I, II, III

Öğretmen: Kendi evinizi kendiniz yapacak olsaydınız sesin yalıtımı için neler yapardınız?

Seda:Çatıyı cam yünü ile kaplardım.

Sinem:Duvarlarda delikli tuğlalar kullanırdım.

Vildan:Evin duvarlarını strafor köpük ile kaplardım.

Gizem: Evin dış yüzeyini demir kaplama ile kaplardım.

Öğretmenin sorusuna öğrenciler yukarıdaki gibi yanıtlar vermiştir.

8) Buna göre hangi öğrencinin verdiği cevap ses yalıtımı için uygun değildir?

A)Seda B) Sinem C) Vildan D) Gizem

Emir çalar saatin etrafına ilk önce pamuk sararak daha sonra ise alüminyum folyo koyarak eşit uzaklıktan dinliyor.

Buna göre;

1. Çalar saatin etrafında alüminyum folyo varken duyduğu ses pamuk varken duyduğu sestən şiddetlidir.

2. Bu deney sonucunda sesin soğurulma miktarının maddenin cinsine bağlı olduğunu ispat etmiştir.

9) Verilenler ile ilgili aşağıdakilerden hangisi söylenebilir?

A) Yalnız 1.bilgi doğrudur.

B) Yalnız 2.bilgi doğrudur.

C) Her iki bilgide doğrudur.

D) Her iki bilgide yanlıştır.

1. Uzaydaki gök cisimlerinden kopan ve başka gök cisimlerinin çekim alanine giren taşlardır.

2. Atmosfere girerek Dünya yüzeyine ulaşabilen taşlara verilen isimdir.

3. Çoğunlukla Mars ve Jüpiter arasında bulunan, belirli yörüngede dolanan gök cisimleridir.

Aşağıda bazı kavramlar yukarıda ise bu kavramlara ait tanımlar **karışık** olarak verilmiştir.

a) Asteroit

b) Meteor

c) Göktaşı

10) Buna göre verilen kavramlar ile tanımları aşağıdaki seçeneklerden hangisinde doğru eşleştirilmiştir?

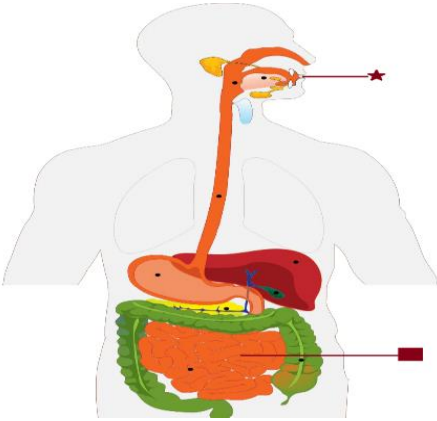
A)1-a	B) 1- b	C) 1-b	D)1-c
2-c	2- c	2-a	2-a
3-b	3-a	3-c	3-b

- i. Kasların kasılıp gevşemesi ile besinlerin midede bulamaç haline gelmesi
- ii. Pankreas özsuynunun ince bağırsakta proteinleri yapıtaşlarına ayırması
- iii. Ağızda karbonhidratların kana geçebilecek hale gelmesi
- IV. Ince bağırsağa dökülen safra sıvısının yağları parçalaması

12) Yukarıdaki ifadelerden hangileri fiziksel sindirime örnek verilebilir ?

- A) I ve II B) I ve IV C) I ve III D) II ve III

13)



Sindirim sistemini oluşturan organ veya yapılardan bazıları sembollerle gösterilmiştir.

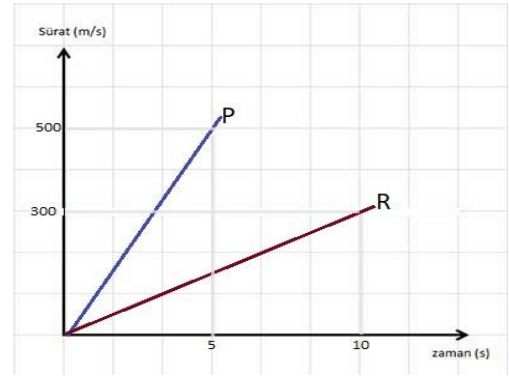
Buna göre;

- i. Besinlerin fiziksel sindirimi gerçekleşir.
- ii. Karbonhidratların kimyasal sindirimi gerçekleşir.
- III. Sindirilen besinlerin emilimi gerçekleşir.

Verilenlerden hangileri ★ ve ■ sembolleri ile gösterilen organlar için ortaktır?

- A)Yalnız I B) II ve III C) I ve II D) I, II, III

13)



Yukarıda P ve R araçlarının yol-zaman grafikleri verilmiştir.

Buna göre bu araçlar ile ilgili hangi seçenekte verilen bilgi yanlıştır?

- A) P aracının sürati R aracından fazladır.
- B) 5 dakikada P aracı R aracından daha fazla yol almıştır.
- C) Aynı mesafeyi P aracı R aracından daha uzun sürede alır.
- D) Eşit sürede P aracının aldığı yol R aracının aldığı yoldan fazladır.

14)

Madde	Sıcaklık(°C)	Sesin Sürati (m/s)
Hava	0	332
Hava	80	374
Su	0	1432
Su	80	1986
Demir	0	5000
Demir	80	5224

Yukarıdaki tabloda sesin farklı ortam ve sıcaklıklardaki sürati verilmiştir.

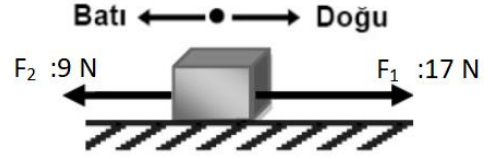
Yalnızca tablodaki bilgilere bakılarak;

- i. Ortam sıcaklığı arttıkça sesin sürati artar.
- ii. Ses aynı sıcaklıktaki sıvı ortamda gaz ortamdaki süratinden daha süratli yayılır.
- iii. Ses maddesel olmayan ortamda yayılamaz.

ifadelerinden hangilerine ulaşılabilir ?

- A) Yalnız I B) II ve III
C) I ve II D) I, II ve III

15)



K cisminin F_1 , F_2 ve F_3 kuvvetleri etki etmektedir ve F_1 ve F_2 kuvvetlerinin büyüklükleri ile yönleri şekilde gösterilmiştir.

Buna göre;

- i. F_3 kuvveti batı yönünde 8N büyüklüğünde ise cisim dengelenmiş kuvvetlerin etkisinde olur
- ii. Cisim Batı yönüne doğru süratlenerek hareket ediyorsa F_3 kuvveti batı yönüne doğru 10N büyüklüğünde olabilir.
- iii. K cisimi doğu yönüne doğru sabit sürat ile hareket ediyorsa F_3 kuvveti doğu yönüne doğru 5N büyüklüğünde olabilir.

Ifadelerinden hangileri doğrudur?

- A) Yalnız I B) I ve II C) II ve III D) I,II,III

Bütün maddeler tanecikli yapıdan oluşur. Taneciklerin dizilişleri maddenin katı, sıvı veya gaz olmasına göre değişkenlik gösterir. Ancak madde hangi halde olursa olsun maddeyi oluşturan tanecikler arasında boşluk bulunur. Bu boşluk katılarda yok denecek kadar az iken gazlarda çoktur.

Aşağıda günlük hayattan bazı örnekler verilmiştir.

- i. Küp şekerin sıcak suya atılıp bir süre beklendiğinde şekerin gözden kaybolması
- ii. İçinde hava bulunan şiringanın ucu kapatılıp piston itildiğinde piston kolaylıkla hareket etmesi
- iii. Zeytinyağının bardağa konulduğunda bardağın şeklini, tavaya konulduğunda tavanın şeklini alması

16) Buna göre verilen örneklerden hangileri maddeyi oluşturan tanecikler arasında boşluk bulunduğunu kanıtlar ?

A)Yalnız I B) I ve II C) II ve III D) I, II, III

17) Kan nakli, hayat kurtarmaktadır. Ancak kan nakli bekleyen birçok hasta güvenli kana ulaşamamaktadır. Ülkemizdeki ortalama kan bağıışı oranı 1000 kişi başına 10-20 ünite iken, gelişmiş ülkelerde bu oran 38,1'dir. Kaynağı insan olan ve elde edilmesi için başka alternatifi bulunmayan bir tedavi aracı olan kanın bağıışlanması hastaların sağlığı ve toplumsal dayanışma açısından önem arz etmektedir.

Yukarıda kan bağıışı ile ilgili bilgiler içeren paragraf verilmiştir.

Buna göre bu paragraftan;

- i. Ülkemizdeki kan bağıışı oranı gelişmiş ülkelerinkinden azdır.
- ii. Yeterli oranda kan bağıışı yapılmadığı takdirde farklı yöntemler gerekli olan kanı üretebilir.
- iii. Kan bağıışı hem birey hem de toplum açısından önemlidir.

ifadelerinden hangilerine ulaşılabilir ?

A)Yalnız I B) I ve II C) I ve III D) I, II, III

Öğretmen bir etkinlik hazırlayarak öğrencilerden cümleyi doğru ifade edecek kelimelerden doğru olanı seçmelerini istemiştir. Mert etkinliği aşağıdaki gibi doldurmuştur.

-Atardamarlar/Toplardamarlar kanı kalpten vücuda taşıyan yapılarıdır.

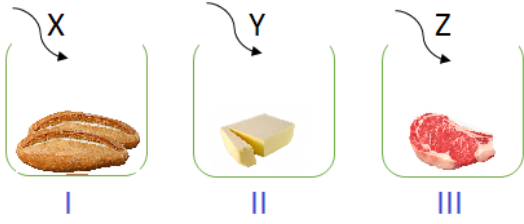
-Kalbin her kasılışında atardamarlara yaptığı vuruş etkisine nabız/tansiyon denir.

-Kalbe gelen kan kalbin üst/alt odacıklarına dökülür.

18) Buna göre Mert'in dolaşım sistemi ile ilgili bilgisi ile ilgili aşağıdakilerden hangisi söylenebilir ?

- A) Dolaşım sistemi ile ilgili bilgileri doğrudur.**
- B) Atardamarlar ile toplardamarların görevini karıştırıyor.**
- C) Nabız ile tansiyonun tanımını karıştırıyor.**
- D) Kanın kalbe döküldüğü odacığı karıştırıyor.**

19)



Yukarıdaki besinlerin üzerine X, Y ve Z sıvı veya enzimleri dökülüyor. Bir süre sonra I. kaptaki ekmeğin yapıtaşlarına ayrıldığı, II.kaptaki tereyağının yalnızca küçük parçalara ayrıldığı, III.kaptaki ette ise herhangi bir değişiklik olmadığı gözleniyor.

Buna göre aşağıda verilen bilgilerden hangisi yanlıştır?

- A) I.kapta kimyasal sindirim gerçekleşmiştir.
- B) Y, safra sıvısı olabilir.
- C) Z pankreas tarafından salgılanan enzim olabilir.
- D) Ekmeğin yapıtaşlarına ayrılmasını tükürüğün içindeki enzimler sağlamış olabilir

20) “Aynı ses farklı ortamlarda farklı duyulur.” Hipotezini test etmek isteyen Arzu aşağıda verilen deneylerden hangisini yapmalıdır ?

- A) Plastik bardağa önce tahta kaşıkla sonra da metal kaşıkla vurmaları çıkan sesi dinlemelidir.
- B) Farklı müzik aletlerinde aynı notaları çalarak çıkan seslerin farklı olduğunu anlamalıdır.
- C) Tahta parçalarını önce havada sonra suda birbirine vurmalarıdır.
- D) Bir çalar saati havası alınmış fanusun içine koyarak sesini dinlemelidir.

1)

I - I sleep at 11pm.

II - I have lunch at 12.

III - I get up at 7am.

IV - I have breakfast.

Put the daily routines into the correct order.

A) I - III - IV - I

B) III - II - I - IV

C) III - IV - II - I

D) I - II - IV - III

2)



John : What do you do after dinner ?

Jack :

A) I read a book.

B) I play the guitar.

C) I watch TV.

D) I listen to music.

3) Tommy : When were you born ?

Mert :

A) I was born in Siirt.

B) Yes, I was.

C) He was born in Istanbul.

D) I was born on 5th of April,2005.

Mark is a student in the 6th grade. His school finishes at 2 and he goes home at half past two. He has a rest after he arrives home, but on Wednesdays he has a piano class from three to four. He does his homework before dinner. He has dinner with his family at six o'clock. Then they watch a movie on TV. He goes to bed at ten o'clock. He goes to bed late on weekends. Because they visit their grandparents and play games on Staurdays.

Answer the questions (4-5-6) according to the text above.

4-) When does Mark do his homework ?

A) At 3.




B) Before dinner.

C) After dinner.

D) At 4.

5) What does Mark do after dinner ?

- A) He does his homework.
- B) He has a rest.
- C) He watches a movie.
- D) He has a shower.

FOR BREAKFAST			
			
Jack	✓	✗	✓
Susan	✗	✓	✗
Tom	✗	✗	✓
Mary	✓	✓	✓

8) Which option is TRUE ?

- A) Tom likes cereal and croissants.
- B) Susan doesn't like butter.
- C) Jack likes cereal and croissants.
- D) Mary doesn't like butter and cereal.


6) Does Mark go to bed late on weekdays?

- A) Yes, he does.
- B) No, he doesn't.
- C) Yes, he do.
- D) No, he don't.

7) Waiter : Do you want some coffee ?

Susan : _____. I want some tea.

- A) I love coffee.
- B) Of course.
- C) Yes.
- D) No, thanks



9) Which option is TRUE ?

- A) Tom is fatter than Jack.
- B) Jack is fatter than Tom.
- C) Tom is slimmer than Jack.
- D) Tom is thinner than Jack.

10)



Mary : What is she doing ?

Jack : _____.

- A) She is feeding the dog.
- B) She is flying a kite.
- C) She is watering the flowers.
- D) She is playing chess.



İstanbul

Siirt

11) Which option is TRUE ?

- A) İstanbul is more crowded than Siirt.
- B) Siirt is more crowded than İstanbul.
- C) Siirt is noisier than İstanbul.
- D) İstanbul is quieter than Siirt.

12)


Tom: What is your mother's job ?



Susan: She is a _____.

- A) Nurse
- B) Tailor
- C) Doctor
- D) Vet

13)



Ahmet

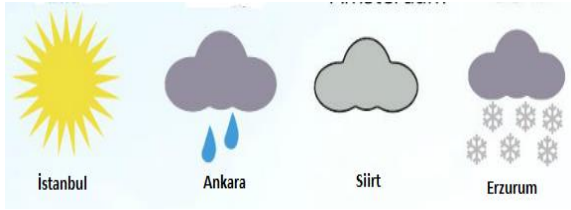
Hasan

50 kg.

35 kg.

Which option is FALSE ?

- A) Ahmet is shorter than Hasan.
- B) Hasan is shorter than Ahmet.
- C) Ahmet is heavier than Hasan.
- D) Ahmet is taller than Hasan.



He works in a garage.
He can repair cars.

Answer the questions (14- 15-16) according to the picture above.

14-) Which option is TRUE ?

- A) The weather is rainy in İstanbul.
- B) The weather is sunny in Ankara.
- C) The weather is cloudy in Siirt.
- D) The weather is hot in Erzurum.

15) What is the weather like in Erzurum ?

- A) It is snowy.
- B) It is rainy.
- C) It is cloudy.
- D) It is sunny.

16) What is the weather like in Ankara ?

- A) It is sunny.
- B) It is snowy.
- C) It is cloudy.
- D) It is rainy.

17) Find the correct job in the text.

- A) Lawyer
- B) Mechanic
- C) Doctor
- D) Teacher

Answer the questions (18-19-20) according to the text below.

Chris: Let's talk about free time activities.

Do you like fairs, Tom?

Tom : Yes, I love fairs. I think, they are fun and exciting. What do you think?

Chris: Yes, I like fairs, too. I think, they are amusing.

Tom : You are right. I like ghost trains. They are so enjoyable.

Chris: Ghost trains? Ohh, I don't like them.

They are frightening. I like bumper cars.

Tom : I agree with you. Bumper cars are thrilling.

Chris: Let's go to the fair and have some fun.

18-) What does Chris think about fairs ?

- A) He thinks they are dull.
- B) He thinks they are boring.
- C) He thinks they are amusing.
- D) He thinks they are frightening.

19) Does Tom like ghost trains ?

- A) No, he doesn't.
- B) Yes, he does.
- C) He thinks they are boring.
- D) He thinks they are frightening.

20) What does Tom think about ghost trains ?

- A) He thinks they are enjoyable.
- B) He thinks they are frightening.
- C) He thinks they are boring.
- D) He thinks they are dull.

Müjdeleyici ve sakıncı olarak peygamberler gönderdik ki insanların peygamberlerden sonra Allah 'a karşı (bizi imana çağırın kimse olmadı diye) bir bahaneleri olmasın . Allah aziz ve hikmet sahibidir. (Nisa suresi 165.

1)Yukarıda verilen ayette vurgulanan konu aşağıdakilerden hangisidir ?

- A) Peygamberlerin çok eziyet çekmesi
- B) Peygamberlerin gönderiliş amacı
- C) Peygamberlerin yaratılanların en üstünü olduğu
- D) Peygamber gönderiminin devam ettiği

2) 'Kuran-ı kerim de adı geçip peygamber olup olmadığı kesin olmayan üç isim vardır '

Aşağıdakilerden hangisi bu isimlerden biridir?

- A) Hz. İbrahim
- B) Hz. Musa
- C) Hz. Lokman
- D) Hz. Davut

3) Ayşe öğretmen : Çocuklar geçen hafta peygamberlerin sıfatları konusunu işlemiştik.

Şimdi bana bu sıfatları açıkla mısınız?

Öğretmenin yaptığı açıklamaya göre aşağıdaki öğrencilerden hangisi yanlış cevap vermiştir ?

- A) Ahmet : sıdk,peygamberlerin doğru sözlü olmalarıdır
- B) Elif : Emanet, peygamberlerin güvenilir olmalarıdır
- C) Yusuf : ismet, peygamberlerin günahattan uzak olmalarıdır
- D) Eda : Fetanet, Allah' tan aldıkları vahyi insanlara ulaştırmalarıdır

4) Kuran-ı kerimle ilgili olarak aşağıda verilen cümlelerden hangisi yanlış bir ifadedir ?

- A) Kutsal kitapların sonuncusudur
- B) Hz. Muhammed' e gönderilmiştir
- C) 610 yılında Kadir Gecesi nde indirilmeye başlandı
- D) Tahrif olmuş (bozulmuş) kitaplar arasındadır

5) I. İlk insan ve ilk peygamberdir
II. İblis kendisine itaat etmiştir
III. yaptığı hata sebebiyle cennetten atılmıştır
IV.Denizi ikiye ayırması en önemli mucizelerindedir

Hz. Adem le ilgili yukarıda verilen cümlelerden hangisi veya hangileri doğrudur ?

- A) Yalnız I
- B) I ve II
- C) I ve III
- D) III ve IV

NAMAZ ÇEŞİTLERİ



**FARZ NAMAZLAR
NAMAZLAR**



VACİP NAMAZLAR



**NAFİLE
NAMAZLAR**

6) Yukarıdaki grupelemeye göre aşağıdakilerden hangisi nafil namazlar grubundadır ?

- A) Günlük 5 vakit Namaz
- B) Şükür Namazı
- C) Cenaze Namazı
- D) Bayram Namazı

7) Aşağıdaki durumlardan hangisi namazı bozan durumlardan biri değildir ?

- A) Namazda bir şey yemek veya içmek
- B) Namazdayken abdestin bozulması
- C) Namazda hapşırma
- D) Namazın farzlarından birini terketmek

8) Namazla ilgili verilen açıklamalardan hangisi yanlış bir ifadeyi tanımlamaktadır ?

- A) Ezan okuyan kişiye müezzin denir
- B) Teravih namazı nafil (sünnet) namazlara örnektir
- C) Namaz islamın 5 şartından biridir
- D) Cuma namazı kadın erkek her Müslümana farzdır.

9) Yukarıda Hz Zekeriya (a.s) ile ilgili verilen bilgilere göre parçadan aşağıdaki cümlelerden hangisi çıkarılamaz ?

- A) Hz. Zekeriya Hz İsa ile aynı dönemde yaşamıştır
- B) Hz Zekeriya'nın oğlu kavmi tarafından sevgiyle karşılanmıştır
- C) Hz. Zekeriya yaşlıyken çocuk sahibi olmuştur
- D) Hz Zekeriya kavmi tarafından eziyete uğramıştır

10) Suyun olmadığı yerde toprakla alınan abdest türüne

..... denir

Yukarıda boş bırakılan yere aşağıdaki kelimelerden hangisi gelmelidir ?

- A) Teyemmüm
- B) Boy abdesti
- C) Namaz abdesti
- D) Gusül abdesti

CEVAP: Namazda ayakta iken belirli bir miktar Kuran okumaya denir

11) Yukarıda cevabı verilen tanımın soru cümlesi aşağıdakilerden hangisi olabilir?

- A)Secde nedir? B)Rüku nedir?
- C)Kıraat nedir? D) Kıyam nedir

12) Aşağıdakilerden hangisi zararlı alışkanlıklara başlama sebepleri arasında sayılamaz?

- A) Kötü arkadaş çevresi
- B) Psikolojik sorunlar
- C) Merak ve özentisi
- D) Zararlı alışkanlıklar hakkında bilgi sahibi olma

ZARARLI ALIŞKANLIKLAR

- 1..... 2.....
3..... 4.....

13) Yukarıda verilen numaralara aşağıdakilerden hangisi yazılamaz ?

- A) Eğitici Oyunlar
- B) Sigara
- C) Uyuşturucu
- D) Kumar

14) Zararlı alışkanlıklarla ilgili verilen cümlelerden hangisi yanlış bir ifadedir ?

- A) Zararlı alışkanlıklar hem kişiye hem çevresine zarar verir
- B) Zararlı alışkanlıklar bağımlılık yapar
- C) Sigara kişinin sadece bedenine zararlıdır
- D) Zararlı alışkanlıklar kul hakkına sebebiyet verebilir

15) Aşağıdaki cümlelerden hangisi zararlı alışkanlıklardan korunma yollarından biridir?

- A) Sosyal medya kullanımını arttırmak
- B) Dini değerlerimize uygun yaşamak
- C) Bir kereden bir şey olmaz düşüncesiyle hareket etmek
- D) Arkadaşların her türlü önerisine uymak

Ebu leheb kahrolsun. Kahroldu da .Malı ve kazandıkları ona fayda vermedi. O,alevli bir ateşte yanacak. Odun taşıyıcı ve boynunda hurma lifinden ip olduğu halde karısı da (ateşe girecek) Tebbet suresi.

16) Yukarıda anlamı verilen Tebbet suresinden aşağıdaki yargılardan hangisi çıkarılamaz ?

- A) İnsanın sahip olduğu mal ahirette bir fayda vermeyecektir
- B) Ebu leheb ve karısı cehennemlidir
- C) Ebu lehebin peygamberimizin amcası olduğu surede belirtilmiştir
- D) Karısı cehenneme odun taşıyacaktır

17) Yukarıda yer alan numaralı cümlelerden hangisinde bir bilgi yanlışı vardır ?

- A) 1 B) 2
C) 3 D) 4

Mekke'den Medine'ye hicret edenlere.....denir
Medineli Müslümanlara.....denir

18) Yukarıdaki cümlelerde boş bırakılan yerlere gelecek uygun kelimeler aşağıdakilerden hangisidir?

- A) Muhacir – Ensar
B) Ensar - Muhacir
C) Müdrik – Muhacir
D) Ensar – Müdrik

19) Aşağıda peygamber Efendimiz'in hayatından bazı olaylar oluş sırasına göre sıralanmıştır

- 1.peygamberliğin verilmesi
- 2.Eşi Ve Amcasını kaybetmesi
- 3.Medine'ye hicret edilmesi
- 4.Hudeybiye antlaşmasının gerçekleşmesi
- 5.Uhud Savaşı'nın meydana gelmesi
- 6.Mekke'in fethi

Yukarıda sıralanan cümlelerden hangi ikisinin yerinin değişmesiyle sıralama doğru olur ?

- A) 2 ve 3
B) 4 ve 6
C) 4 ve 5
D) 2 ve 5

20) Mescid-i Nebi'nin önemli bir mescit olmasının yanında pek çok fonksiyonu vardı. Devlet işlerinin görüşüldüğü,savaş istişaresinin yapıldığı, dine davet merkezi olan bu mescitte kimsesizlerin kalması için bir bölüm tayin edilmişti.

Kimsesizlerin kalıp eğitim gördüğü bu bölüme ne ad verilirdi?

- A) Darun Nedve
B) Suffe
C) Dar-ul Erkam
D) Mescid-i Kuba

CEVAP ANAHTARI

TÜRKÇE	MATEMATİK	SOSYAL BİLGİLER	FEN BİLGİSİ	İNGİLİZCE	DİN KÜLTÜRÜ
1-C	1-B	1-C	1-D	1-C	1-B
2-A	2-A	2-B	2-D	2-A	2-C
3-C	3-D	3-D	3-C	3-D	3-D
4-C	4-C	4-C	4-D	4-B	4-D
5-C	5-B	5-D	5-C	5-C	5-C
6-B	6-A	6-A	6-A	6-B	6-B
7-B	7-C	7-D	7-C	7-D	7-C
8-A	8-C	8-B	8-D	8-B	8-D
9-C	9-D	9-C	9-C	9-A	9-B
10-C	10-D	10-B	10-B	10-C	10-A
11-B	11-C	11-D	11-B	11-A	11-C
12-C	12-A	12-C	12-C	12-B	12-D
13-D	13-A	13-B	13-C	13-A	13-A
14-B	14-B	14-B	14-C	14-C	14-C
15-D	15-C	15-A	15-B	15-A	15-B
16-B	16-A	16-D	16-B	16-D	16-C
17-B	17-B	17-D	17-C	17-B	17-D
18-C	18-D	18-D	18-D	18-C	18-A
19-B	19-B	19-D	19-C	19-B	19-C
20-D	20-A	20-B	20-C	20-A	20-B

EMEĐİ GEĐEN ÖĐRETMENLERİMİZ

Kendal ELDEMİR

Reva KAYA

Özge SEZER

Ömer YAŐAR

Kerim AĐLIYAN

H.Başak DANIŐ

H.Gülnur BİLDİ

Onur ILIKHAN

Mümine YILDIZ

RuŐen BAŐARI