

İLKOKUL 3.SINIF

HAFTALIK EV ÖDEVİ
11-15 Mayıs



SIİRT İL MİLLİ EĞİTİM MÜDÜRLÜĞÜ
2020

NOKTA .

Benim adım nokta.

Her zaman yerim var cümle sonunda.

2.(ikinci) sırada ve kısaltmalarda, Sakın beni unutma.

ÜNLEM !

Bana derler ünlem.

**Ne zaman üzülse,
Şaşırsa veya sevinsen,
Beni bulursun cümle sonunda.**

**Uzun bir çizgiyim, altında nokta.
Sakın bunu unutma !**

VİRGÜL ,

**Adımı sorarsan bana,
Virgül derim.**

Sıralanan kelimeler arasında yerim.

**Mesela dersin,
Bugün elma, armut, erik yedim.
Görürsün ben nerdeyim.**

SORU İŞARETİ ?

Aslında bilirsin beni.

Tüm işaretlerin en güzeli.

Biri sorarsa sana

Bu şekeri kim yedi?

Tanımaz mısın cümle sonunda beni?

(Aşağıdaki ilk 4 soruyu yukarıdaki şiire göre cevaplayınız.)

1) Şiirdeki bilgilere göre virgül nerelere konulmuş?

- A) Cümlelerin en başına
- B) Sıralanan kelimelerin arasına
- C) Cümlelerin sonuna

2) Şiirdeki bilgilere göre nokta cümle sonundan başka nerelerde kullanılmış?

- A) Sıra ve kısaltmalarda
- B) Ünlem işaretinden sonra
- C) Her kelimenin sonunda

3) Şiire göre ünlem işareti sevinç, üzüntü, şaşırma gibi duyguları bildiren cümlelerin sonuna konulmuş.

Buna göre hangi cümlelerin sonuna ünlem işareti konulmaz?

- A) Yaşasın artık benim de bir bisikletim var
- B) Karnem kötü notlarla dolu
- C) Dayım gelirse bana haber ver

4) Şiirdeki soru işareti kendisini nasıl nitelendiriyor?

- A) Tüm işaretlerin en güzeli olduğunu söylüyor.
- B) O olmadan cümle yazılamayacağını söylüyor.
- C) Kendisinin çok bilgili biri olduğunu söylüyor.

5) “Ben içi, dışı bir olan bir insanım.”

Cümlesinde altı çizili kelimeler anlam bakımından hangi gruba girer?

- A) Eş anlamlı kelimeler
- B) Zıt anlamlı kelimeler
- C) Eş sesli kelimeler

6) “Keşke derslerime biraz daha çalışsaydım, şimdi takdir belgesi almış olacaktım.”

Yukarıdaki cümlede aşağıdaki duygulardan hangisi dile getirilmektedir?

- A) özlem
- B) öfke
- C) pişmanlık

7) “Kumbara -sanayi- kiremit- sandalye”

Kelimelerini alfabetik sıraya koyarsak, en sonda hangi sözcük bulunur?

- A) sanayi
- B) kumbara
- C) sandalye

8) “Ali, sarı yapraklar arasında iki ayva gördü.”

Cümlesinde geçen sıfatlar aşağıdaki seçeneklerden hangisinde doğru olarak verilmiştir?

- A) Ayva - sarı
- B) İki - yaprak
- C) sarı - iki

9) “Göz” kelimesi aşağıdakilerden hangisinde gerçek anlamda kullanılmıştır?

- A) Yemeğin tuzunu göz kararı koydum.
- B) Göz doktoruna gitmem gerekiyor.
- C) Sporcular başarıları ile göz doldurdu.

10) 1- değildir

2- başarıya

3- çalışmıyorsanız

4- ulaşmanız

5- mümkün

Yukarıdaki kelimeler nasıl sıralanırsa anlamlı ve kurallı bir cümle olur?

- A) 3-2-4-5-1
- B) 3-2-5-4-1
- C) 5-3-2-4-1

11) Aşağıdaki sözcük çiftlerinden hangisi diğerlerinden farklıdır?

- A) eksik – noksan
- B) hızlı – yavaş
- C) geniş - dar

12) Aşağıdaki cümlelerin hangisinde karşılaştırma yapılmıştır?

- A) Şevin ile Öykü uçurtma uçuruyorlardı.
- B) Elma ve şeftali yaz meyvesidir.
- C) Bu yıl yağmur ve kar daha çok yağdı.

13) “Elinden bir iş gelmez denilen kişi, kendisinden beklenmeyen işler becerebilir.”

Yukarıda açıklaması verilen atasözü hangisidir?

- A) Ummadığın taş, baş yarar.
- B) Tek taş duvar olmaz.
- C) Ağır taş, yerinden oynamaz.

14) Aşağıdaki cümlelerden hangisinin sonuna “ ? ” konmaz?

- A) Elma da tatlı mı tatlı
- B) Ayşe mi hastalandı
- C) Ali ne zaman geldi

15) - I- İki hafta kalacağız.
II- Burada ne kadar kalacaksınız?
III- Hayır, dün geldik.
IV- Buraya bugün mü geldiniz?
Yukarıdaki cümleler nasıl sıralanırsa, iki kişinin karşılıklı konuşması olur?

- A) I-II-III-IV
- B) IV-I-III-II
- C) IV-III-II-I

16) Aşağıdaki cümlelerin hangisinde yazım yanlışı vardır?

- A) Mutfakta birimi var?
- B) Aliler Ankara’ya gidiyormuş.
- C) TBMM 23 Nisan 1920’de açıldı.

17) Aşağıdaki seçeneklerde verilen kelimelerin hangisiyle bir cümle oluşturamayız?

- A) dostluğumuz - yaşlarda - onunla - küçük
- B) yarın - var - okulumuzda - tatbikatı - deprem
- C) bana - dedem - anlattı - bir - güzel - masal

18) Geçen yaz taşınmışlardı buraya. Elif, eski mahallesini çok seviyordu; yeni evlerine bir türlü alışamamıştı. Bu nedenle hep gitmek istiyordu buradan. O sabah erkenden kalktı, annesi uyanmadan evden çıktı.

Paragrafta hangi sorunun yanıtı yoktur?

- A) Kim?
- B) Niçin?
- C) Nasıl?

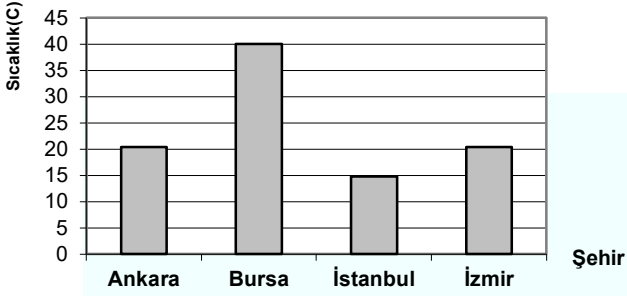
19) “Zeynep, çöp kutusuna atılmış bir kitap buldu. Gözleri sevinçle parladı. Uzun süreden beri bu kitabı satın almak istiyordu. Kitabı okşar gibi tuttu. Tozlarını temizledi.”

Yukarıdaki yazının devamı olan cümle aşağıdakilerden hangisi olabilir?

- A) “Bu kitap işime yaramaz.” diyerek çöpe geri attı.
- B) Kitabı satmak için kitapçıya doğru yürüdü.
- C) “Nasıl atarlar seni buraya!” diye söylendi.

20) “koyun” sözcüğü hangisinde diğerlerinden farklı anlamda kullanılmıştır?

- A) Şu kitapları dolaba koyun.
- B) Bu koyunlar pazarda satılacak.
- C) Şu börekleri koyun masaya.



1) Üstte belli bir zamana ait sıcaklık grafiği verilmiştir. Buna göre aşağıdakilerden hangisi yanlıştır?

- A) Ankara ile İzmir'de sıcaklık aynıdır
- B) İstanbul'da sıcaklık 20 'dir.
- C) En sıcak şehir Bursa'dır.

2) Aşağıdaki seçeneklerden hangisindeki sayıların hepsi tek sayıdır?

- A) 26, 316, 8, 52, 230
- B) 31, 679, 24, 10, 73
- C) 3, 61, 33, 85, 107

3) 417 sayısında basamak değeri en büyük olan sayı ile sayı değeri en büyük olan rakamın toplamı kaçtır?

- A) 10
- B) 407
- C) 5

4) **206, 198, 256, 311, 312**

Doğal sayılarının büyükten küçüğe doğru sıralanışı aşağıdakilerden hangisidir?

- A) $198 > 206 > 256 > 311 > 312$
- B) $312 < 311 < 206 < 256 < 198$
- C) $312 > 311 > 256 > 206 > 198$

5) **"4 - 8 - 12 - 16 - 20"**

Rakamlarının sıralanışı, hangi seçenekte Romen rakamlarıyla verilmiştir?

- A) IV - VIII - XII - XIIIIII - XX
- B) VI - VIII - XII - XVI - XX
- C) IV - VIII - XII - XVI - XX

6) "ABC" Üç basamaklı bir doğal sayıdır. A rakamını 4 artırırsak yeni sayımız nasıl değişir?

- A) 4 artar
- B) 400 azalır.
- C) 400 artar.

7) $A = 3$

$A + B = 10$

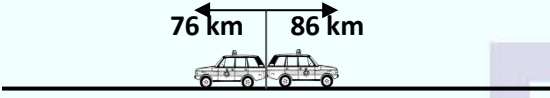
$B + C = 12$ ise $A + C = ?$

A) 7

B) 8

C) 9

8)



Saatteki hızları 86 ve 76 km olan iki taşıt aynı anda aynı noktadan ters yönlerde hareket ediyor. 3 saat sonra birbirlerinden kaç kilometre uzaklaşmış olurlar?

A) 258

B) 228

C) 486

9) Erkek öğrenciler, sınıf mevcudunun $\frac{4}{7}$ 'si kadardır. Sınıfımızda 18 kız öğrenci bulunduğu göre sınıf mevcudumuz kaç kişidir?

A) 42

B) 25

C) 24

10)

$$\begin{array}{r} \dots\dots\dots | 35 \\ - \quad \quad \quad | \\ \hline \quad \quad 24 | 17 \end{array}$$

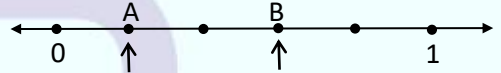
Yukarıdaki bölme işleminde bölünen kaçtır?

A) 595

B) 619

C) 721

11)



Sayı doğrusunda 0 ile 1 arası birbirine eş 5 parçaya bölünmüştür. A ve B noktalarına karşılık gelen kesirler aşağıdakilerden hangisidir?

A) $\frac{1}{5} - \frac{3}{5}$

B) $\frac{2}{5} - \frac{4}{5}$

C) $\frac{3}{5} - \frac{4}{5}$

12)



Yukarıda verilen şekillerle aşağıdaki geometrik şekillerden hangisi oluşturulur?

- A) Küp
- B) Dikdörtgen prizma
- C) Kare prizma

13) Aşağıdaki şekillerin hangisinde boyalı kısım birim kesri gösterir?

- A)
- B)
- C)

14)

$$\begin{array}{r} \dots \\ - 179 \\ \hline 234 \end{array}$$

Yukarıdaki işlemde, “ . . . ” yerine aşağıdaki hangi sayı yazılmalıdır?

- A) 431
- B) 235
- C) 413

15)



Tanesi 30 kuruş olan yumurtalardan 20 tane alabilmem için 5 TL'nin üzerine kaç TL daha eklemeliyim?

- A) 1
- B) 2
- C) 3

16)



Yukarıdaki örüntüde noktalı yerlere sırasıyla hangi şekiller gelmelidir?

- A)
- B)
- C)

17) Toplamları 87 olan iki sayıdan biri diğerinden 23 fazladır. Büyük sayı kaçtır?

- A) 32
- B) 55
- C) 64

18) Sabah 8.30' da okula gelen Nilgün, öğleden sonra 15.10' da okuldan ayrılıyor. Nilgün okulda kaç saat kaç dakika kalmıştır?

- A) 5 saat 20 dakika
- B) 6 saat 40 dakika
- C) 6 saat 10 dakika

19) 4 kg unun 1250 gramı ile kurabiye yapıldı. Kaç gram un kaldı?

- A) 1750
- B) 2750
- C) 3750

	Kalemin kâğıt üzerinde bıraktığı ize <u>nokta</u> denir.
	Noktayı “.” sembolü ile gösteririz.
	Noktayı büyük harflerle adlandırırız.
	Noktaları küçük harfle isimlendiririz.

20) Yukarıdaki tabloya göre , doğru ifadelerin başına “ D ” yanlış ifadelerin başına “ Y ” harfi yazıldığında hangi sonuç elde edilir?

- A)

D
D
Y
D
- B)

D
D
D
D
- C)

D
D
D
Y

1-) Dünya'nın çevresini dolaşan ilk denizci kimdir?

- A) Galile Galileo
- B) Macellan
- C) Kristof Kolomb

2-) → Kalınlığı her yerde aynı değildir.
→ Dünya'nın tüm yüzeyini kaplar.
→ Üzerinde insan, hayvan ve bitki yaşar.

Yukarıda özellikleri verilen katman hangisidir?

- A) Yer kabuğu
- B) Manto
- C) Atmosfer

3-) Yurdumuz aşağıdaki kıtalardan hangisinin üzerinde yer alır?

- A) Avrupa ve Afrika kıtası
- B) Avrupa ve Asya kıtası
- C) Avrupa ve Avustralya kıtası

4-) Annem gece dışarıdaki gürültü yüzünden uyuyamamış.

Annem hangi duyu organını kullanmıştır?

- A) Burun
- B) Kulak
- C) Göz

5-) Dil sağlığımızı korumak için hangisini yapmamalıyız?

- A) Ağız temizliğine önem vermeliyiz.
- B) Çok sıcak yiyecek ve içeceklerden kaçınmalıyız.
- C) Çok soğuk yiyecekler yemeliyiz.



1. Kuvvet bir cismi hareket ettirebilir.
2. Şeklini değiştirebilir
3. Hareket eden cismi durdurabilir.
4. Cismin adını değiştirebilir.

6-) Yukarıdaki kuvvetle ilgili bilgilerden kaç tanesi doğrudur?

- A) 2
- B) 4
- C) 3

7-) Aşağıdakilerden hangisi itme kuvvetine örnektir?

- A) Pencereyi açma
- B) El arabasını sürme
- C) Kitabı önüne alma

8-) Aşağıdaki ifadelerden hangisi yanlıştır?

- A) Bazı maddelerin derimizle temas etmesi sakıncalıdır.
- B) Ne olduğunu bilmediğimiz maddeleri koklamamalıyız.
- C) Elimiz çok kirlenirse çamaşır suyuyla yıkayabiliriz.

9-) Aşağıdaki ifadelerden hangisi yanlıştır?

- A) Sıvı maddeler konulduğu kabın şeklini alırlar.
- B) Gaz halindeki maddelerin kendine ait bir şekli yoktur.
- C) Katı maddelerin belli bir şekli yoktur.

10-) Süt maddenin hangi halindedir?

- A) Katı
- B) Gaz
- C) Sıvı

11-) Aşağıdakilerden hangisi yapay ışık kaynağıdır?

- A) Şimşek
- B) Trafik lambası
- C) Ateş böceği

12-) "Hava kararınca evimizdeki ışıkları yakarız."

Bu durumun sebebi hangi seçenekte verilmiştir?

- A) Görme olayının gerçekleşmesi için ışık gereklidir.
- B) Görme olayı karanlıkta gerçekleşir.
- C) Görme olayı için ışık gerekli değildir.

13-) Aşağıdaki bilgilerden hangisi yanlıştır?

- A) Bazı aletlerin çıkardığı sesler insanı rahatsız edebilir.
- B) Ses üreten bir varlıktan uzaklaştığımızda sesin şiddeti artar.
- C) Ses kaynakları ikiye ayrılır.

14-) Sesin şiddetini arttırmak için aşağıdakilerden hangisi kullanılmaz?

- A) Hoparlör
- B) Davul
- C) Mikrofon

15-) Aşağıdakilerden hangisi canlıların özelliklerinden biri olamaz?

- A) Kendi kendilerine hareket edebilirler.
- B) Çoğalıp üreyemezler.
- C) Besin ve enerjiye ihtiyaçları vardır.

16-) Aşağıdakilerden hangisi canlıların ortak özelliklerinden biri değildir?

- A) Hareketsiz durma
- B) Çoğalma
- C) Enerji harcama



17-) Yukarıdaki görselde akvaryum, balık, cam, su, yapay bitki, deniz kumu ve hava motoru vardır.

Bu bilgilere göre akvaryumda kaç tane canlı varlık vardır?

- A) 3
- B) 2
- C) 1

18-) Aşağıda verilen elektrikli araçların hangisinin kullanım amacı yanlış verilmiştir?

- A) Telefon-aydınlatma
- B) Tost makinası-ısıtma
- C) Radyo – haberleşme

19-) Elektriğin tehlikelerinden korunmak için hangisini yapmak doğru olur?

- A) Islak zeminde elektrikli araçları çalıştırabiliriz.
- B) Evden çıkarken tüm elektrikli araçları kapatmalıyız.
- C) Çoklu prizlere birden fazla fiş takmalıyız.

20-) Aşağıdaki elektrikli araçların hangisi "soğutma" amacıyla kullanılır?

- A) Buzdolabı
- B) Cep telefonu
- C) Fırın

1)“Arkadaşlarımızla sorunlarımızı
çözmeliyiz.”

cümlesinde boş yere ne gelmelidir?

- A) kavga ile
- B) saygıyla
- C) tartışarak

2) “Başkalarının düşüncelerine”

cümlesinde boş yere hangisi gelemez?

- A) önem vermeliyiz.
- B) saygı duymalıyız.
- C) dikkat etmemeliyiz.

3) Aşağıdaki davranışlardan hangisi
duyarlı bir bireyden beklenmez?

- A) Karşıdan karşıya geçmek isteyen yaşlı bir amcaya yardım etmek.
- B) Televizyonun sesini duyabileceği kadar açmak.
- C) Sıradaki arkadaşının yerini kapmak.

4) Aşağıdaki ifadelerden hangisi
doğrudur?

- A) İsteklerimize öncelik vermeliyiz.
- B) İhtiyaçlarımızı ertelemeliyiz.
- C) İhtiyaçlarımızı karşıladıktan sonra isteklerimizi karşılayabiliriz.

5) Evimizdeki su, elektrik ve doğal gaz gibi kaynakları tasarruflu şekilde kullanmazsak ne olur?

- A) Aile bütçemiz açık verir.
- B) Elektrik faturası az gelir.
- C) Paramız cebimizde kalır.

6) I. Paramı hoşuma giden oyuncaklar için harcarım.

II. Paramın hepsi ile şeker ve çikolata alıyorum.

III. Paramı öncelikle ihtiyaçlarım için harcıyorum.

Paranın bilinçli harcanması ile ilgili anlatımlardan hangisi doğrudur?

- A) I
- B) II
- C) III

- 7) 1.Çöplerimizi çöp kutusuna atmalıyız.
2.İstedığımız saatte yüksek sesle müzik dinleyebiliriz.
3.Hasta ve yaşlı olan komşularımızı ziyaret etmeliyiz.

Yukarıda verilen cümlelerden hangileri komşularınız ile iyi ilişkiler kurmamızı sağlar?

- A) 2-3 B) 1-3 C) 1-2

8) Aşağıdakilerden hangisi evinizde kullandığınız teknolojik ürün ve aletlerin yararlarındandır?

- A) Az zamanda çok iş yapmamızı sağlar.
B) Kullandığımız kaynakların tükenmesine neden olur.
C) Aile bireyleri daha çok yorulur.

9) Aşağıdakilerden hangisi kişisel bakım malzemelerinden değildir?

- A) Diş fırçası
B) Tırnak makası
C) Çatal

10) **Eyüp:** Yatmadan önce lambayı kapatmam, açık bırakırım.

Özgür: Boşa akan musluk görürsem hemen kapatırım.

Zerya: Diş fırçalarken suyu özenli kullanır, boşa akıtmam.

Yukarıdaki sözleri söyleyen çocuklardan hangilerinin tasarruflu olduğunu söyleyebiliriz?

- A) Eyüp ile Özgür
B) Eyüp ile Zerya
C) Özgür ile Zerya

11) Aşağıdaki ifadelerden hangisi ortak kullanım alanlarında uyulması gereken kurallardan değildir?

- A) Okulda tuvalet ve lavaboları temiz kullanmalıyız.
B) Yiyeceklerin ambalajlarını yere atmamız.
C) Piknik alanlarında çöplerimizi bırakmamalıyız.

12)

- Daire ve kırmızı renkli trafik levhaları yasaklayıcı anlam taşır.
- Üçgen şeklindeki trafik işaretleri uyarıcı anlam taşır.
- Kare şeklindeki trafik levhaları bilgilendirici anlam taşır.

Yukarıdaki ifadelere ait kutucuklar doğru işaretlendiğinde sonuç nasıl olur?

- A) D,Y,D B) D,D,D C) Y,D,D

13) Karşılaştığımız hangi durumda hayır diyerek yakınlarımızdan yardım istemeliyiz?

- A) Yolda tanımadığımız biri, bizi evimize götürebileceğini söylediğinde
- B) Annemizin işi varken üst komşumuz Elif teyze, bizi okuldan almaya geldiğinde
- C) Okul çıkışında öğretmen bizi yanına çağırdığında

14) Parkta oynarken, topumuz yola kaçtığına aşağıdakilerden hangisini yapmamız en doğru davranış olur?

- A) Hızlıca koşup topu almamız.
- B) Yoldan geçen arabalara dikkat ederek topu almamız.
- C) Yeni bir top almamız.

15) - Hayat üçgeni

- Çanta

- Güvenilir bir yer

Yukarıda verilenler hangi doğal afet için geçerlidir?

- A) Deprem
- B) Sel
- C) Yangın

16) Aşağıdakilerden hangisi yerel yönetim birimlerinde yönetici değildir?

- A) Vali
- B) Muhtar
- C) Müdür

17) Görev ve sorumluluklarımızı yerine getirmenin ülkemize katkısı aşağıdakilerden hangisidir?

- A) Ülkemizin yardıma ihtiyacı olur.
- B) Ülkemiz her alanda gelişim gösterir.
- C) Ülkemizdeki insanlar mutsuz olur.

18) Aşağıdakilerden hangisi ortak kullanım alanlarında uyulması gereken kurallardandır?

- A) İstedığımız gibi davranabiliriz.
- B) Sadece kamu mallarına özen göstermeliyiz.
- C) Herkese ait olduğunu unutmadan, özenli kullanmalıyız.

19) I- Atatürk ileri görüşlü bir liderdir.

II- Atatürk çok çalışkandır.

III- Atatürk vatanseverdir.

Yukarıda verilenlerden hangisi ya da hangileri Atatürk'ün kişisel özelliklerindendir?

- A) Yalnız I
- B) I ve II
- C) I, II ve III

20) Çeşitli sebeplerle ülkemize göç eden insanlar vardır.

Buna göre aşağıdakilerden hangisi yanlıştır?

- A) Ülkemize göç etmiş olan arkadaşlarımız için bu durum oldukça kolaydır.
- B) Eksiklerini gidermeleri konusunda yardımcı olmalıyız
- C) Farklı ülkelerden geldiklerinden Türkçe'yi öğrenmeleri için yardım etmeliyiz.

A) Read the text and answer the questions. (Parçayı okuyalım ve soruları cevaplayalım.)

“Hello! My name is Mehmet. I’m nine years old. I’m tall and thin. I’m weak. I can run fast but I can’t lift weights. I’m very happy because I have got a lot of toys in my room. I have got a teddy bear, four red toy cars, twelve marbles, a robot and two balls. I like toys.”

1. What is his name?

.....

2. How old is he?

.....

3. Is he strong?

.....

4. Is he happy?

.....

5. How many marbles are there?

.....

6. Can he run fast?

.....



B) Test Time

1) Boş bırakılan yere hangisi getirilmelidir?


My mother’s sister is my

A) Grandmother

B) Sister

C) Aunt

2) How many playing cards are there?



A) eleven playing cards

B) ten playing cards

C) twelve playing cards

3) Aşağıdaki görseller için hangisini söyleyemez ?



A) old

B) strong

C) fast

4) I can

- A) Read a book
- B) Draw a picture
- C) Listen to music



5) Boş bırakılan yere hangi ifade getirilemez?

A: Can she cook?

B:

- A) Yes, she is
- B) No, she isn't
- C) Yes she can

6) "How do you feel?" sorusunun cevabı hangisi olamaz?

- A) I'm tall
- B) I'm tired.
- C) I'm energetic.

7) "Fat" kelimesinin zıt anlamlısı hangi seçenekte verilmiştir?

- A) slow
- B) short
- C) thin

8) How many balls are there? Sorusunun cevabı aşağıdakilerden hangisidir?



- A) Six balls
- B) Seven balls
- C) Five balls

9) "No, I can't."

Cevabını veren birine hangi soru sorulmuştur?

- A) Are you happy?
- B) Can he run fast?
- C) Can you swim?

CEVAP ANAHTARI

TÜRKÇE TESTİ

1	2	3	4	5	6	7	8	9	10	11	12	13	14	15	16	17	18	19	20
B	A	C	A	B	C	C	C	B	A	A	C	A	A	C	A	A	C	C	B

MATEMATİK TESTİ

1	2	3	4	5	6	7	8	9	10	11	12	13	14	15	16	17	18	19	20
B	C	B	C	C	C	B	C	A	B	A	C	C	C	A	C	B	B	B	C

FEN BİLİMLERİ TESTİ

1	2	3	4	5	6	7	8	9	10	11	12	13	14	15	16	17	18	19	20
B	A	B	B	C	C	B	C	C	C	B	A	B	B	B	A	C	A	B	A

HAYAT BİLGİSİ TESTİ

1	2	3	4	5	6	7	8	9	10	11	12	13	14	15	16	17	18	19	20
B	C	C	C	A	C	B	A	C	C	B	B	A	B	A	C	B	C	C	A

İNGİLİZCE TESTİ **Answer Key (Cevap Anahtarı)**

A) Read the text and answer the questions. (Parçayı okuyalım ve soruları cevaplayalım.)

1- His name is Mehmet.

2- He is nine years old.

3- No, he isn't.

4- Yes, he is.

5- There are twelve marbles.

6- Yes, he can.

B) Test Time

1	2	3	4	5	6	7	8	9
C	A	C	A	C	A	C	A	C

Çalışmada Emegi Geçen Öğretmenlerimiz:

NEVZAT YILMAZ

(SINIF ÖĞRETMENİ-FEVZİ ÇAKMAK İLKOKULU)

BİLGE YILMAZ

(SINIF ÖĞRETMENİ-MEHMETÇİK İLKOKULU)

SEDA AYDINLI

(İNGİLİZCE ÖĞRETMENİ-80.YIL İLKOKULU)

ÖZGÜR ÖNER

(SINIF ÖĞRETMENİ-FEVZİ ÇAKMAK İLKOKULU)

LOKMAN İLİK

(BİLİŞİM TEKNOLOJİLERİ ÖĞRETMENİ-MEHMET AKİF ERSOY ORTAOKULU)

Bu çalışma Siirt İl Milli Eğitim Müdürlüğü öğretmenleri tarafından hazırlanmıştır. Emeklerinden dolayı teşekkür ederiz.