

# İLKOKUL 1.SINIF

HAFTALIK EV ÖDEVİ  
18-22 Mayıs




SIİRT İL MİLLİ EĞİTİM MÜDÜRLÜĞÜ  
2020

Ders: TürkçeKonu: Okuduğunu Anlama

## 19 MAYIS



19 Mayıs günü,  
Yaşiyor kalbimizde,  
Atatürk güneş gibi,  
Her zaman içimizde.



Tembellik yasak bize,  
Parolamız ileri,  
Dünyaya örnek olsun,  
Çalışkan Türk gençleri.



## 19 Mayıs Atatürk'ü Anma Gençlik ve Spor Bayramı

Milletimizin birlik ve beraberliği için son derece önemli, bizi bir arada tutan değerlerimizi ifade eden özel günler vardır. Milletçe kutladığımız bu özel günlere milli bayramlarımız denir. Milli bayramlardan biri de 19 Mayıs Atatürk'ü Anma Gençlik ve Spor Bayramı'dır.

19 Mayıs tarihi bizim için çok şey ifade etmektedir. Atatürk 19 Mayıs 1919'da (bin dokuz yüz on dokuzda) Bandırma Vapuru ile İstanbul'dan yola çıkarak Samsun'a milli mücadeleyi başlatmak için gelmiştir. Bu önemli gün aslında Türk milletinin de kurtuluşunun başladığı gündür. Kurtuluş mücadelesinin başladığı yer olarak ta kabul edilmelidir. Türk milleti de milli mücadeleye büyük destek vermiştir. Bu sebeple her yıl 19 Mayıs günü, büyük bir coşkuyla ve gururla kutlanmakta ve Atatürk saygıyla anılmaktadır.

Ersin İNCE

1. Yukarıdaki metinde hangi milli bayramımızdan bahsedilmektedir?

2. Atatürk milli mücadeleyi başlatmak için İstanbul'dan nereye gelmiştir?

3. Atatürk milli mücadeleyi başlatmak için hangi vapurla yola çıkmıştır?

Ders: TürkçeKonu: Hece Bilgisi

Aşağıdaki karışık olarak verilen hecelerden anlamlı kelimeler oluşturalım.

-ba - a -ra

- lem - ka -lik

-yu - ta - mur

- sa - bil - gi - yar

- fon - te - le

-van -bah - çı

-büs - to - o

-türk - A -ta

-ram - bay - lık

-cak - yun - o

-mit - çi -si

-me -li -ke

Aşağıdaki tabloyu uygun şekilde dolduralım.

<u>Kelime</u>	<u>Hecelerine ayır</u>	<u>Ünlü harfler</u>	<u>Ünsüz harfler</u>	<u>Hece Sayısı</u>
Okul	o-kul	o-u	k-l	2
Sınıf				
Bisiklet				
O				
Kalem				
Mayıs				
Dört				

Ders: Türkçe

Konu: Satır Sonuna Sığmayan Kelimeler



Kelimeleri doğru yerlerden hecelerine ayırmanın önemini anlamışsınızdır umarım. Bazen yazılarımızı yazarken kelimeler satır sonuna sığmayabiliyor. **Satır sonuna sığmayan kelimeler her zaman hecelerinden kesilir.** Yoksa kelimenizi anlamsız hale getirirsiniz. Unutma **satır sonunda tek harf bırakılmaz.**

Aşağıdaki satır sonuna sığmayan kelimeleri kutunun içine örnekteki gibi ayıralım.

\_\_\_\_\_ sala-  
talık \_\_\_\_\_

\_\_\_\_\_

\_\_\_\_\_

\_\_salatalık\_\_

\_\_dinazor\_\_

\_\_arkadaşım\_\_

\_\_\_\_\_

\_\_\_\_\_

\_\_\_\_\_

\_\_okulumuza\_\_

\_\_bayramlık\_\_

\_\_bahçeye\_\_

\_\_\_\_\_

\_\_\_\_\_

\_\_\_\_\_

\_\_kelebek\_\_

\_\_saklambac\_\_

\_\_öğretmen\_\_

\_\_\_\_\_

\_\_\_\_\_

\_\_\_\_\_

\_\_gazete\_\_

\_\_harçlık\_\_

\_\_mutluluk\_\_

Ders: TürkçeKonu: Okuduğunu Anlama

## HAYAL BULUTLARI

Çağla Öğretmen, öğrencileri ile resim yapmayı çok sever. Her biri birbirinden güzel resimler yapar. Çağla Öğretmen, her sanat etkinliğinden sonra yapılan resimleri toplar sınıfın dört bir yanına asar. İlayda, en çok evlerinin bahçesindeki meyve ağaçlarını çizmeyi sever. Melek, en çok sevdiği kedisi Kömür'ü çizer. Sezgin, gökyüzünde parıl parıl parlayan yıldızları çizer. Ela, masmavi denizlerdeki balıkların resimlerini yapar. Sinem ise gökyüzündeki bulutları çizer.

Çocuklar Sinem'in çizdiği bulutları çok severler. Bir araya gelip, bulutları başka şeylere benzetirler. Onları bazen koyuna, bazen bir kalbe, bazen de dev bir ejderhaya benzetirler. Bu yüzden Çağla Öğretmen bu resimlere "hayal bulutları" der. Sinem'in hayal bulutları çocukların hayal dünyasını geliştirir. Hep birlikte farklı hayaller kurarlar.

Aşağıdaki soruları yukarıdaki metne göre cevaplayınız.

1. Çağla Öğretmen ve öğrencileri ne yapmayı severler?

2. Sınıfta kimler resim yapıyor?

3. Çağla Öğretmen, resimleri nereye asıyor?

4. Sınıftakiler bulutları nelere benzetirler?

5. Çağla Öğretmen, Sinem'in bulutlarına ne isim vermiş?



Ders: Türkçe

Konu: Zıt Anlamlı Kelimeleri

Aşağıda verilen zıt anlamlı kelimeleri bulup aynı renge boyayalım.

gündüz	yukarı	gece	aşağı	yavaş
hızlı	uzun	pahalı	ucuz	kısa
güzel	tembel	evet	hayır	çalışkan
kolay	doğru	yanlış	zor	çirkin

Aşağıda, başta verilen kelimelerin zıt anlamlılarını bulalım. Örnekteki gibi cümle içinde kullanalım.

kısa	→	uzun	→	Zürafanın boyu çok <u>uzun</u> .
kolay	→		→	
fakir	→		→	
dolu	→		→	
uzak	→		→	
gündüz	→		→	
doğru	→		→	

Harflerin belli bir sıraya göre dizilmiş şekline alfabe (abece) denir. Alfabetik sıralamada hangi kelimenin daha önce yer alacağını bulmak için önce ilk harfine bakılır. Aşağıdaki örneği inceleyelim. Örnek: "kalem – çanta – silgi – defter"

Yukarıdaki kelimeleri alfabetik sıraya koymak için önce kelimelerin ilk harfine bakarız.

"kalem – çanta – silgi – defter "Kelimelerin ilk harfini işaretleyelim. Alfabemizdeki harflerin sırasına bakarak ; k – ç – s – d harflerinin sırasını bulup boyayalım. Bu harfler alfabemizde önce ç, sonra sırasıyla d,k,s harfleri gelir. O halde, "1. sırada "çanta" 2. "defter" 3. "kalem" 4. "silgi" şeklinde sıralanır. Aşağıdaki kelimeleri alfabetik sıraya koyunuz.

1	2	3	4	5	6	7	8	9	10	11	12	13	14	15
A	B	C	Ç	D	E	F	G	Ğ	H	I	İ	J	K	L
16	17	18	19	20	21	22	23	24	25	26	27	28	29	
M	N	O	Ö	P	R	S	Ş	T	U	Ü	V	Y	Z	

Ali - Sümeyye - Ersin

okul - Eren - Berat

1. Ali - 2. Ersin - 3. Sümeyye

.....

masa - atlet - Furkan

Çöp - ağaç - Mustafa

.....

.....

armut - Nisa - çilek

bahçe - çiçek - Ravza

.....

.....

oyun - çeşme - Bünyamin

kantin - süt - Ayşe

.....

.....

top - Aksa- kale

bebek - Sarya - oyuncak

.....

.....

Ahmet - Zanyar - Sait


Sefa - Ayşe - Onur

.....

.....

Aşağıdaki resmi metne uygun boyayalım, soruları cevaplayalım.

## SAMET'İN BAŞINA GELENLER



Samet, sarı saçları olan beş yaşında bir çocuktur. Evlerinin bahçesindeki salıncağa binmeyi çok seviyordu. Gün boyu salıncakta sallanmak istiyordu. Annesi, Samet'i bahçeye tek başına gitmemesi konusunda sürekli uyarıyordu. Çünkü salıncakta tek başına sallanması çok tehlikeliydi. Samet annesinin sözünü dinliyordu. Samet'i salıncağa babası götürüyordu. O gün babası geç kalmıştı. Samet çok sabırsızdı. Bir an önce babasının, onu salıncığın yanına götürmesini istiyordu. Samet daha fazla dayanamayıp kırmızı tişörtünü giydi ve dışarı çıktı. Kahverengi gövdeli, yeşil yapraklı ağaçtaki salıncağa bindi. Sallanırken sarı ve mavi renkleri olan kelebeğe daldı. Dengesini kaybetti ve turuncu çitlerin dibine düştü. Ağlamaya başladı. Sesi duyan annesi koşarak Samet'in yanına geldi. Hastaneye götürdü ve Samet'e pansuman yaptırdı. Daha sonra eve döndüler. Samet çok pişman olmuştu. Bu ona büyük bir ders oldu. Bir daha annesinin sözünden hiç çıkmadı.

1) Samet dışarı çıkmak için hangi renk tişört giydi?

---

---

---

2) Samet'i her zaman salıncağa götüren kimdi?

---

---

---



Ders: Türkçe

Konu: Yazım yanlışları

Cümlelerdeki yazım yanlışlarını ve noktalama işaretlerini düzeltelim. Doğrusunu altlarına yazalım. Bazı kelimeler yanlış yazılmıştır. Dikkat!

alının kedisi parkta geziyor.

bakkaldan süt şeker çokolota aldık.

annem mutfakta kek yaptı

irem ile beyza çok iyi arkadaşdır.

adanaya gitmek için tirene bindik.

berat masada gaste okuyordu.

ersin soruya yanlış cevap verdi.

dua etmek için elini allaha açtı.

**Ders: Türkçe****Konu: Noktalama işaretleri**

Aşağıdaki cümlelerin noktalama işaretleri unutulmuş. Sen uygun noktalama işaretlerini tamamla mısın?

Nokta (.) Soru İşareti (?) Virgül (,) Ünlem İşareti (!)

Ağaçta güvercin()kumru() serçe ve üzümçük kuşu var()

Öğretmenim Nilay()a ödül verdi mi()

Murat evde uçurtma yaptı mı()

Pazardan elma() armut() kivi ve ananas aldım()

Baban Adana(dan sana ne getirdi(

Off() canım çok sıkıldı()

Marketten çikolata() şeker ve sakız aldım()

Havuzda kaç tane balık var()

Ne zaman tatile gideceğiz()

Sümeyye sarı() mavi() kırmızı ve turuncu renkleri çok seviyor()

Ahh elim yandı()

Ders: Türkçe

Konu: Çağrışım

Aşağıdaki kelimelerin size çağrıştırdığı 2 sözcük yazınız.

Bayrak

1 .....

2 .....

Bayram

1 .....

2 .....

Çalışmak

1 .....

2 .....

Okul

1 .....

2 .....

19 Mayıs

1 .....

2 .....

Anne

1 .....

2 .....

Oruç

1 .....



2 .....

Duygu

1 .....

2 .....

İki resim arasındaki 8 farkı bulup kırmızı kalemle işaretleyiniz. Resmi istediğiniz renge boyayınız



## UTKU MERAK EDİYOR

Utku gezegenleri ve yıldızları çok merak ediyordu. Utku ilk önce gezegenleri anlatan bir dergi aldı. Dergiye her gün bakıp yeni bilgiler ediniyordu. Güneş'in bir yıldız olduğunu öğrenmişti. Güneş sistemine ait en büyük gezegenin Jüpiter olduğunu öğrenince çok şaşırılmıştı. Güneş sistemindeki gezegenlerde sadece Dünya'da hayat vardı. Utku her gece öğrendiği bu bilgileri düşünerek mutlu oluyordu. Utku öğrendiklerini küçük kardeşi ile paylaştı. Utku'nun kardeşi de yeni bilgiler edinmek için çok hevesleniyordu. Çünkü merak duygusu abisinin desteği ile daha da gelişmişti. Babası, Utku'ya yeni bir dergi almıştı. Bu dergi hayvanlar ile ilgiliydi. Utku hemen dergiye inceledi. Utku dinlenirken küçük kardeşi de yeni dergiye merakla inceledi. Utku daha sonra kardeşine dergideki bazı yazıları okudu.

Serkan Taburoğlu

Yukarıdaki parçaya göre aşağıdaki soruları yanıtlayınız.

1.) Babası, Utku'ya hangi konu ile ilgili dergi aldı?

.....

2.) Utku öğrendiklerini kime anlatıyordu?

.....

.....

3.) Metnin yazarı kimdir?

.....

4.) Güneş sistemi hakkında ne düşünüyorsunuz?

.....

5.) Güneş sisteminin en büyük gezegenin adı nedir?

.....

.....

6.) okuduğunuz metin kaç cümleden oluşuyor?

.....

## TÜRKÇE DEĞERLENDİRME SORULARI

- 1-) Verilen şehirlerden hangisi daha fazla sese ( harfe ) sahiptir?  
a) Malatya                      b) Çanakkale                      c) Diyarbakır
- 2-) " Bilgisayarlarımız " sözcüğünün 6. hecesi hangisidir?  
a) -gi                      b) -rı                      c) -mız
- 3-) "-baba - çınar - araba - yol"  
Yukarıdaki sözcükler, sözcük sırasına göre dizildiğinde ilk sözcük hangisi olur?  
a) çınar                      b) araba                      c) baba
- 4-) "Kolay soruları herkes bilir" cümlesindeki "kolay" kelimesinin zıt anlamlısı hangisidir?  
a) basit                      b) iyi                      c) zor
- 5-) "Sinemaya Ayşen ( ) Filiz ve Nur birlikte gidecekler ( )" Cümlesinde ( ) yerine sıra ile hangi noktalama işareti konulmalıdır?  
a) virgül- ünlem                      b) Ünlem-nokta                      c) virgül -nokta
- 6-) Kesme işareti hangi seçenekte yanlış kullanılmıştır?  
a) Manisa' da                      b) Siirt'e                      c) Araba'ya
- 7-) "Akşam ders çalışacak mısın()" Yandaki cümlenin sonuna hangi işaret gelir?  
a) Soru işareti                      b) Ünlem                      c) Nokta
- 8-) Aşağıdakilerden hangisi yanlıştır?  
a) Alfabemizde 27 tane harf vardır.  
b) Özel isimlere gelen ekler kesme işaretiyle ayrılır.  
c) Özel isimlerin ilk harfi büyük yazılır.
- 9-) "Girer – Güneş – eve – girmeyen – doktor" sözcüklerinden kurallı cümle yapıldığında sondan ikinci sözcük hangisidir?  
a) Güneş                      b) eve                      c) doktor
- 10-) "Kuş eski kafesten kaçtı." cümlesinde hangi sorunun cevabı yoktur?  
a) Ne?                      b) Nereden?                      c) Ne zaman?



Ders: Matematik

Konu: Takvim

**BİLGİ:** Takvim, ayı, haftayı ve günü takip etmek için kullandığımız araçtır. Çeşitli şekillerde hazırlanabilir. Günlük, aylık, üç aylık yıllık duvar takvimleri, masa takvimleri, dijital takvimler kullanılabilir. Yıllık takvim üzerinde Bir yılın bütün ayları, haftaları ve günleri görülür.

**Bir yıl 12 aydır:**

Ocak, Şubat, Mart, Nisan, Mayıs, Haziran, Temmuz, Ağustos, Eylül, Ekim, Kasım, Aralık yılın aylarıdır. Yılın ilk ayı Ocak, Son ayı Aralık ayıdır.

**Bir hafta 7 gündür.**

Pazartesi, Salı, Çarşamba, Perşembe, Cuma, Cumartesi ve Pazar haftanın günleridir. Hafta sonu günleri cumartesi ve pazardır. Takvime bakarak içinde bulunduğumuz günü, ayı ve yılı kolaylıkla okuyabiliriz.

## MAYIS 2020

PAZARTESİ	SALI	ÇARŞAMBA	PERŞEMBE	CUMA	CUMARTESİ	PAZAR
				1	2	3
4	5	6	7	8	9	10
11	12	13	14	15	16	17
18	19	20	21	22	23	24
25	26	27	28	29	30	31

Aşağıda verilen soruları, etkinliği yaptığınız güne göre yanıtlayınız.

Mayıs ayının ilk günü hangisidir?	
Mayıs ayının son günü hangisidir?	
Mayıs ayı kaç gündür?	
5 Mayıs hangi gündür?	
19 Mayıs hangi gündür?	
19 Mayıs'ın önemi nedir?	
Cumartesi günleri hangileridir?	
Pazar günleri hangileridir?	
Bugün ayın kaçı ve hangi gündeysiz?	
Dün ayın kaçı ve hangi gündü?	
Yarın ayın kaçı ve hangi gün olacak?	

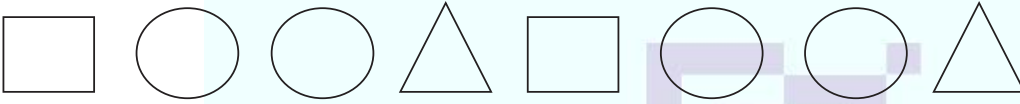
**BİLGİ:** Belirli bir kurala göre tekrar eden şekil yada sayı dizisine "ÖRÜNTÜ" denir. Aşağıdaki geometrik şekillerden oluşan örüntülerin kuralını altlarına yazalım. Örüntülerde eksik bırakılan geometrik cisimleri çizip örüntüleri tamamlayalım.



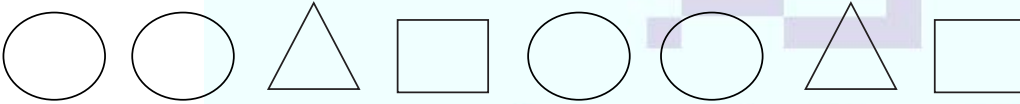
Kural:.....



Kural:.....



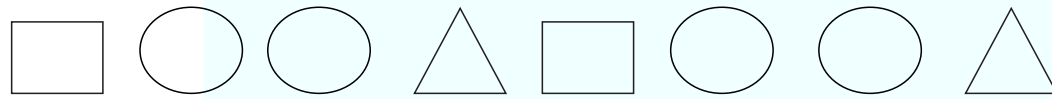
Kural:.....



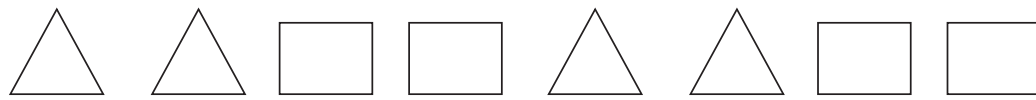
Kural:.....



Kural:.....



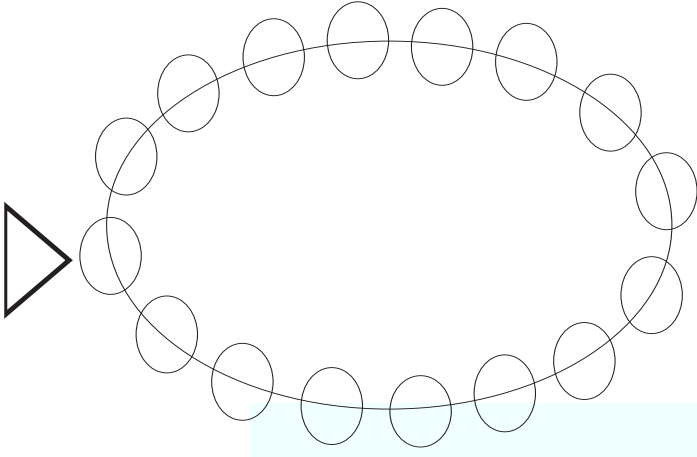
Kural:.....



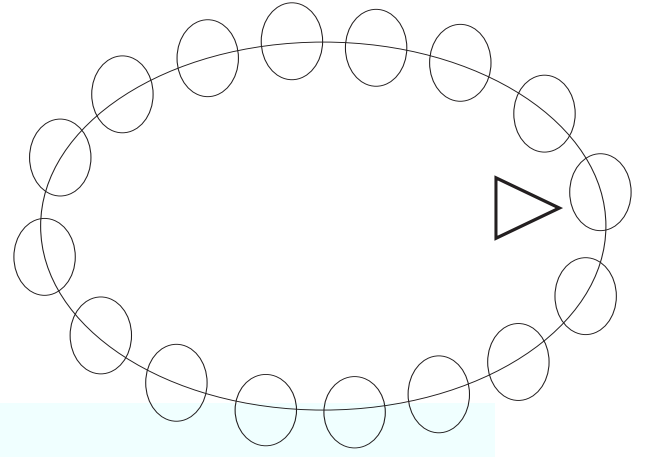
Kural:.....

Boyamayı seven öğrencilerim geometrik şekilleri belirlediği kurala uygun renklendirebilir.

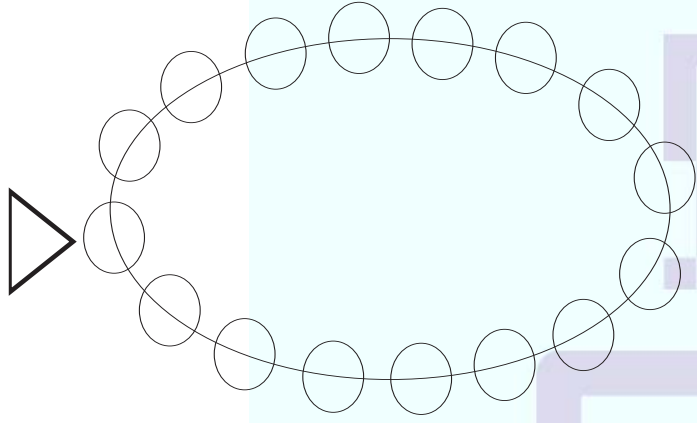
Aşağıdaki kolyeleri verilen örüntü kuralına uygun, ok işaretiyle gösterilen boncuktan başlayarak boyayınız.



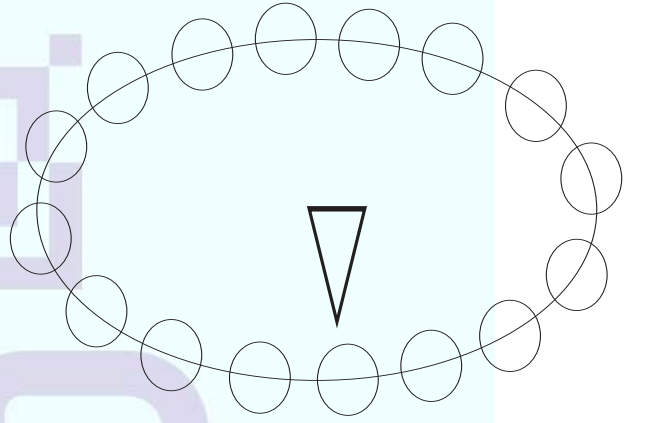
Kural: 1 mavi 2 kırmızı



Kural: 2 kırmızı 2 sarı

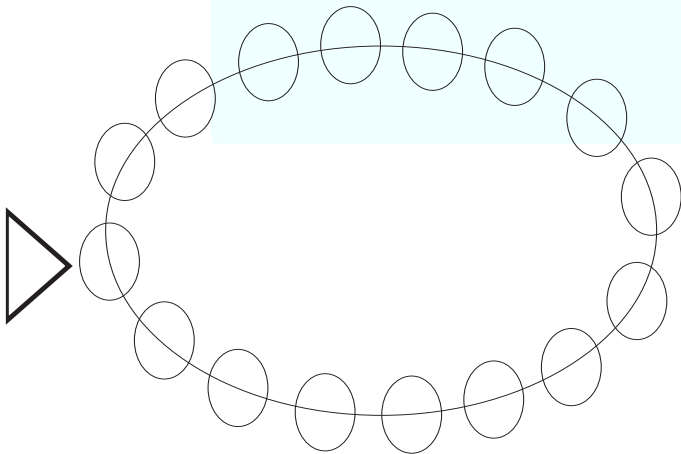


Kural: 1 mavi 2 kırmızı 1 siyah

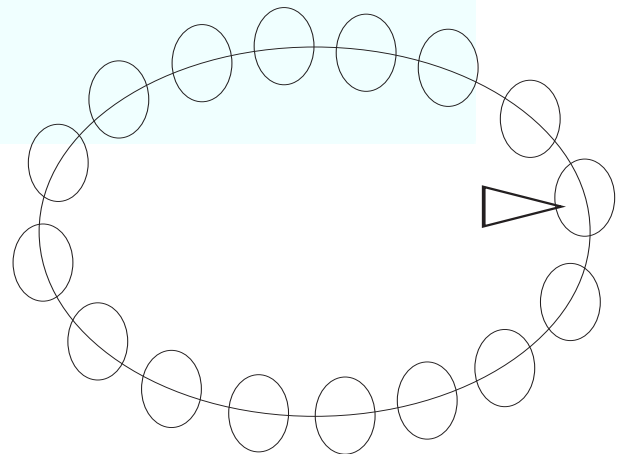


Kural: 2 kahverengi 1 kırmızı 1 sarı

Aşağıdaki kolyeler için bir örüntü kuralı belirleyiniz. Sonra kurala göre boyayınız.



Kural:



Kural:

- Tablodaki karışık olarak verilen toplama ve çıkarma işlemlerini yapınız. İşlemlerin sonuçlarına göre kutucukların içini uygun renklerle boyayınız.

20 = mavi

12 = siyah

10 = beyaz


15 = turuncu

4 = yeşil

$10 + 10$	$15 + 5$	$12 + 8$	$18 - 6$	$0 + 12$	$15 - 3$	$14 - 2$	$12 + 8$	$15 + 5$
$16 + 4$	$3 + 17$	$6 + 14$	$10 - 6$	$11 - 7$	$1 + 3$	$0 + 4$	$20 - 0$	$2 + 18$
$5 + 15$	$10 + 10$	$19 - 7$	$2 + 10$	$13 - 1$	$12 + 0$	$7 + 5$	$8 + 4$	$7 + 13$
$19 + 1$	$20 + 0$	$3 + 17$	$1 + 9$	$10 - 0$	$18 - 8$	$2 + 8$	$3 + 17$	$20 - 0$
$12 + 8$	$15 + 5$	$16 - 6$	$18 - 6$	$20 - 10$	$9 + 1$	$2 + 10$	$17 - 7$	$1 + 19$
$3 + 17$	$5 + 10$	$2 + 13$	$19 - 4$	$14 + 1$	$5 + 5$	$7 + 3$	$8 + 2$	$10 + 10$
$7 + 13$	$5 + 15$	$20 - 10$	$3 + 9$	$16 - 6$	$1 + 9$	$5 + 7$	$6 + 4$	$15 + 5$
$15 + 5$	$12 + 8$	$19 - 9$	$5 + 5$	$10 + 2$	$4 + 8$	$4 + 6$	$3 + 7$	$3 + 17$
$10 + 10$	$4 + 16$	$7 + 13$	$7 + 3$	$2 + 8$	$7 + 3$	$5 + 5$	$10 + 10$	$6 + 14$
$2 + 18$	$3 + 17$	$17 - 7$	$8 + 2$	$5 + 5$	$6 + 4$	$13 - 3$	$14 - 4$	$0 + 20$

Bilgi: Araştırılan bir konu ile ilgili toplanan bilgiye veri denir.

Aşağıda bazı varlıkların görselleri verilmiştir. Varlıkların sayısını yandaki tabloya yazınız.



Varlıklar	Sayıları

Aşağıda meyve çeşidini ve sayısını gösteren tablo verilmiştir. Tabloya göre soruları cevaplayınız.

\* Tabakta kaç tane elma var ?

.....

\* Tabakta en az hangi meyve var ?

.....

\* Eriklerle çileklerin toplamı kaç tanedir ?

.....

\* Tabakta toplam kaç tane meyve vardır ?

.....

Meyveler	Sayıları
Elma	
Erik	
Armut	
Çilek	

Nisan ayına ait hava olayları tablosu verilmiştir. Tabloya göre soruları cevaplayınız .

\* Hava kaç gün güneşli geçmiştir?

.....

\* Hava kaç gün yağmurlu geçmiştir?

.....

\* Bulutlu geçen günlerin sayısı kaçtır?

.....

\* Gök gürültülü geçen günlerin sayısı kaçtır?

.....

Nisan Ayı Hava Olayları		Gün Sayısı
	Güneşli	3
	Parçalı bulutlu	5
	Çok bulutlu	4
	Gök gürültülü	7
	Yağmurlu	11



Fiyatları verilen nesnelere alakalı soruları çözüünüz.



20 lirası olan Elif top alırsa geriye kaç lirası kalır?

**Çözüm**

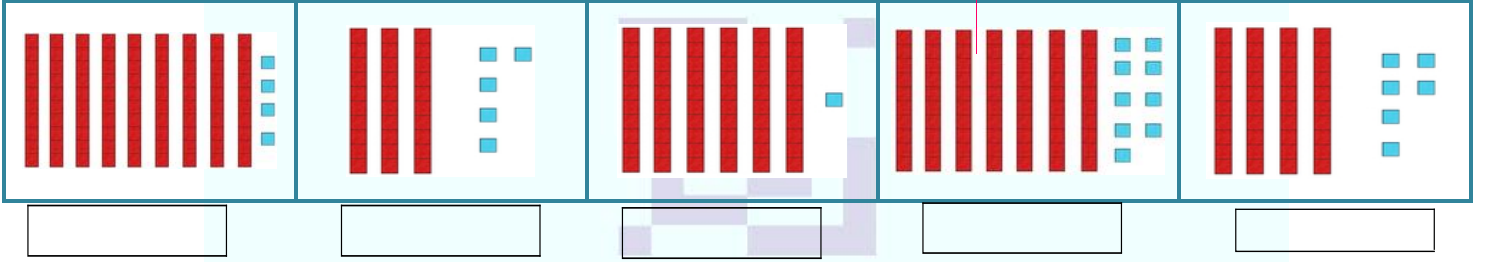
Dondurma, balon ve kalem alan Berat'ın satıcıya kaç lira ödemesi gerekir?

**Çözüm**

Ayşe'nin 8 lirası var. Top almak isteyen Ayşe'nin kaç liraya daha ihtiyacı var?

**Çözüm**

Onluk ve birlik blokların ifade ettiği sayıları altlarına yazalım.



Aşağıdaki noktalı yerleri uygun şekilde tamamlayınız

8 Onluk 5 birlikten oluşan sayı .....

1 Onluk 5 birlikten oluşan sayı.....

2 Onluk 7 birlikten oluşan sayı .....

3 Onluk 0 birlikten oluşan sayı.....

25= ..... Onluk .....birlik

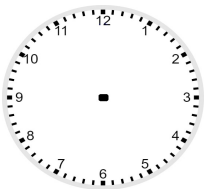
47= ..... Onluk .....birlik

53= ..... Onluk .....birlik

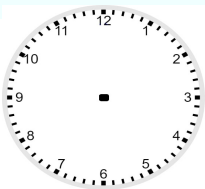
71= ..... Onluk .....birlik

Kutularda belirtilen saatleri çiziniz.

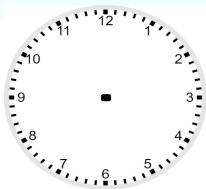
Saatleri okuyup alttaki kutulara yazınız.




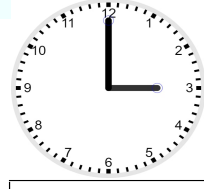
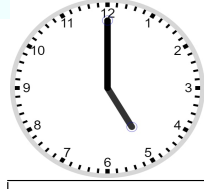
12:00



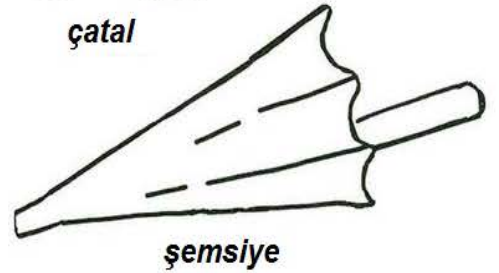
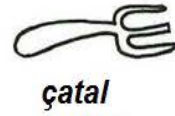
06:30



02:30



# Kayıp eşyaları resimde bul ve boy



## PROBLEMLER

Ekin'in 20 cevizi vardı. 6 tanesini annesine verdi.  
Ekin'in kaç cevizi kaldı?


Bahçemizde 13 tane gül var. 4 tanesini  
anneme vermek için topladım. 3 tanesi de  
kurudu. Bahçemizde kaç gül kaldı?


On bir sayısının sekiz eksiği kaçtır?


Otobüsteki 14 yolcudan 3 tanesi inerse otobüste  
kaç yolcu kalır?


Miraç 15 cevizden 4 tanesini yedi. Kaç cevizi kaldı?


Muhammed'in 7 elması vardı. Ağaçtan 8 elma  
daha toplarsa kaç elması olur?


Bir toplama işleminde toplanan sayılardan biri 8,  
toplam 17 olduğuna göre diğer toplanan kaçtır?


8 Birlik 1 onluktan oluşan sayının 6 eksiği kaçtır?


Sefa'nın 11 lirası vardı. Teyzesi 7 lira daha verdi.  
Kaç lirası oldu?




## MATEMATİK DEĞERLENDİRME SORULARI

1. Aşağıdaki sayıların okunuşlarını noktalı yere yazınız.

36

47

69

12 ? 16 18 ?

2. Yukarıdaki ? yerine sırasıyla hangi sayılar yazılmalıdır?

- A) 13 - 19 B) 14 - 20 C) 15 - 20

3. İki onluk + sekiz birlik

Okunuşu verilen sayı aşağıdakilerden hangisidir?

- A) 26 B) 28 C) 82

1 onluk + 4 birlik

+ 0 onluk + 3 birlik

4. Yukarıdaki toplama işleminin sonucu kaçtır?

- A) 16 B) 17 C) 18

5. Murat 8 yaşındadır. Abisi Murat'tan 3 yaş büyüktür. Murat ile abisinin yaşları toplamı kaç eder?

- A) 11 B) 14 C) 19

$$\square + \square + 8 = 20$$

6. Yukarıda toplama işleminde boş bırakılan  $\square$  yerlere hangi sayılar gelebilir?

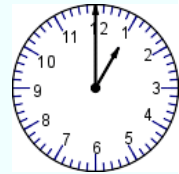
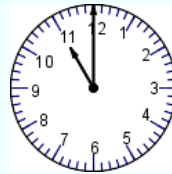
- A) 6 ve 8 B) 7 ve 5 C) 8 ve 3

B) Murat alışveriş yapmak için saat 11.00 dışarı çıktı. İki saat sonra alışverişini tamamlayan Murat eve döndü.

Aşağıdakilerden seçeneklerden hangisi

Murat'ın dışarı çıkış ve eve dönüş saatlerini gösterir?

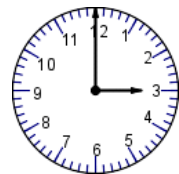
A)



B)



C)





Üzüm kg 3₺

Çilek kg 4₺

Armut 5₺

Yukarıda meyve fiyatları verilmiştir.

8. ve 9. soruyu yukarıdaki tabloya göre yapınız.

2 kg armut fiyatı 2 kg üzüm fiyatından kaç ₺ fazladır?

- A) 2₺ B) 3₺ C) 4₺

Soru 9



Murat'ın cebinde 10 TL parası var. Murat manavdan 1 kg üzüm, 1 kg çilek, 1 kg armut almak istiyor. Ne kadar daha paraya ihtiyacı var?

- A) 1₺ B) 2₺ C) 3₺



9. Yukarıdaki yarım elmalardan kaç tane bütün elma olur?

- A) 3 B) 4 C) 5

10. "Murat Perşembe günü telefonla babasıyla konuşurken babasının iki gün sonra eve geleceğini öğrendi."

Buna göre Murat'ın babası hangi gün eve gelecektir?

- A) salı B) cuma C) cumartesi

11. .....

Yukarıdaki noktalı yere örüntü kuralına göre hangi meyve gelmelidir?

- A) B) C)

12. Aşağıdaki varlıklardan hangisinin köşesi yoktur?


- A) B)



C)



13.



Su kovası aşağıdakilerden hangisi ile daha kısa sürede dolar?

- A) B) C)





### Sudokuyu doğru çözmek için;

- Her sütunda ( dikine alt alta dizili kareler) 1'den 4'e kadar olan rakamlardan birer kez kullanılmalı.
- Her satırda ( yan yana gelen kareler) 1'den 4'e kadar olan rakamlardan birer kez kullanılmalı.
- Her koyu çizgi ile ayrılmış bölümde 1'den 4'e kadar olan rakamlar bulunmalı.
- Çözmenin kolay olması için; bir sayının eksik olduğu sütun, satır ya da bölümden başlanmalı
- Bu çalışmada sağ dikey sütün ile başlanabilir.
- Onu yazarak diğer eksik sayıları bulabilirsiniz.

### SUDOKU (KOLAY SEVİYE)

Her satır ve sütunda 1,2,3,4 rakamlarını kullanarak boş kutuları doldurun.

Sudoku 1

3	1		4
4	2	3	1
	3	4	2

Sudoku 2

		3	
1		4	2
	1		4
2	4	1	

### SUDOKU (2. SEVİYE)

Her satır ve sütunda 1,2,3,4,5 rakamlarını kullanarak boş kutuları doldurun.

1	4		2	5
3		5		4
2			3	
		1	5	2
5	1	2		3

3	4			
				4
5			2	
		2		

Ders: Hayat Bilgisi

Konu: Farklı Kültürler



Merhaba. Bizim adımız Rıda, Comana ve Muhammed. Ülkemizde savaş çıktığı için Suriye'den Türkiye'ye göç ettik. Sizinle bazı ortak özelliklerimizin olduğu gibi sizinle ortak olmayan özelliklerimiz de var. Sizinle ortak olmayan özelliğimizin bulunduğu kutucuğu boyar mısınız?

ana dilimiz

saç rengimiz

yaşımız

Aşağıdaki soruları cevaplayalım

İnsanlar hangi sebeplerden dolayı ülkelerinden göç ederler?

---

---

---

---

Farklı ülkelerden, ülkemize göç eden insanlara nasıl davranmalıyız?

---

---

---

---

Doğru ifadelerin başına "D", yanlış ifadelerin başına "Y" yazalım.

- Ülkemize gelen insanlara yardımcı olmalıyız.
- Farklı kültürdeki insanlara hoşgörülü yaklaşmalıyız.
- Ülkemize göç eden insanlarla benzer özelliğimiz yoktur.
- Başka ülkelerden gelen insanlara evimizi kiraya verebiliriz.
- Başka ülkelerden gelen çocukları okulumuza almamalıyız.

Aşağıdaki boşlukları verilen kelimelerle uygun şekilde doldurunuz.

Türkiye Cumhuriyeti'dir		Atatürk'ü Anma Gençli Ve Spor Bayramı'dır		
valiler	dini	ay - yıldızlı	İstiklal Marşı'dır	Cumhuriyet Bayramı'dır
Ulusal Egemenlik Ve Çocuk Bayramı'dır		Ankara'dır	kaymakamlar	
Zafer Bayramı'dır		Demokrasi ve Millî Birlik Günü'dür		

İlleri ..... yönetir.

İlçeleri ..... yönetir.

Ülkemizin adı .....

Ülkemizin başkenti .....

Ülkemizin milli marşı .....

Ülkemizin bayrağı beyaz ..... ve ..... al bayraktır.

23 Nisan .....

19 Mayıs .....

15 Temmuz .....

30 Ağustos .....

29 Ekim .....

Ramazan Bayramı ve Kurban Bayramı ..... bayramlardır.

Acil Telefon Numaraları			
Yangın: - - -	Ambulans: - - -	Polis: - - -	
Orman Yangını: - - -	Jandarma: - - -		

## DANS EDEN MISIRLAR DENEYİ

### Malzemeler

- 1 şişe maden suyu
- 1 adet cam kavanoz
- 2 yemek kaşığı mısır tanesi



### Yapılışı

Kavanozumuzun içine maden suyumuzu döküyoruz.

Üzerine mısır tanelerini ekliyoruz. Sonra mısırların hareketlerini gözlemliyoruz.

Deneyimiz bu kadar basit ve eğlenceli. 😊



Neler gözlemledik? Kısaca yazınız.

.....

.....

.....

.....

### CEVAPLAR

TÜRKÇE: 1-C 2-B 3-B 4-C 5-C 6-C 7-A 8-A 9-C 10-C

MATEMATİK: 2-B 3-B 4-C 5-C 6-B 7-A 8-C 9-B 10-C 11-B 12-A 13-A

HAYAT BİLGİSİ: 1-D 2-D 3-Y 4-D 5-Y 6-D

18-23 Mayıs haftalık çalışma daha önce öğrendiklerini tekrar ve EBA tv konularına göre hazırlanmıştır.

**MATEMATİK-1 (Tekrar)**

Geometriye Giriş-  
Geometrik  
Örüntüler

EBA İzle

**MATEMATİK-1 (Tekrar)**

Geometriye Giriş-  
Tema  
Değerlendirmesi

EBA İzle

**MATEMATİK-1 (Tekrar)**

Uzunluk ve Sıvı  
Ölçme-Veri  
Toplama ve  
Değerlendirme

**TÜRKÇE-1 (Tekrar)**

Bilim ve  
Teknoloji-Kalın  
Camlı, Mavi  
Saplı (Etkinlik)

**HAYAT BİLGİSİ-1 (Tekrar)**

Ülkemizde  
Hayat- Tema  
Değerlendirmesi

**HAZIRLAYAN:** Ersin İNCE  
Şht. Org. Eşref Bitlis İlkokulu

**DÜZENLEYEN:** Fırat NARİN

Bu çalışma Siirt İl Milli Eğitim Müdürlüğü Öğretmenleri tarafından hazırlanmıştır. Emeklerinden dolayı teşekkür ederiz.