

İLKOKUL 3.SINIF

HAFTALIK EV ÖDEVİ
18-22 Mayıs



SIİRT İL MİLLİ EĞİTİM MÜDÜRLÜĞÜ
2020

Ne güzeldi okul yılları. Arkadaş ararsan hemen yanı başındaydı. Bilgi her zaman senleydi. Kitaplar başucundaydı. Ya oyunlar? Okul bahçesinde oynanan o oyunları kim unutabilir ki?

1. Yukarıdaki ifadeleri kullanan kişi nasıl bir duygu hali içerisindeydi?

- A) Sevinç ve heyecan
- B) Özlem
- C) Pişmanlık

2. “Gemidekiler bir aydan beri ilk defa **karaya** çıktılar.”

“**Kara** üzümün faydalarını saymakla bitiremedi.”

Cümlelerinde altı çizili sözcüklerin arasında nasıl bir anlam ilişkisi vardır?

- A) eş seslilik
- B) zıt anlamlılık
- C) eş anlamlılık

3. “İşini **temiz** yaptığı için herkes Hüseyin Usta’ya gidiyordu.” cümlesindeki “**temiz**” kelimesi hangi anlamda kullanılmıştır?

- A) Kirli olmayan
- B) Yıpranmamış, sağlam
- C) Özenle yapılmış

4. Sabaha kadar-----yağdı.

Okul çantam ağzına kadar-----.

Aşağıdaki sözcüklerden hangisini yukarıdaki her iki cümleye de yazabiliriz?

- A) Kar
- B) Yağmur
- C) Dolu

“ Bir konuyu ifade ederken, konuşma biçimimize ve ses tonumuza çok dikkat etmeliyiz. Kaba ve kırıcı olmamaya özen göstermeliyiz. Aksi halde haklı olduğumuz bir konuda haksız

5. Yukarıdaki açıklamaya uygun olan atasözü, hangi seçenekte verilmiştir?

- A) Taşıma su ile değirmen dönmez.
- B) Dibi görünmeyen kaptan su içme.
- C) Söz var iş bitirir, söz var baş yitirir.

6. Aşağıdaki cümlelerin hangisinde abartı yapılmamıştır?

- A) Bu sözleri atalarımız önceden söylemiş.
B) Haberi duyunca gözleri yuvasından çıkacak gibi oldu.
C) Onunla aramızda dağlar kadar fark var.

7. ak siyah
cevap soru
kara beyaz
yanıt

Yukarıdaki sözcükler kendi aralarında eş anlamlılarıyla eşleştirildiğinde hangisi açıkta kalır?

- A) Kara
B) Soru
C) Yanıt

8. 1. alıp
2. çekmeceye
3. gittim
4. koydum
5. mektubu
6. odama
7. ve

- A) 5 - 1 - 6 - 3 - 7 - 2 - 4
B) 7 - 1 - 6 - 4 - 2 - 5 - 3
C) 2 - 6 - 1 - 5 - 3 - 7 - 4

9. Çağdaş uygarlık düzeyinin üstüne çıkabilmek, ancak bilgi ile olur. Yaşam boyu gerekli olan bilgi ve becerilerin temeli ilköğretimde atılır. İlköğretim Haftası, okuma yazma öğrenmenin kişiye ve topluma sağladığı yararların anlatıldığı bir haftadır.


Bu parçada aşağıdaki sorulardan hangisinin cevabı yoktur?


- A) Çağdaş uygarlık düzeyine nasıl ulaşılır?
B) İlköğretime kaç yaşında başlanır?
C) Bilgi ve becerilerin temeli nerede atılır?




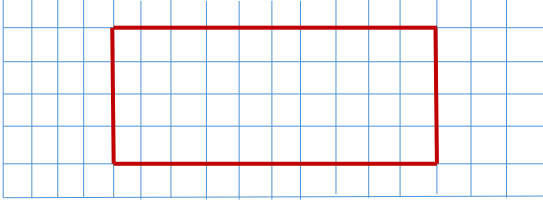
Hikâye edici bir metin yazmanızı istiyorum. Bu metinde olağanüstü bir olay anlatacaksınız.

10. Öğretmenin açıklamasına uygun metni hangi kahramanımız yazmaktadır?

A  Ben bir masal yazıyorum.

B  Ben bir hikâye yazıyorum.

C  Ben bir anımı yazıyorum.



11. Yukarıdaki dikdörtgen hangi yönergeye göre çizilmiştir?

- A) Uzun kenarı 7 birim, kısa kenarı 5 birim olan bir dikdörtgen çiziniz.
- B) Uzun kenarı 10 birim, kısa kenarı 4 birim olan bir dikdörtgen çiziniz.
- C) Uzun kenarı 9 birim, kısa kenarı 5 birim olan bir dikdörtgen çiziniz.

🌀 medya → iletişim araçları

◇ defans → savunma

● online → çevirim dışı

12. Hangi sembolle gösterilen kelimenin anlamı yanlış yazılmıştır?

- A) 🌀 B) ◇ C) ●

13. Aşağıdaki cümlelerin hangisinde kesme işareti kullanılması gerekmez?

- A) Fatmalar buradan taşınacaklar.
B) Yasinin kardeşi çok yaramaz bir çocuktur.
C) Siirtte oturan halamları ziyaret ettik.

BAYRAK TÜRKÜSÜ

Al bayrağı göklerde tutan ellerimizdir,
Her duygudan üstündür onun sevgisi bizde,
Bayrak ki sönmeyecek tanyerimizdir.
Bir sönmez ateştir o, yanar benliğimizde.
Yıllarca savaştık hep onun verdiği hızla
Sevdik ve yaşattık onu biz varlığımızla.

(14 ve 15. soruları şiire göre cevaplandırılm.)

14. Bayrağı, varlığı ile seven ve yaşatanlar aşağıdakilerden hangisidir?

- A) Şairler
B) Çocuklar
C) Türk Milleti

15. Bizde her duygudan üstün olan sevgi, aşağıdakilerden hangisidir?

- A) Bayrak sevgisi
B) Tabiat sevgisi
C) İnsan sevgisi

16. Aşağıdaki tümcelerin hangisinde topluluk ismi yoktur?

- A) Arkadaşımla birlikte tatile gideceğim.
B) Ordumuz dün büyük bir zafer kazandı.
C) Bu sınıf başarılarıyla adından söz ettiriyor.

17. Aşağıdaki altı çizili sözcüklerden hangisinin aldığı ek kelimenin anlamını değiştirmiştir?

- A) Babası, oğlunu törende izleyince gözleri doldu.
B) Doktor, yakını göremediği için gözlük almasını önerdi.
C) Bu sözler onu çok derinden etkiledi.

18. Annesi sordu ()
() Niçin kitap okumuyorsun ()
() Canım isteniyor ()

- A) (:) (-) (!) (:) (.)
B) (.) (-) (?) (-) (?)
C) (:) (-) (?) (-) (.)

“(1) Aile, toplumun en küçük birimidir. (2) Anne, baba ve çocuklardan oluşur. (3) Babam bana bisiklet aldı. (4) Bazen ailede dede ve büyükanne de bulunabilir. (5) Biz bu tür ailelere geniş aile deriz.”

19. Yukarıdaki paragrafta numaralandırılmış cümlelerden hangisi konunun akışını bozmaktadır?

- A) 2 B) 3 C) 4

20.

1. Seyis geldiğinde gözlerine inanamadı.
2. Seyis, atı serbest bıraktı.
3. Çünkü etrafta hiç ot kalmamıştı.
4. İki adımda bir durup otları yedi.
5. Dört bir yanın taze otlarla dolu olduğunu gördü.
6. Başiboş kaldığını fark eden at, etrafına bakınmaya başladı.

Numaralandırılmış cümlelerle anlamlı bir paragraf oluşturmak için sıralama nasıl olmalıdır?

- A) 3 - 1 - 2 - 5 - 4 - 6
B) 4 - 3 - 1 - 2 - 5 - 6
C) 2 - 6 - 5 - 4 - 1 - 3

1.

	Dört çeyrek ekmek bir bütün ekmek eder.
	İki çeyrek ekmek yarım ekmek eder.
	İki bütün ekmek dört çeyrek ekmekten oluşur.

Yukarıdaki tabloya göre , doğru ifadelerin başına " D " yanlış ifadelerin başına " Y " harfi yazıldığında hangi sonuç elde edilir?

- A)

D
D
Y


 B)


D
D
D


 C)

D
Y
Y

2. Hangi öğrencinin yediği pizza çeyreği ifade etmektedir?

- A) 

Tabaktaki 6 dilim pizzanın 3 dilimini yedim.
--
- B) 

Tabaktaki 4 dilim pizzanın 1 dilimini yedim.
--
- C) 

Tabaktaki 3 dilim pizzanın üçünü de yedim.
--

3.



Yukardaki saatten sekiz saat on beş dakika sonra saat kaç gösterir?

A)



B)



C)



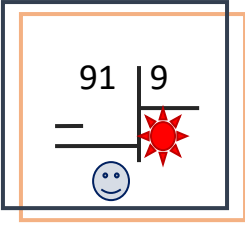
4.

$$\begin{array}{r|l} \square & 9 \\ - & 17 \\ \hline & 6 \end{array}$$

Yukarıdaki bölme işleminde bölünen kaçtır?

- A) 153 B) 159 C) 161

5.



Yukarıdaki bölme işlemine göre

“ + ” işleminin sonucu kaçtır?

- A) 9 B) 12 C) 11

6.




$$37 \times 10 = 307$$

$$51 \times 10 = 501$$

$$20 \times 10 = 200$$

$$9 \times 100 = 900$$

Yukarıdaki çarpma işlemlerinden kaç tanesinin sonucu doğru yazılmıştır?

- A)  B)  C) 

7. Aşağıdaki kalemlerden hangisi **doğru** parçasına örnek verilebilir?

- A) 
- B) 
- C) 

8. GRAFİK: 3E SINIFI SINIF MEVCUDU

KIZ ÖĞRENCİ	
ERKEK ÖĞRENCİ	

NOT: Her görsel 5 (beş) öğrenciyi göstermektedir.

Yukarıdaki grafiğe göre 3E sınıf mevcudu kaçtır?

- A)  B)  C) 

9.



Yukarıdaki şekilde hangi geometrik şekil kullanılmamıştır?

- A) Daire
B) Üçgen
C) Dikdörtgen

14.






İki çift satıyı topladım ve sonucu çift sayı buldum.

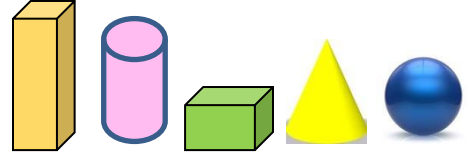
Arya'nın yaptığı işlem aşağıdakilerden hangisidir?

A)
$$\begin{array}{r} 54 \\ + 25 \\ \hline \end{array}$$
 B)
$$\begin{array}{r} 37 \\ + 49 \\ \hline \end{array}$$
 C)
$$\begin{array}{r} 60 \\ + 18 \\ \hline \end{array}$$

15. Hangi öğrenci, kartındaki doğal sayıyı yanlış onluğa yuvarlamıştır?

A) 
$$\begin{array}{r} 215 \\ \downarrow \\ 210 \end{array}$$
 B) 
$$\begin{array}{r} 543 \\ \downarrow \\ 540 \end{array}$$
 C) 
$$\begin{array}{r} 701 \\ \downarrow \\ 700 \end{array}$$

16.



Yukarıdaki geometrik cisimlerin kaç tanesinin ayrıtı yoktur?

- A) 2
B) 3
C) 4

17. Aşağıdaki Romen rakamlarından hangisini yan yana yazamayız?

- A) **I** B) **X** C) **V**

18. Yarısı 36 olan sayının çeyreği kaçtır?

- A) 18 B) 20 C) 21

19.



Bir çiftlikteki koyunların ayak sayıları 96'dır. Bu çiftlikte kaç koyun vardır?

- A) 28 B) 24 C) 26

20.



3 kilogramı 27 TL olan muzun 7 kilogramı kaç TL eder?

Yukarıdaki problemin çözümü için gereken işlem aşağıdaki seçeneklerin hangisinde verilmiştir?

A) $3 \times 27 = 81$
 $81 : 7 = 13$

B) $27 : 3 = 9$
 $9 \times 7 = 63$

C) $3 + 27 = 30$
 $30 + 7 = 37$

1. Aşağıdakilerden hangisi kıta değildir?

- A) Asya
- B) Avrasya
- C) Avrupa

2. Dünya'mızın etrafını saran hava katmanına ne denir?

- A) Okyanus
- B) Kara
- C) Atmosfer

- İç ve dış olmak üzere iki bölümden oluşmaktadır.
- En sıcak katmandır.
- Canlıların yaşadığı yere en uzak katmandır.

3. Yukarıda neyin tanımı yapılmaktadır?

- A) Manto
- B) Çekirdek
- C) Yer kabuğu

4. İnsanların dokunma duyusu vücudun bazı yerlerinde daha hassastır. Bunlar hangi bölümlerdir?

- A) Saç derimiz
- B) Parmak uçları
- C) Dizimiz

5. Gözü dış etkilerden koruyan kısımlar nelerdir?

- A) Kirpikler ve kaşlar
- B) Kaşlar ve saç derimiz
- C) Kirpikler ve göz bebeği

6. Aşağıdakilerden hangisi deri sağlığı için önemlidir?

- A) Gürültülü ortamlarda bulunmak.
- B) Sık sık banyo yapmak.
- C) Televizyonu yakından izlemek.

* Kaya * Masa * Ağaç * Kalem

7. Yukarıdaki varlıklardan kaç tanesi dışarıdan bir etki olmadan hareket edemez?

- A) 1 B) 2 C) 3

8. Aşağıdaki durumların hangisinde belirtilen varlık yön değiştirme hareketi yapar?

- A) Ağaçtan düşen elma.
B) Çarpışan iki top.
C) Yaydan fırlayan ok.

- Suyun kaynaması
- Uçurtmanın uçuşması
- Kalecinin topa vurması

9. Yukarıdaki durumların hangisinde kuvvetin etkisi yoktur?

- A) 1 B) 2 C) 3

*Kağıt *Sünger *Balon *Kürdan

10. Yukarıdakilerden kaç tanesi esnek maddedir?

- A) 2 B) 3 C) 4

*Kokulu *Renkli *Sıvı

11. Özellikleri verilen maddelerden aşağıdakilerden hangisidir?

- A) Çilek
B) Limonata
C) Su

12. Aşağıdaki maddelerden hangisi akışkan değildir?

- A) Şurup
B) Su
C) Sünger

13. Aşağıdakilerden hangisi yapay ışık kaynağıdır?



14. Aşağıdaki cümlelerden hangisi yanlıştır?

- A) Ay doğal ışık kaynağıdır.
- B) Görebilmemiz için ışık gereklidir.
- C) Gölge ışığı geçirmeyen maddelerde oluşur

15. Uzayda astronotlar birbirlerinin sesini duyamaz. Bunun sebebi ne olabilir?

- A) Yerçekiminin olmayışından.
- B) Hava olayının olmayışından.
- C) Taktıkları özel kasklar yüzünden.

16. Aşağıdakilerden hangisi çevre kirliliğinin çeşitlerinden biri değildir?

- A) Hava kirliliği
- B) Canlı kirliliği
- C) Su kirliliği

17. Bitkilerin büyüüp gelişmesi için hangisi gerekli değildir?

- A) Sıcaklık
- B) Su
- C) İnsan

18. Aşağıdakilerden hangisi yapay çevreye örnek verilebilir?

- A) Şehir
- B) Milli park
- C) Orman

19. Aşağıdaki ifadelerden hangisi yanlıştır?

- A) amaşır makinesi elektrikle alıřan bir araç gereçtir.
- B) Buzdolabı, aydınlatma amaçlı kullandığımız araç gereçlerdendir.
- C) Elektrikli araç ve gereçler hayatımızı büyük ölçüde kolaylaştırır.

20. Elektrik kesintilerinde devreye giren aletin adı nedir?

- A) Dinamo
- B) Jeneratör
- C) Sigorta

1. Bir sorun yaşadığımız arkadaşımıza karşı nasıl davranmalıyız?

- A) Nazik
- B) Kaba
- C) Sinirli

2. “İnsanın önce.....saygısı olmalıdır.” Cümlesinde boş yere hangisi gelmelidir?

- A) Arkadaşına
- B) Kendisine
- C) Ailesine

3. Öğretmenimizle iletişim kurarken aşağıdakilerden hangisini yapmalıyız?

- A) Yüksek sesle konuşmalıyız.
- B) “Sen” diye hitap etmeliyiz.
- C) Sözü nü kesmeden dinlemeliyiz.

4. On yaşında olan Gülizar evde annesine yardımcı olmak için aşağıdakilerden hangisini yapabilir?

- A) Camları silebilir.
- B) Küçük kardeşine bakabilir.
- C) Ütü yapabilir.

5. Ferhan, ev ödevi olarak evinin bulunduğu yerin krokisini çizecektir. Ferhan’ın çizdiği krokide aşağıdakilerden hangisini belirtmesine gerek yoktur?

- A) Cadde ve sokak adlarını.
- B) Evine yakın cami, okul gibi binaları.
- C) Evinin rengini.

6. Dedesinin çocukluğunu araştıran Devran’ın, aşağıdaki sorulardan hangisini sorması doğru olamaz?

- A) Nerede doğdunuz?
- B) Çocukken hangi oyunları oynardınız?
- C) Çocukken nerede çalışırdınız?

7. Aşağıda söylenen ifadelerden hangisi yanlıştır?

- A) Kadriye: Sadece okulda planlı olmak gerekir.
- B) Hediye: Planlı olmak hayatımızı kolaylaştırır.
- C) Remziye: Günlük ve haftalık plan yapabiliriz.

8. Aşağıdakilerden hangisi evde günlük kullandığımız kaynaklar arasında yer almaz?

- A) Su
- B) Boya
- C) Elektrik

9. Aşağıdakilerden hangisi temel ihtiyaçlarımız arasında yer almaz?

- A) Televizyon izleme ihtiyacı
- B) Giyinme ihtiyacı
- C) Su ihtiyacı

10. Piknik yaptığımız orman alanında yangın çıkınca kimi aramalıyız?

- A) 110
- B) 177
- C) 155

11. Okula gittiğimiz sırada tanımadığımız biri kolunuzdan tutup zorla sizi götürmek istediğinde ne yapman gerekiyor?

- A) Yüksek sesle bağırp yardım isterim.
- B) Onunla sessizce giderim.
- C) Yaşasın! derim ve onla giderim.

12) Aşağıdakilerden hangisi güvenli oyun alanlarından değildir?

- A) Okul bahçeleri
- B) Çocuk parkları
- C) Banyo

13. Aşağıdakilerden hangisi bir yerleşim yerinin kanalizasyon altyapısını yapar?

- A) Muhtar
- B) Belediye
- C) Vali/kaymakam

14. Cumhuriyet ile birlikte hangi alfabeyi kullanmaya başladık?

- A) Kiril Alfabesi
- B) Latin Alfabesi
- C) Arap Alfabesi

15. Aşağıda verilenlerden hangisi cumhuriyet sonrası kazandığımız hak ve özgürlüklerden değildir?

- A) Kadınlara seçme ve seçilme hakkı.
- B) Eğitim görme hakkı.
- C) İsim sahibi olma özgürlüğü.

16. Nobel kimya ödülünü kazanan Türk bilim adamı kimdir?

- A) Nuri DEMİRAĞ
- B) Aziz SANCAR
- C) Yaşar KEMAL

17. Aşağıdaki ifadelerden hangisi yanlıştır?

- A) Tarihi binaları istediğimiz gibi restore edebiliriz.
- B) Tarihi mekanlar toplumun ortak mirasıdır.
- C) Tarihi alanlara özen gösterip korumalıyız.

18. Aşağıda verilenlerden hangisi kamu malı değildir?

- A) Parklar
- B) Evimiz
- C) Spor salonları







19. “ Yurtta sulh, cihanda sulh.” Atatürk’ün bu sözü onun hangi özelliğini anlatmaktadır.

- A) Kararlılığını
- B) İleri görüşlülüğünü
- C) Barışçıl yönünü

20. Aşağıda hayvanlardan hangisinin sadece gücünden yararlanırız?

- A) Köpek
- B) İnek
- C) At

1. Match the words with the pictures. (Resimleri kelimelerle eşleştirelim.)

..... 	a. chair	
..... 	b. soap	
..... 	c. carpet	
	d. kettle	
	e. sofa	
	f. bed	

2. Look at the pictures and answer the questions. (Resimlere bakalım ve soruları cevaplayalım.)



1. Where is the television?
.....
2. Where are the coffee table?
.....
3. Where is the carpet?
.....
4. Where are the books?
.....
5. Where is the vase?
.....
6. Where are the flowers?
.....

3. Answer the questions using “Yes, there is or No, there isn’t” (Soruları Yes, there is ya da No, there isn’t kullanarak cevaplayalım.)

1- Is there a bed in the bedroom?
.....



2- Is there a television in the kitchen?
.....



3- Is there a car in the garage?
.....

4- Is there an armchair in the livingroom?
.....



5- Is there a teddy bear in the playroom?
.....

FFP

SİRT

CEVAP ANAHTARI

TÜRKÇE TESTİ

1	2	3	4	5	6	7	8	9	10	11	12	13	14	15	16	17	18	19	20
B	A	C	C	C	A	B	A	B	A	B	C	A	C	A	A	B	C	B	C

MATEMATİK TESTİ

1	2	3	4	5	6	7	8	9	10	11	12	13	14	15	16	17	18	19	20
A	B	A	B	C	A	A	C	C	B	C	C	A	C	A	B	C	A	B	B

FEN BİLİMLERİ TESTİ

1	2	3	4	5	6	7	8	9	10	11	12	13	14	15	16	17	18	19	20
B	C	B	B	A	B	C	B	A	A	B	C	C	A	B	B	C	A	B	B

HAYAT BİLGİSİ TESTİ

1	2	3	4	5	6	7	8	9	10	11	12	13	14	15	16	17	18	19	20
A	B	C	B	C	C	A	B	A	B	A	C	B	B	C	B	A	B	C	C

İNGİLİZCE TESTİ **Answer Key (Cevap Anahtarı)**

1. Match the words with the pictures. (Resimleri kelimelerle eşleştirelim.)

f



c



b



a



e



d



2. Look at the pictures and answer the questions. (Resimlere bakalım ve soruları cevaplayalım.)

1. It is on the table.

2. It is on the carpet.

3. It is under the coffee table.

4. They are in the bookcase.

5. It is between the television and the bookcase.

6. They are in the vase.

3. Answer the questions using "Yes, there is or No, there isn't" (Soruları Yes, there is ya da No, there isn't kullanarak cevaplayalım.)

1- Yes, there is.

2- No, there isn't.

3- Yes, there is.

4- No, there isn't.

5- Yes, there is.

Çalışmada Emegi Geçen Öğretmenlerimiz:

NEVZAT YILMAZ

(SINIF ÖĞRETMENİ-FEVZİ ÇAKMAK İLKOKULU)

BİLGE YILMAZ

(SINIF ÖĞRETMENİ-MEHMETÇİK İLKOKULU)

SEDA AYDINLI

(İNGİLİZCE ÖĞRETMENİ-80.YIL İLKOKULU)

ÖZGÜR ÖNER

(SINIF ÖĞRETMENİ-FEVZİ ÇAKMAK İLKOKULU)

LOKMAN İLİK

(BİLİŞİM TEKNOLOJİLERİ ÖĞRETMENİ-MEHMET AKİF ERSOY ORTAOKULU)

Bu çalışma Siirt İl Milli Eğitim Müdürlüğü öğretmenleri tarafından hazırlanmıştır. Emeklerinden dolayı teşekkür ederiz.