

# İLKOKUL 1.SINIF

HAFTALIK EV ÖDEVİ  
1-5 Haziran



SIİRT İL MİLLİ EĞİTİM MÜDÜRLÜĞÜ  
2020

Aşağıdaki şiiri en güzel yazınızla yazınız.

28 Mayıs Eba Tv  
Türkçe Çalışması

## AİLEMİZ

Annem, babam, kardeşlerim  
Çok mutlu bir aileyiz.  
Büyük annem, büyük babam  
Hepimiz bir aileyiz.

Babam, amcam aynı kandan  
Annem, teyzem aynı candan  
Aynı soydan, aynı boydan  
Hepimiz bir aileyiz.

## Müfit AKSAKAL

Aşağıdaki soruları ve cevaplarını yazı yazma kurallarına göre yazalım.

1) Aile ne demektir?


.....  
.....

2) Ailende kimler var?

.....  
.....



3) Ailendekilerle ilgili duygu ve düşüncelerin nelerdir?

.....  
.....



## ROBOTLAR

Robotlar, belirli işleri yapmak üzere geliştirilen makinelerdir. Kendi kendilerine yani otomatik olarak hareket edebilirler. Robotları uzaktan kumandayla da hareket ettirmek mümkündür. Robotlar, genellikle aynı biçimde tekrarlanan işlerde kullanılır. Robotlar, bu işleri hem insanlardan hızlı hem de hatasız yaparlar. Örneğin; otomobil üretiminde parçaları birleştirme işinde robotlar kullanılır. İnsanlar için tehlikeli ortamlarda, örneğin okyanusların derinliklerinde yapılan araştırmalarda robotlar kullanılır. Ayrıca uzay araştırmalarında da robotlardan yararlanır. Robotları konu alan bilim dalına "Robotik" adı verilir. Bu alanda mühendisler, robotları geliştirmek için çalışırlar.



Seçil Güvenç HEPER  
(Kısaltılmıştır)

27 Mayıs Eba Tv  
Türkçe Çalışması

Aşağıdaki kelimeleri anlamlarıyla eşleştirelim. Daha sonra cümle içinde kullanalım.

otomobil=

Bir alet veya taşıtın hareket etmesini sağlayan mekanizmayı.

Uzaktan kumanda=

Motorlu, dört tekerlekli kara taşıtı.

makine=

Televizyon ve oyuncak gibi araçları belli bir uzaklıktan çalıştırırım.

uzay =

Bütün gök cisimlerinin içinde bulunduğu sonsuz boşluğum.

Otomobil : .....

Uzaktan kumanda : .....

Makine : .....

Uzay : .....

**DİKKAT!!** Cümlelerine büyük harfle başlamayı ve cümlelerin sonuna nokta koymayı unutma!

Aşağıdaki soruları metne göre cevaplayalım?

1- Robotlar nasıl makinelerdir?

.....

2- Robotlar nasıl hareket ettirilebilir?

.....

3- Robotların, kullanıldığı yerlere birkaç örnek veriniz.

.....

4- Robotları geliştiren bilim dalına ne denir?

.....

## SAĞLIKLI BESLENELİM

Besinlerin vücudumuza farklı yararları vardır. Sağlıklı olmak için her çeşit besinden yeteri kadar yemeliyiz. Süt ve süttten yapılan yiyecekler, kemik ve diş sağlığımız için gereklidir. Süt, yoğurt, et, yumurta gibi hayvansal ürünler büyüyüp gelişmemizi sağlar. Sebze ve meyveler, bizi hastalıklardan korur. Vücudumuzun düzenli çalışmasını sağlar. Gofret, bisküvi, cips, kola gibi yiyecekler sağlığa zararlıdır.



1- Sağlıklı olmak için nasıl beslenmeliyiz?

.....

2- Süt içmenin faydaları nelerdir?


.....

3- Sebze ve meyve yediğimizde vücudumuzda neler olur?

.....

4- Sağlığa zararlı yiyeceklere örnek yazınız.

.....



Aşağıda karışık olarak verilen hecelerden anlamlı kelimeler yazalım.

-le -ce- a

-tar -a -nah

-ka-ar-daş

ğan- ar-ma

.....

.....

.....

.....

-ma-çı-kar

-daş-ar-ka

-dan-çay-lık

-gu-sal-duy

.....

.....

.....

.....

-la-top-ma

-sul-fa-ye

-ta-has-ne

-ka-rın-ca

.....

.....

.....

.....

# DİNİ BAYRAMLARIMIZ

Dini bayramlar, dinimiz açısından önemli ve kutsal sayılan günlerdir. İslam'da iki bayram kutlanmaktadır. Ramazan Bayramı ve Kurban Bayramı sevinçle kutladığımız dini bayramlarımızdır. Ramazan ayı boyunca oruç tutulur. Ramazan ayı sonunda üç gün bayram olarak kutlanır. Kurban Bayramı dört gündür. Bu bayramda kurban kesilir. Kurbanetleri dostlar, akrabalar ve ihtiyacı olanlarla paylaşılır. Bayramlarda herkes en güzel kıyafetlerini giyer. Büyükler ziyaret edilir, elleri öpülür. Küçükler unutulur. Şeker, çikolata, tatlı ikram edilir.



1-Dini bayramlarımız hangileridir?



.....

2-Dini bayramlarda neler yapılır?



.....

Satır sonuna sığmayan kelimeler her zaman hecelerinden kesilir. Doğru kesilmediğinde kelimenizi anlamsız hale getirirsiniz. Unutma satır sonunda tek harf bırakılmaz. Aşağıdaki satır sonuna sığmayan kelimeler doğru yazılmışsa "D" yanlış yazılmışsa "Y" harfini daire içine alınız.

D kal-  
Y abalık.

D dina-  
Y zor.

D arka-  
Y daş.

D sak-  
Y lambaç.

D ke-  
Y lebek.

D ö-  
Y ğretmen.


D o-  
Y kul.

D har-  
Y çlık.

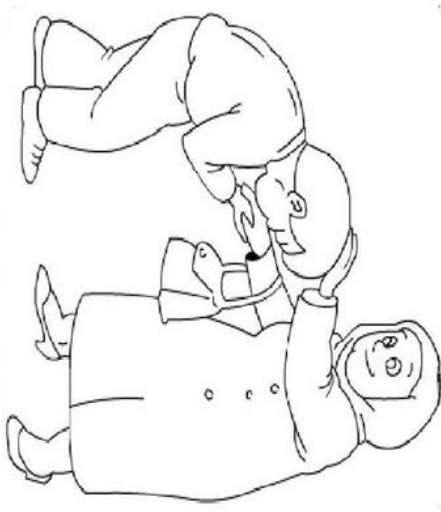
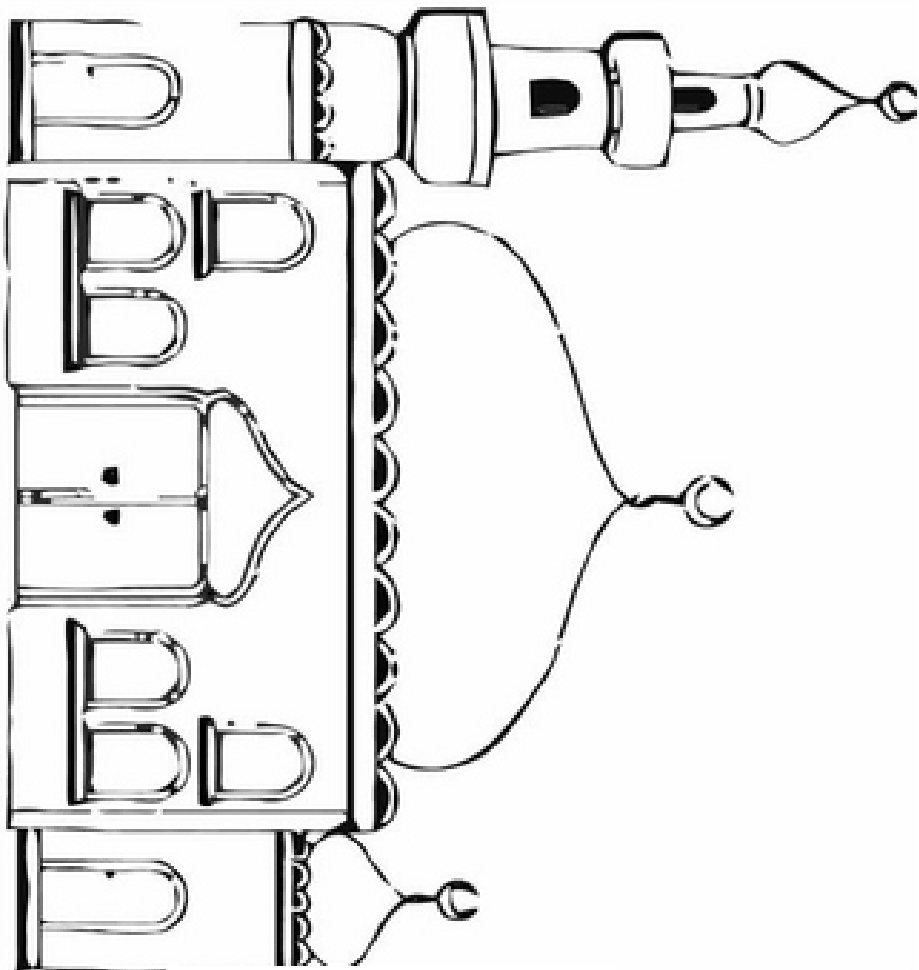

D mu-  
Y tluluk.



Bayramlarımız hakkında ailenizle konuşup resmi boyayınız.



## DİNİ BAYRAMLAR



KURBAN BAYRAMI

RAMAZAN BAYRAMI

## ATATÜRK'ÜN GELİŞİ

Doğdu 19 Mayıs'ta,  
Bağımsızlık güneşi.  
Umut oldu, can oldu,  
Atatürk'ün gelişi.

İlk korkuyu düşmana,  
Korkusuzca O verdi.  
Çare oldu, ses oldu,  
Atatürk'ün gelişi.

Topladı etrafında,  
Tüm vatanseverleri.  
Şeref oldu, şan oldu,  
Atatürk'ün gelişi.

Birkan SOYLU



1-Şiire göre bağımsızlık güneşi ne zaman doğdu?

2-Şiire göre düşmana ilk korkuyu kim verdi?

3-Şiire göre Atatürk etrafında kimleri topladı?

4-Şair Atatürk'ün gelişi için ne diyor?

Aşağıda yanlış yazılan özel adları düzelterip cümleleri yeniden yazın  
atatürk kurtuluş savaşını başlattı

mustafa kemal ve arkadaşları samsuna çıktı

erzurum,sivas ve amasyada toplantı yaptı

19 mayıs atatürkü anma, gençlik ve spor bayramıdır

bandırma vapuruyla istanbuldan yola çıktı

Aşağıdaki cümlelerin sözcük ve hece sayısını yazın.

Cümle	Sözcük sayısı	Hece sayısı	Harf sayısı
Evde kalarak virüsten korundum.	4	11	27
Gülme komşuna gelir başına.			
Dedem Siirt'ten geldi mi?			
Uzaktan eğitimle ödevlerimi yaptım.			
Benim öğretmenim gözlük takıyor.			

## BİTKİLERİ KORUYALIM

Bitkiler de insanlar ve hayvanlar gibi canlıdır. Işığa, suya ve beslenmeye ihtiyaç duyarlar.

Bitkilerin ve hayvanların insanlara sayısız faydaları vardır. Bitkiler insanların ve hayvanların besin kaynağıdır. Havayı temizler. Yağmur bulutlarını getirir. Hayvanların yuvasıdır. Yakacak olarak, mobilya yapımında, kağıt üretiminde ve daha birçok alanda ağaçlar kullanılır. Ağaçları kesmemeli, dallarını koparmamalıyız. Her fırsatta ağaç dikmeli, ormanları yangından korumalıyız.



Yol kenarlarında, bahçelerde gördüğümüz çiçekler hoş kokularıyla dünyamızı güzelleştirirler. Çiçeklere zarar vermemeli, onları koparmamalıyız.

Aşağıdaki cümlelerden doğru olanları yeşil, yanlış olanları kırmızı boyayın.

Bitkiler sadece süs içindir. Başka faydası yoktur.

Çiçekleri gerekirse koparabiliriz.

Ağaçlar havayı temizler, yağmur bulutlarını getirir.

Bitkiler canlı değildir.

Ormanlar birçok hayvanın yuvasıdır.

Bitkilerin insanlara sayısız faydası vardır.

## BİRAZ DA HAYAL


Evde bir kutu bulduğunu hayal et. Bu kutudan nelerin çıkmasını isterdin? Onların resmini çiz veya isimlerini aşağıdaki sayfaya yaz. Sonra da hayallerini büyüklerine anlat.





## KARINCA

Bir buğday tanesine  
Dört elle sarılıyor.  
Uyuşuk tembeller  
Bakıp da darılıyor.



İbret alın çocuklar  
Çalışkan karıncadan.  
Uyuşuk tembellerden  
Var mı hiç adam olan?  
Bülent ÖZCAN

1-Karınca neye sarılıyor?

.....

2-Karınca kime daralıyor?

.....

3-Çocuklar neden karıncadan ibret almalı?

.....

4-Şiirin şairi kimdir?

.....

## 8 Mayıs EBA tv Türkçe Çalışması. .

Verilen metindeki boşluklara uygun kelimeleri yazalım.

internet

tablet

bilgisayar

Roboköp

Köyde ..... , ..... ve..... kullanmadılar. Çok sıkılacaklarını düşündükleri halde hiç sıkılmadılar. Üstelik Neşeli'yi ..... 'ten daha çok sevdiler.

Emre ile Eren Neşeli'yi Roboköp'ten niçin daha fazla sevmiş olabilirler. Düşüncenizi yazınız.

.....  
.....

Aşağıdaki görseli inceleyiniz. Daha sonra parkta neden hiç çocuk olmadığını yan tarafına yazınız.

HAYAT EVE SİĞAR. EVDE KAL SİİRT



.....  
.....  
.....  
.....

## Problemler

1-Ağaçta 9 kuş vardı. 6 kuş daha geldi. Kaç kuş oldu?

2-Sepette 12 ceviz vardı. 7 ceviz daha koyduk. Kaç ceviz oldu?

3- Tabakta 13 kurabiye vardı. 6 tanesini yedik. Kaç kurabiye kaldı?

4-Raftaki 16 tabağın 8 tanesini yıkadık. Geriye kaç tane kaldı?

5-Evde 14 balık vardı. 4 tanesini pişirdik. Eve kaç balık kaldı?

6- Otobüste 4 yolcu vardı. Durakta 7 yolcu daha bindi. Otobüste toplam kaç yolcu oldu?

7- Annem 16 tane kurabiye yaptı. Akşa 7 tanesini yedik. Geriye kaç tane kurabiye kaldı?

8- Parkta 13 çocuk vardı. 5 çocuk daha geldi. Parkta toplam kaç çocuk oldu?

9- Sevim 18 yaşındadır. Kardeşi 8 yaş küçüktür. Sevim'in kardeşi kaç yaşındadır?

10- Ağaçta 7 kuş vardı. Ağaca 5 kuş daha kondu. Ağaçta toplam kaç kuş olmuştur?

Annem 4 kilo kiraz, 6 kilo portakal, 8 kilo çilek aldı. Annemin aldığı kırmızı meyvelerin toplamı kaç kilodur?

13 sayfalık kitabımın 7 sayfasını okudum. Okumam gereken kaç sayfa kalmıştır?

**Dikkat!!**

## HAYVANLARIN YUVALARI

Bütün canlılar güvenli bir şekilde yaşamak, sıcaktan, soğuktan ve her türlü tehlikeden korunmak için bir yuvaya ihtiyaç duyar. Her canlının bir yuvası vardır.

Kedi, köpek, kuş ve süs balığı gibi hayvanlar evde bizimle yaşayabilirler. Bazılarına sahipleri bahçede yuva yapar.

Tavuk, horoz, hindi ve ördek gibi hayvanlar kümeste yaşar. Arpa, buğday, mısır tanelerinden oluşan yemlerle, ot, böcek ve solucanlarla beslenir.



Koyun, keçi gibi küçükbaş hayvanlar ağılda yaşarken inek, at, eşek gibi büyükbaş hayvanların yuvası ahırdır. Bu hayvanlar otla beslenir.


1-Hayvanlar neden yuvaya ihtiyaç duyar?

2-Kümede yaşayan hayvanlar hangileridir?

3-Küçükbaş hayvanlar hangileridir? Nerede yaşarlar?

4-Büyükbaş hayvanlar hangileridir? Nerede yaşarlar?

## Hayvanlarla yuvalarını eşleştirin



## Aşağıdaki alfabede eksik harfleri tamamlayınız.

1	2	3	4	5	6	7	8	9	10	11	12	13	14	15
A					E								K	
16	17	18	19	20	21	22	23	24	25	26	27	28	29	
M			Ö				Ş						Z	

Aşağıdaki sözcük gruplarından birbiriyle ilişkili olanları örnekteki gibi işaretleyiniz. Yukarıdaki ALFABE'den yararlanarak aşağıdaki kelimeleri alfabetik sıralamasına göre numaralandırınız.

<table border="1"><tr><td>2-</td><td>yumurta</td></tr><tr><td>1-</td><td>mektup</td></tr><tr><td>3-</td><td>zarf</td></tr></table>	2-	yumurta	1-	mektup	3-	zarf	<table border="1"><tr><td></td><td>kitap</td></tr><tr><td></td><td>ilkbahar</td></tr><tr><td></td><td>kış</td></tr></table>		kitap		ilkbahar		kış	<table border="1"><tr><td></td><td>sıra</td></tr><tr><td></td><td>sınıf</td></tr><tr><td></td><td>akşam</td></tr></table>		sıra		sınıf		akşam	<table border="1"><tr><td></td><td>elma</td></tr><tr><td></td><td>balon</td></tr><tr><td></td><td>muz</td></tr></table>		elma		balon		muz
2-	yumurta																										
1-	mektup																										
3-	zarf																										
	kitap																										
	ilkbahar																										
	kış																										
	sıra																										
	sınıf																										
	akşam																										
	elma																										
	balon																										
	muz																										
<table border="1"><tr><td></td><td>spor</td></tr><tr><td></td><td>bilgisayar</td></tr><tr><td></td><td>hareket</td></tr></table>		spor		bilgisayar		hareket	<table border="1"><tr><td></td><td>süt</td></tr><tr><td></td><td>kahvaltı</td></tr><tr><td></td><td>deniz</td></tr></table>		süt		kahvaltı		deniz	<table border="1"><tr><td></td><td>yaz</td></tr><tr><td></td><td>atki</td></tr><tr><td></td><td>bere</td></tr></table>		yaz		atki		bere	<table border="1"><tr><td></td><td>vatan</td></tr><tr><td></td><td>oyun</td></tr><tr><td></td><td>bayrak</td></tr></table>		vatan		oyun		bayrak
	spor																										
	bilgisayar																										
	hareket																										
	süt																										
	kahvaltı																										
	deniz																										
	yaz																										
	atki																										
	bere																										
	vatan																										
	oyun																										
	bayrak																										

## Aşağıdaki görsellerin çağrıştırdığı sözcükleri yazınız.



.....

.....

.....



.....

.....

.....



.....

.....

.....



.....

.....


.....



.....

.....

.....



.....

.....

.....

## Yeni Bilgi

Yazılışları ve okunuşları farklı, anlamları aynı olan kelimelere eş anlamlı (anlamdaş) sözcükler denir.

Örnek :



Eşref Bitlis İ.O



örnek: Korona virüs salgınında dışarı çıkamayan yaşlılara yardım etmeliyiz.  
Korona virüs salgınında dışarı çıkamayan ihtiyarlara yardım etmeliyiz.

Öğrenciler uzaktan eğitim sürecinde çok çalıştılar.

Talebeler uzaktan eğitim sürecinde çok çalıştılar.

Aşağıdaki yazılmış olan sözcüklerin eş anlamlılarını bulup karşısına yazınız. Ailenizden yardım alabilirsiniz.

kara  
doktor  
yurt

düş  
mektep  
yanıt  
yürek

hikaye  
tabiat

ırmak  
tümce  
ev  
basit  
misafir

Sözcükler	
siyah	
rüya	
vatan	
dere	
kalp	
hekim	
okul	

Sözcükler	
kolay	
konuk	
öykü	
cümle	
doğa	
cevap	
konut	



Yan taraftaki resimleri bulup boyayınız.



### Uzunluk Ölçme

Etkinlik: Aşağıdaki görseli inceleyelim. Daha sonra cümlelerdeki boşluklara “en kısa” “en uzun”, “daha kısa” ve “daha uzun” ifadelerini yazalım.



Görselde boyu ..... hayvan maymundur.

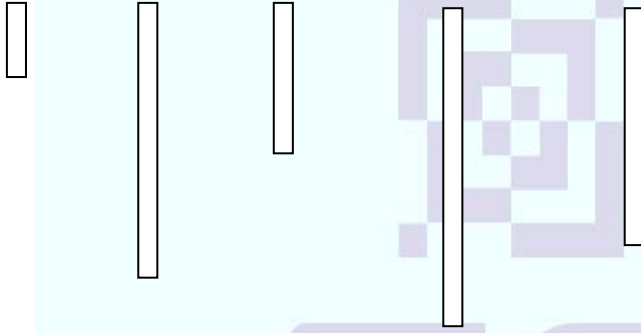
Fil, maymundan .....dur.

Fil, zürafadan .....dir.

Maymun, fil ve zürafandan .....dir.

Görseldeki boyu ..... hayvan zürafadır.

Etkinlik: Aşağıdaki çubuklardan en uzun çubuğu maviye ve en kısa çubuğu kırmızıya boyayalım.



Etkinlik: Çocukların boylarını uzundan kısaya doğru sıralayalım. Kaçınıcı sırada olduklarını resimlerin altlarına, sıra sayılarını kullanarak yazalım.



Etkinlik: Aşağıdaki kalemlerden en kısa olanının altındaki kutucuğu işaretleyelim.



Etkinlik: Aşağıdaki çatalardan en uzun olanının altındaki kutucuğu işaretleyelim.



Bütün: Bir varlığın kendisine bütün denir.



bütün pizza



bütün pasta



bütün simit



bütün çilek

Yarım: Bir bütünün iki eş parçasından her birine yarım denir.



→ 1 bütün armut



→ 2 yarım armut eder.

Aşağıdaki malzemeler bütün mü, yarım mı? Altlarına yazınız.



.....



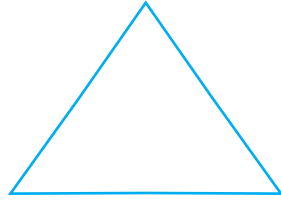
.....

.....

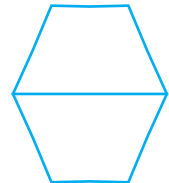
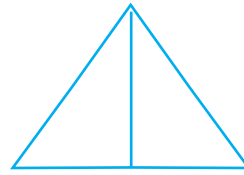

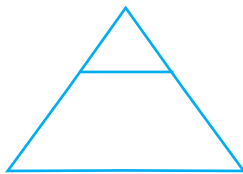
.....

.....

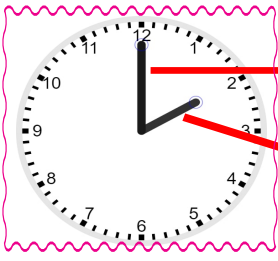
Aşağıdaki şekillerin yarısını boyayalım.



Aşağıdaki şekillerden iki eş parçaya ayrılmış olanları işaretleyelim.



# Zamanı Ölçme



Saat iki


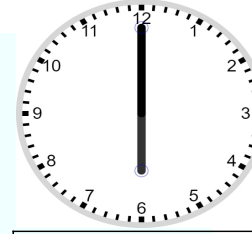

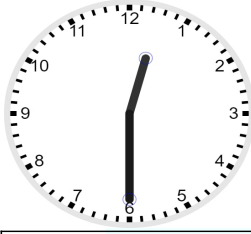

Yelkovan dakikaları gösterir.

Akrep saati gösterir.

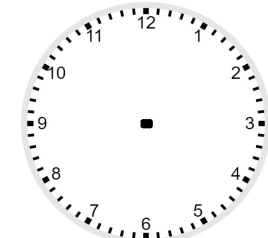
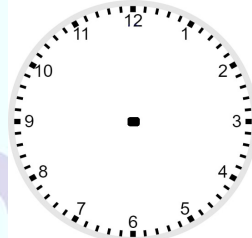
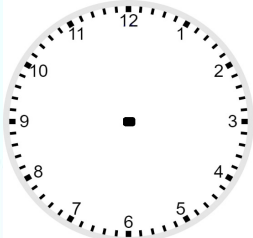
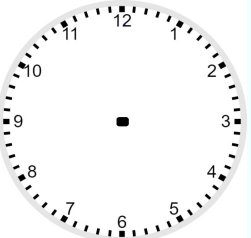
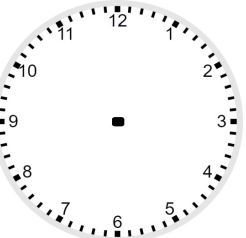
→ **Tam saat:** Yelkovan 12'nin tam üzerinde iken gösterdiği zamana **tam saat** denir.

→ **Buçuk saat:** Yelkovan 6'nın üzerindeyken saatler buçuk olarak okunur.

Aşağıdaki saatlerin okunuşlarını yazınız.



Kutularda belirtilen saatleri çiziniz.



saat iki

iki buçuk

saat bir

dokuz buçuk

bir buçuk

Aşağıda verilen sözcüklerin zıt anlamlılarını bulalım, örnekteki gibi cümle içinde kullanalım.

çok ⇒ az ⇒ Bu haftaki ödevlerimiz çok az.

aşağı ⇒  ⇒

gülme ⇒  ⇒

çirkin ⇒  ⇒

soğuk ⇒  ⇒

hızlı ⇒  ⇒

Aşağıdaki boşluklara haftanın günlerini yazarak doldurunuz.

1. gün

2. gün

3. gün

4. gün

5. gün

6. gün

7. gün

Aşağıdaki boşlukları ayların isimlerini yazarak doldurunuz.

1. ay

2. ay

3. ay

4. ay

5. ay

6. ay

7. ay

8. ay

9. ay

10. ay

11. ay

12. ay

Aşağıdaki boşlukları mevsimlerin isimlerini yazarak doldurunuz.

1.

2.

3.

4.

Aşağıdaki soruların cevaplarını noktalı yerlere yazalım.

Yılın 5. ayı hangisidir? .....

Bir yılda kaç mevsim vardır? .....




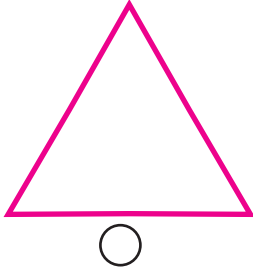
Tatile girmeden önceki gün hangisidir? .....

Salı gününden sonraki gün hangisidir? .....



## Geometrik Şekiller ve Cisimler

Aşağıdaki şekillerin köşelerini kırmızı kalemle gösterelim. Köşesi olmayan şeklin kutusunu işaretleyelim.



Aşağıdaki geometrik şekillerin köşe ve kenar sayılarını yazalım.

Şeklin Adı	Kenar Sayısı	Köşe Sayısı
Kare		
Dikdörtgen		
Üçgen		
Çember		

Aşağıdaki tabloda verilen çalışmaları yapınız.

Dün	Bugün	Yarın
	Pazartesi	

Dün	Bugün	Yarın
	Salı	

Dün	Bugün	Yarın
		Cuma

Dün	Bugün	Yarın
	pazar	

## Sudokuyu doğru çözmek için;

- Her sütunda (dikine alt alta dizili kareler) 1'den 4'e kadar olan rakamlardan birer kez kullanılmalı.
- Her satırda (yan yana gelen kareler) 1'den 4'e kadar olan rakamlardan birer kez kullanılmalı.
- Her koyu çizgi ile ayrılmış bölümde 1'den 4'e kadar olan rakamlar bulunmalı.
- Çözmenin kolay olması için; bir sayının eksik olduğu sütun, satır ya da bölümden başlanmalı

### 4x4 SUDOKU (NORMAL SEVİYE)

Her satır ve sütunda 1,2,3,4 rakamlarını kullanarak boş kutuları doldurunuz.

Sudoku 1

			4
	2		
3	1		
2	4	3	

Sudoku 2

2	3		1
	4		
3			
	1	3	

Sudoku 3

3	2		
4	1	3	
		4	1
	4		

Sudoku 4

1		2	4
	4	3	
3	1		
			3

Sudoku 5

	4		
1	2		4
		2	3
2			

Sudoku 6

2		3	1
		4	2
3	2		
			3

Sudoku 7

			4
3	4		1
2			
	3	1	

Sudoku 8

		4	2
2		1	
	2		
3	1		

Sudoku 9

1	2		4
3		1	
		4	
4	3		



				
<b>KULAÇ</b>	<b>ADIM</b>	<b>AYAK</b>	<b>KARIŞ</b>	<b>PARMAK</b>

- ✓ Kalemim ..... parmak uzunluğundadır.
- ✓ Evimizin halısının boyu ..... adım uzunluğundadır.
- ✓ Kapımızın eni ..... kariş uzunluğundadır.
- ✓ Salonun eni ..... adım uzunluğundadır.
- ✓ Kanepemizin eni ..... kulaç uzunluğundadır.
- ✓ Masanın eni ..... kariş uzunluğundadır.

Aşağıdaki ölçme araçlarından hangisi sıvı ölçme aracıdır?










**Aşağıdaki soruları cevaplayınız**

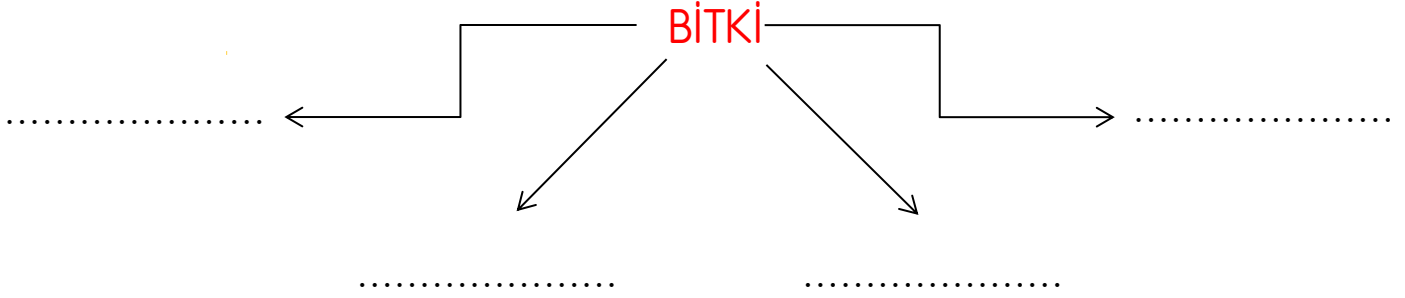


Yukarıdakilerin hepsini ağzına kadarsu ile doldurduğumuzda en çok ve en az hangisi su alır?

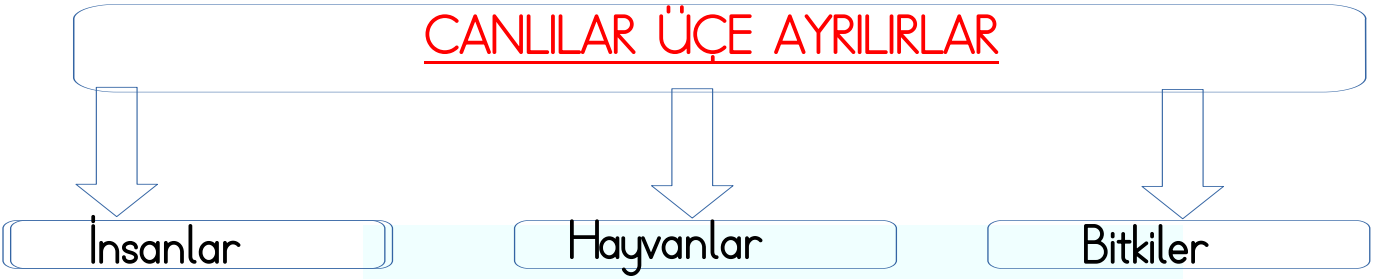


Yukarıdaki sürahi 5 bardak su ile dolmaktadır. Yukarıdaki bardaklar sürahiden doldurulmuştur. Buna göre sürahide kaç bardak su kalmıştır?

Bitki denilince aklına neler geliyor? Haydi, yazalım.



CANLILAR ÜÇE AYRILIRLAR



BİTKİLERİN BAZI FAYDALARI

- Bitkiler pek çok faydası vardır.
- Canlılar için besin kaynağıdır.
- Havayı temizler.
- Hayvanların yuvalarına ev sahipliği yapar.
- Oyun arkadaşıdır.

*28 Mayıs Eba Tv  
Çalışması*

ÜLKEMİZDE YETİŞEN BAZI BİTKİLER





Aşağıdaki boşlukları verilen kelimelerle uygun şekilde doldurunuz.

Türkiye Cumhuriyeti'dir

Atatürkü Anma Gençli Ve Spor Bayramı'dır

besin

dini

ay - yıldızlı

İstiklal Marşı'dır

Cumhuriyet Bayramı'dır

Ulusal Egemenlik Ve Çocuk Bayramı'dır

Ankara'dır

Üç

Kaymakam

Demokrasi ve Millî Birlik Günü'dür

Bazı bitkiler canlılar için ..... kaynağıdır

İlçeleri ..... yönetir.

Ülkemizin adı .....

Ülkemizin başkenti .....

Ülkemizin milli marşı .....

29 Ekim .....

23 Nisan .....

19 Mayıs .....

15 Temmuz.....

Canlılar.....ayrılır.

Ülkemizin bayrağı beyaz ..... ve ..... al bayraktır.

Ramazan Bayramı ve Kurban Bayramı ..... bayramlardır.

Acil Telefon Numaraları

Yangın: - - -

Ambulans: - - -

Polis: - - -

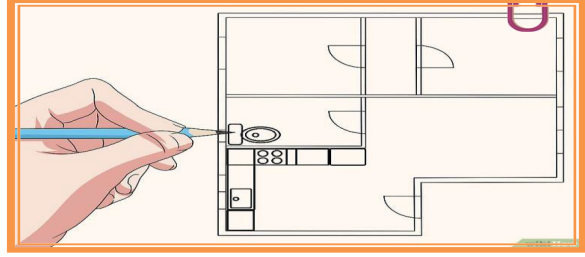
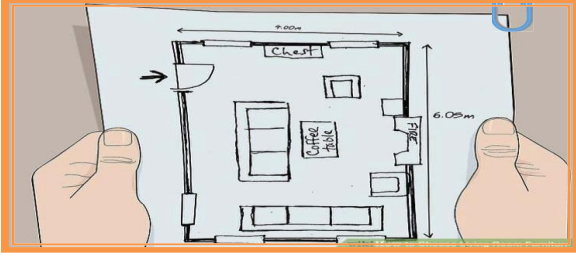
Orman Yangını: - - -

Jandarma: - - -

# EVİN KROKİSİ

**Malzemeler:** Kağıt, kalem, boya, cetvel.

Sayın veli! Çocuđunuzla birlikte bir kâğıt ya da karton üzerine kare ve dikdörtgen şekilleri çizerek evin kuş bakışı görünümünü oluşturabilirsiniz. Daha sonra çocuđunuzla birlikte bu odaları temsil eden şekillerin içine evdeki eşyaların resmini çizerek, evinizin krokisini somutlaştırmış olursunuz. Daha sonra çocuđunuz çizdiđi krokiyi ailesine anlatabilir.



Pazartesi

Salı

Çarşamba

Perşembe

Cuma

09:00	<b>TÜRKÇE-1</b> Bilim ve Teknoloji- Ekranza 1 <b>EBA izle</b> <b>TRT izle *</b>	<b>TÜRKÇE-1</b> Bilim ve Teknoloji- Ekranza 2 <b>EBA izle</b> <b>TRT izle *</b>	<b>HAYAT BİLGİSİ-1</b> Ülkemizde Hayat-Dini Bayramlarımız <b>EBA izle</b> <b>TRT izle *</b>	<b>TÜRKÇE-1</b> Masal <b>EBA izle</b>
09:30	<b>MATEMATİK-1</b> Uzunluk ve Sıvı Ölçme-Veri Toplama ve Değerlendirme	<b>MATEMATİK-1</b> Uzunluk ve Sıvı Ölçme-Veri Toplama ve Değerlendirme 2	<b>TÜRKÇE-1</b> Bilim ve Teknoloji- Ekranza 3 <b>EBA izle</b> <b>TRT izle *</b>	<b>HAYAT BİLGİSİ-1</b> Doğada Hayat- Çevremizdeki Hayvanlar
14:00		<b>TÜRKÇE-1 (Tekrar)</b> Bilim ve Teknoloji- Robotlar <b>EBA izle</b> <b>TRT izle *</b>	<b>HAYAT BİLGİSİ-1 (Tekrar)</b> Doğada Hayat- Çevremizdeki Bitkiler	<b>TÜRKÇE-1 (Tekrar)</b> Masal
14:30		<b>MATEMATİK-1 (Tekrar)</b> Uzunluk ve Sıvıları Ölçme-Uzunluk Ölçme <b>EBA izle</b> <b>TRT izle *</b>	<b>TÜRKÇE-1 (Tekrar)</b> Bilim ve Teknoloji- Yazma Çalışmaları	<b>HAYAT BİLGİSİ-1 (Tekrar)</b> Doğada Hayat-Bitkileri ve Hayvanları Koruma

18-22 Mayıs  
EBA tv

25-29 Mayıs  
Eba Tv  
Bayram Tatili

Bu çalışma Eba Tv'ye paralel, aynı zamanda genel tekrar amacıyla hazırlanmıştır.

**HAZIRLAYAN:** Ersin İNCE  
Şht. Org. Eşref Bitlis İlkokulu

**DÜZENLEYEN:** Fırat NARİN

Bu çalışma Siirt İl Milli Eğitim Müdürlüğü Öğretmenleri tarafından hazırlanmıştır. Emeklerinden dolayı teşekkür ederiz.