

3. Sınıf

Haftalık Ödev

03-07 MAYIS



SIIRT
İL MİLLÎ EĞİTİM MÜDÜRLÜĞÜ

[www.
siirt.meb.gov.tr](http://www.siirt.meb.gov.tr)



/siirtmem

1. 1.Ödevini ilk bitiren Neval oldu.
2. Üç arkadaş ödev yapmaya karar verdi.
3. Ödevlerini bitirince oyun oynamaya başladılar.
4. Daha sonra diğerleri de bitirdi.

Yukarıdaki cümlelerin oluş sırasına göre doğru sıralanışı hangi seçenekte verilmiştir?

- A) 1-2-3-4
- B) 2-1-3-4
- C) 2-1-4-3



Köyün çobanı, mısır tarlasının yanındaki tek katlı evde oturuyordu.

2. Çınar'ın cümlesinde aşağıdaki öykü unsurlarından hangisi yoktur?

- A) karakter
- B) zaman
- C) Yer

3. Aşağıdaki cümlelerin hangisinde yazım yanlışı vardır?

- A) 9 Mart 2021 pazar günü toplanacağız.
- B) Doktor Erol Bey yetenekli bir kişiydi.
- C) Siirt'i Batman'a bağlayan yolda ilerliyoruz.

4. Aşağıdaki cümlelerin hangisinde abartı anlamı vardır?

- A) A) Hediyelerimi görünce çok sevindim.
- B) Dev gibi bir kartal havada süzülüyor.
- C) Öğretmenim defalarca tembih etti.

5. Eyvah()Azra()Yağmur ve Güzde () yi çağırmayı unuttum()

Yukarıdaki cümlede parantezlerin içine sırası ile hangi noktalama işaretleri kullanılır?

- A) (!) (,) (,) (.)
- B) (,) (,) (') (.)
- C) (!) (,) (') (.)

6. "İçin – taşı – karanlıkta – düşüm –
1 2 3 4
görmediğim"
5

Yukarıdaki kelimelerle anlamlı ve kurallı bir cümle oluşturacak olursak sıralama nasıl olur?

- A) 3-4-2-5-1
- B) 1-2-3-5-4
- C) 3-2-5-1-4

7. Aşağıdaki cümlelerin hangisinde varlığın özelliğini belirten kelime kullanılmamıştır?

- A) Öğretmenimiz her zamanki gibi önlüğünü giyinmiş.
- B) Arkadaşıma kırmızı elbise çok yakışmıştı.
- C) Herkes yuvarlak masanın etrafına toplanmıştı.

8. Aşağıdaki cümlelerin hangisinde birden çok varlığı belirten bir sözcük kullanılmamıştır?

- A) Bahar gelince çiçekler açmıştı.
- B) Yollar kardan kapanmıştı.
- C) Güler defter aldı.

9. "İşçiler gece gündüz çalıştılar işi bitirdiler."

Yukarıdaki cümlede ki altı çizili kelimeler arasındaki **anlam ilişkisi** aşağıdaki hangi seçenekte vardır?

- A) güçlü – kuvvetli
- B) aşağı – yukarı
- C) okul – mektep

10. "Ödevimi yapmak için gideceğim."

Yukarıdaki cümle aşağıdaki hangi sorunun cevabı olabilir?

- A) Kütüphaneye ne zaman gideceksin?
- B) Kütüphaneye kiminle gideceksin?
- C) Kütüphaneye niçin gideceksin?

11. I. Yüzünü iyice yıkadı.

II. Yüzdün yüzdün kuyruğuna geldin.

III. Küçük kız, boyları yüzüne sürmüştü.

IV. Burak, yüze kadar sayabiliyor.

"yüz" sözcüğü hangi cümlelerde **aynı anlamda** kullanılmıştır?

- A) I - II
- B) III - II
- C) I - III

12. 'Kafaya takmak' deyiminin anlamı aşağıdakilerden hangisidir?

- A) Bir konu üzerinde çok düşünmek
- B) Çaresiz kalmak
- C) Çok sinirlenmek

"Hepimiz kitap okuruz. Fakat kitap seçerken dikkat etmemiz gereken hususlar vardır. Örneğin kitabın şeklinden, görsellerinden çok içeriğine önem vermeliyiz. Sonuçta kitap okumak bir resme bakmak değildir. İçinde yer alan hikâyeler bizim için önemlidir."

13. Yukarıda verilen metnin ana fikri aşağıdakilerden hangisidir?

- A) Kitap okumak gelişimimiz için önemlidir.
- B) Kitapların görsellerine dikkat etmeliyiz.
- C) Kitapların resimlerinden çok içeriğine dikkat etmeliyiz.

14. Siirt Güneydoğu Anadolu Bölgesi'nde yer alan şirin bir ilimizdir. Merkez ilçeye beraber 7 ilçesi vardır. Batman, Şırnak, Bitlis ve Diyarbakır komşu illeridir.

Yukarıdaki metnin türü aşağıdakilerden hangisidir?

- A) Bilgilendirici metin
- B) Şiir
- C) Öyküleyici metin

15. Aşağıdaki kelimelerin hangisi satır sonunda doğru ayrılmıştır?

- A) ...kar-
anlık
- B) ...kardeş
-im
- C) ...okya-
nus

16. "Saç" sözcüğü aşağıdaki cümlelerin hangisinde "Evladım, tohumları tarlaya saç" cümlesindeki anlamıyla kullanılmıştır?

- A) Geçen gün saçlarımı kestirdim.
- B) Bütün kalemler etrafa saçıldı.
- C) Saçlarının modelini çok beğendim.

17. Aşağıdaki cümlelerde altı çizili kelimelerden hangisi doğru yazılmıştır?

- A) Çifçiler tarlada çalışıyorlar.
- B) Yolda karşılaşıp sohbet ettiler.
- C) Eyitimini yurt dışında tamamlayacak.

18. Aşağıdaki tümcelerin hangisinde karşılaştırma vardır?

- A) Yeşil kazağını, siyah pantolonunu giyerek çıktı.
- B) Dostları onu hoşgörülü, yardımsever biri olarak tanırlardı.
- C) Kitaplıkta hikâye kitaplarının az, masal kitaplarının çok olduğunu gördü.

19. “Pazara gelen köylü, yumurtaları satamayınca onları geri götürdü. “

cümlesindeki “ onları “ sözcüğü aşağıdaki varlıklardan hangisinin yerine kullanılmıştır?



- A) Köylü
- B) Yumurtalar
- C) Tavuklar

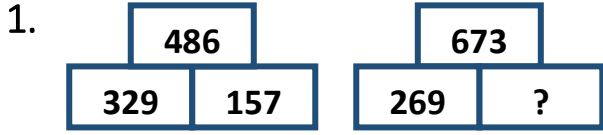
20. 1-Gün doğmadan neler doğar.

2-Dost kara günde belli olur.

3-Çıkmayan candan umut kesilmez.

Yukarıdaki atasözlerinden hangi ya da hangileri inancımızı yitirmememiz ve umutsuzluğa düşmememiz gerektiğini öğütlemektedir?

- A) 1 ve 3
- B) 2 ve 3
- C) 1 ve 2



Yukarıdaki ilk şekildeki sayılar arasındaki ilişkiye göre, ikinci şekildeki (?) yerine hangi sayı gelmelidir?

- A) 942
B) 404
C) 521

2. Bir pazarda pazarcı ile müşteri arasında şu konuşma geçmiştir.

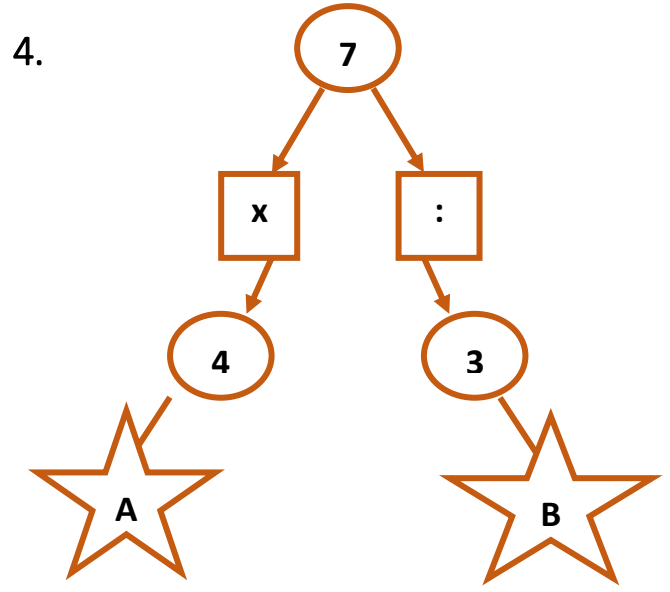
- Portakalın kilosu kaç lira?
- 80 kuruş ama 3 kilo alırsanız 2 TL olur.
- O zaman 3 kilo tartın.

Bu konuşmaya göre pazarcı 3 kilo portakala kaç kuruş indirim yapmıştır?

- A) 20 B) 40 C) 60

3. Dilgeş 95 tane fıındığından her gün eşit sayıda yemektir. Bir hafta sonunda 25 tane fıındığı kalmıştır. Dilgeş **günde kaç tane fıındık yemiştir?**

- A) 10 B) 15 C) 20



Yukarıdaki grafiğe göre $A : B$ kaçtır?

- A) 15 B) 12 C) 20

5. Bir müsamere salonundaki gösteriyi izlemek için 169 kişi koltuklara oturmuş, salonda 47 koltuk boş kalmıştır. Müsamere salonu dışında 59 kişi vardır.

Bu müsamere salonu kaç kişi almaktadır?

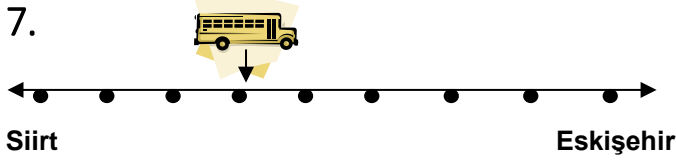
Bu problemin çözümünde hangi bilgiye ihtiyaç yoktur?

- A) Müsamerede oturan kişi sayısı
B) Boş koltuk sayısı
C) Müsamere dışında bekleyen kişi sayısı



6. 3 tane 100 TL , 4 tane 50 TL , 6 tane 20 TL ve 8 tane 5 TL 'nin toplamı kaç TL'dir?

- A) 600
B) 660
C) 560



Siirt - Eskişehir arası 1400 km' dir.

Siirt 'ten yola çıkan bir otobüs bu yolun

$\frac{3}{8}$ 'ünü gitmiştir. Bu otobüsün gideceği kaç km yolu kalmıştır?

- A) 525 B) 625 C) 875

8. “ $17 \times 4 = 68$, $68 + 19 = 87$ ”

Yukarıdaki işlemlerle hangi problemi çözemeyiz?

- A) 4 öğrenci sınıfı süslemek için 17' şer bayrak getirdi. 19 bayrağımız daha vardı. Toplam kaç bayrağımız oldu?
B) 17 kalemin 4 katının 19 fazlası kaçtır?
C) Havin 17 yaşındadır. Havin'in yaşının 4 fazlasının 19 katı kaçtır?

9. Bilyelerinin toplamı 143 olan dört arkadaşın; Enes'in 24, Ömer'in 36, Yiğit 'in 48 bilyesi vardır. **Muhammed Ali' nin kaç bilyesi vardır?**

- A) 35 B) 29 C) 30

10. Bir ağılda 40 koyun, koyunların $\frac{1}{4}$ ' i kadar keçi var. Bu ağılda toplam kaç hayvan vardır?

- A) 30 B) 40 C) 50

11.

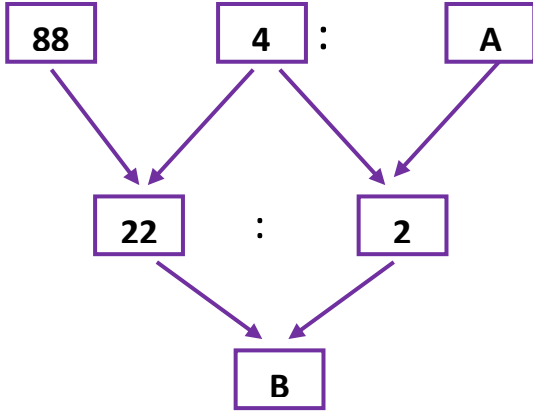
X	6	8	9
7		K	
5			R
4		S	

Tabloda verilen sayıların çarpımına göre hangisi **yanlıştır**?

- A) $K = 56$
B) $R = 45$
C) $S = 36$

12. “ 20, 40, 60, 80, 100 ...” örüntüsünün devamına aşağıdaki işlemlerden hangisinin sonucu gelir?

- A) 12×10
- B) 11×10
- C) 10×10



13. Yukarıdaki grafiğe göre $A + B$ kaçtır?

- A) 12
- B) 13
- C) 14

14. Akşam 23:30' da uyuyup, sabah 08:15' te uyanan Kevser kaç saat kaç dakika uyumuştur?

- A) 8 saat 30 dk
- B) 8 saat 45 dk
- C) 7 saat 45 dk

15.

$$8 \times 5 = 40$$

Yukarıdaki çarpma işleminde 1. çarpanı

1 arttırdığımızda yeni çarpım nasıl değişir?

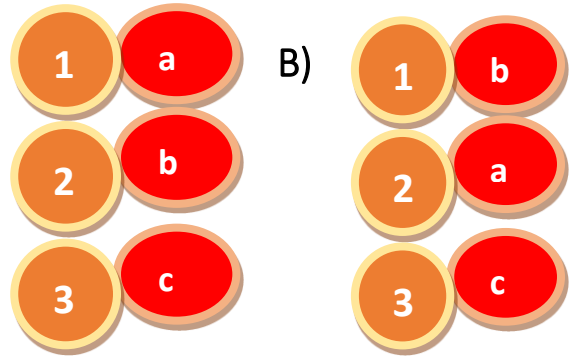
- A) 5 azalır.
- B) 8 artar.
- C) 5 artar.

16.




Yukarıda rakamlarla gösterilen toplama işlemleri ile harflerle gösterilen tahmini sonuçlar eşleştirildiğinde hangi sonuca ulaşılır?

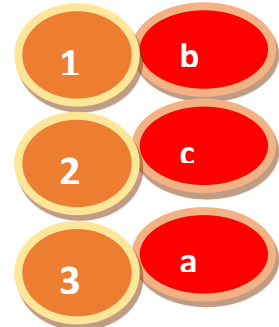
A)



B)



C)



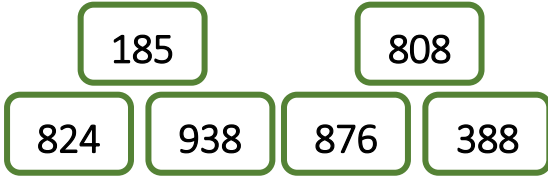
17. Aşağıdaki bilgilerden hangisi yanlıştır?

- A) İki çift sayının toplamı çifttir.
- B) İki tek sayının toplamı tektir.
- C) Bir çift bir tek sayının toplamı tektir.

18. Aşağıda Romen rakamlarıyla yapılan işlemlerden hangisinin sonucu yanlıştır?

- A) $XX - VI = XVI$
- B) $XIX - V = XIV$
- C) $XII + VI = XVIII$

19.



Yukarıdaki sayıların kaç tanesinde basamak değeri 800 olan rakam vardır?

- A) 3
- B) 4
- C) 5

20. Bir sınıftaki öğrenciler üçerli sıra olduklarında, 12 sıra oluşturuyor ve 2 öğrenci artıyor. Bu sınıfta kaç öğrenci vardır?

- A) 40
- B) 38
- C) 36

1. Aşağıdaki bilim insanlarından hangisi gemisiyle Dünya'nın etrafını dolaşarak Dünya'nın şeklini ispat etmeye çalışmıştır?

- A) El Biruni
- B) Magellan
- C) Galileo

2. Dünya'mızın şekli aşağıdaki geometrik cisimlerden hangisine benzerdir?

- A) Silindir
- B) Çember
- C) Küre

3. Canlıların üzerinde yaşadığı Dünya katmanı aşağıdakilerden hangisidir?

- A) Dış çekirdek
- B) Manto
- C) İç çekirdek

4. Aşağıdakilerden hangisi Dünya'mızın yüzeyindeki kıtalardan birisinin ismi değildir?

- A) Asya
- B) Atlas
- C) Avrupa

5. Hangi seçenekte yer alan bilgi farklı bir duyu organının sağlığını korumak için gereklidir?

- A) Müzik dinlemek için başkasına ait kulaklığı kullanmamalıyız.
- B) Çok sıcak, soğuk, acı yiyecekler tüketmemeliyiz.
- C) Ani ve şiddetli seslerde ağızımızı açmalıyız.

6. Vücudumuzda en fazla yüzeye sahip duyu organımız hangisidir?

- A) Göz
- B) Kulak
- C) Deri

7. Aşağıdakilerden hangisinin yaptığı hareket hızlanma hareketidir?

- A) Paraşüt ile atlama
- B) Şelale
- C) Uçağın piste inmesi

8. Aşağıdaki hareketlerin hangisinde dönme hareketi vardır?

- A) Yere düşen elma
- B) Otomobil direksiyonu
- C) Yukarıya atılan top

9. Sapanla taş atarken hangi hareketler sırasıyla gerçekleştirilir?

- A) Çekme-çekme
- B) İtme-çekme
- C) Çekme-itme

10. Aşağıdaki öğrenci ifadelerinden hangisi yanlıştır?

- A) Eyüp: Kuvvet duran bütün cisimleri hareket ettirir.
- B) Zerya: Kuvvet cisimlerin hareket yönünü değiştirebilir
- C) Metin: Hareketli bir cisme kuvvet uygularsak cisim durur.

11. Annem mor menekşeleri balkona, beyaz menekşeleri ise mutfağa koydu.

Derin'in annesi menekşeleri hangi özelliğine göre düzenlemiştir?

- A) Esneklik
- B) Renk
- C) Koku

12. Aldığımız ürünlerin üzerindeki uyarı işaretlerinin anlamını bilmenin önemi hangi seçenekteki verilmemiştir?

- A) Sağlığımızı korumak için önemlidir.
- B) Yapılan işin çabuk bitmesini sağlar.
- C) Kazaları, yaralanmaları ve zehirlenmeleri önler.

13. Bir maden suyu açıldığında içinden küçük baloncuklar çıkar. Bu baloncuklar maddenin hangi halidir?

- A) A) Katı
- B) Sıvı
- C) Gaz

14. Aşağıdaki ifadelerden hangisi yanlıştır?

- A) Ocaкта pişen yemek sıcak olduğu için zarar vermez.
- B) Kokusu olan maddeleri kullanırken pencereleri açmalıyız.
- C) Sigara dumanının bulunduğu ortamlar vücudumuza zararlıdır.

15. Tuz Nişasta Şeker

İrem, yukarıda verilen üç ayrı maddeyi nasıl ayırt eder?

- A) Rengine bakarak
- B) Kokusuna bakarak
- C) Tadına bakarak

16. Aşağıdakilerden hangisi ışık kaynağı değildir?

- A) Ay
- B) Güneş
- C) El feneri

17. Aşağıdaki ifadelerden hangisi yanlıştır?

- A) Her ses kaynağı doğal ses çıkarır.
- B) Bazı sesler bizi rahatsız eder.
- C) Ses, ses kaynakları tarafından üretilir.

18. Yapay çevre ile ilgili verilen bilgilerden hangisi yanlıştır?

- A) İnsanlar, ihtiyaçları için oluşturmuşlardır.
- B) Yapay çevrede bitki ve hayvanlar yaşayamaz.
- C) Evler, barajlar ve köprüler yapay çevreye örnektir.

19. Balık: Yapay bir çevrede yaşıyorum.

Yukarıda verilen balık aşağıdaki çevrelerden hangisinde yaşamaktadır?

- A) Deniz
- B) Akvaryum
- C) Göl

20. Enerji tasarrufu için aşağıdakilerden hangisini yapmak doğru bir davranıştır?

- A) Buzdolabının kapısını uzun süre açık tutmak.
- B) Aynı işi yapan düşük enerji harcayan aletleri tercih etmek.
- C) Bulaşık makinesini tam doldurmadan çalıştırmak.

1. Mahir o gün okula gelmeyen arkadaşı Nurten'in hasta olduğunu öğrenince onu ziyarete gitti.

Buna göre, Nurten'e hangisini söylemelidir?

- A) Başın sağ olsun.
- B) Geçmiş olsun.
- C) Çok yaşa.

2. "Babam balıkçıdır. Geceleri sık sık balık avlamaya çıkar. Yönünü bulmak için de Kutup Yıldızı'ndan yararlanır."

Buna göre, Asel'in babası yüzünü Kutup Yıldızı'na dönerse sol kolu hangi yönü gösterir?

- A) Batıyı
- B) Güneyi
- C) Doğuyu

3. Evdeki kazaları önlemek için aşağıdakilerden hangisini yapmalıyım?

- A) Muslukları açık bırakmalıyım.
- B) Lambaları açık bırakmalıyım.
- C) Eşyaları yerine kaldırmalıyım.

4. Deprem anında aşağıda bulunanlardan hangisi daha güvenlidir?

- A) Merdiven
- B) Üst geçit
- C) Boş arazi

5. Üçüncü sınıfa başlayacak olan Eyüp kumbarasında biriktirdiği paralarla öncelikle aşağıdakilerden hangisini alırsa parasını doğru kullanmış olur?

- A) Çanta
- B) Bisiklet
- C) Tablet

6. **Amine:** Dişlerimi fırçalarken musluğu açık bırakırım.

Yusuf: Bozuk paralarımı hemen harcarım.

Nazlı: Alışverişten sonra fiş ya da fatura alırım.

Yukarıdaki öğrencilerden hangisi doğru bir davranış sergilemiştir?

- A) Nazlı B) Yusuf C) Amine

7. Evde kardeşi ile yalnız kalan Eymen, odasında oynayan kardeşinin birden bayıldığını gördü.

Bu durumda Eymen, aşağıdaki telefonlardan hangisini aramalıdır?

- A) 110 B) 112 C) 156

8. Aşağıdaki atasözlerinden hangisi tasarrufla ilgili **değildir**?

- A) Güvenme varlığa, düşersin darlığa.
B) Tatlı dil, yılanı deliğinden çıkarır.
C) İşten artmaz, dışten artar.

9. Arkadaşlarından olumsuz bir eleştiri alan Özlem, hangisini **yapmalıdır**?

- A) Kendini eleştirenleri o da eleştirmelidir.
B) Eleştirileri önemsemelidir.
C) Kendini eleştirenlere küsmelidir.

10. Aşağıdakilerden hangisi ailemizle birlikte kutladığımız özel günlerden **değildir**?

- A) Öğretmenler Günü
B) Doğum günü
C) Ramazan Bayramı

11. Aşağıdakilerden hangisi bir yönüyle diğerlerinden **farklıdır**?

- A) Kurban Bayramı
B) Cumhuriyet Bayramı
C) Ramazan Bayramı

12. Daha güzel bir dünya oluşturmak için üzerimize düşen görevler arasında yoktur?

- A) Ormanları tahrip etmek.
- B) Atmosferi korumak.
- C) Doğal kaynakları bilinçli kullanmak.

13. Taşıtlarda seyahat ederken ne takmalıyız?

- A) Şapka
- B) Gözlük
- C) Emniyet kemeri

14. Babasının çocukluğunu merak eden Osman, aile bireylerinden kimden yardım alabilir?

- A) Ablası
- B) Kardeşi
- C) Dedesi

15.

1. Seçme ve seçilme hakkını kullanmak.
2. Vergi vermek.
3. Kanun ve kurallara uymak.

Verilenden hangileri ülkemize karşı sorumluluklarımızdandır?

- A) 1 ve 2
- B) 2 ve 3
- C) 1,2 ve 3

16. Şehrin temizliğinden kim sorumludur?

- A) Vali
- B) Belediye
- C) Kaymakam

17. Aşağıdaki davranışlardan hangisi çevremizdeki insanlardan olumsuz tepkiler almamıza sebep olur?

- A) Okul sıralarını temiz kullanmak.
- B) Stadyum ve stadyum eşyalarına zarar vermemek.
- C) Oturduğumuz otobüs koltuğuna ismimizi kazımak.

18. Cumhuriyet kaç tarihinde ilan edilmiştir?

- A) 29 Ekim 1923
- B) 29 Ekim 1920
- C) 29 Ekim 1921

19. Aşağıdakilerden hangisi seçimle başa geçer?

- A) Vali
- B) Muhtar
- C) Kaymakam

20. Yaşadığımızı yeri büyükten küçüğe doğru sıralarsak aşağıdakilerden hangisi doğru olur?

- A) İl-ilçe-mahalle
- B) İlçe-il-mahalle
- C) İl-mahalle-ilçe

PEOPLE I LOVE

A. Write the words under the pictures. (resimlerin altına kelimeleri yazalım.)

slow

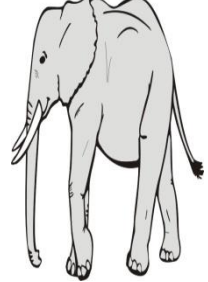


old

strong

big

fat

tall



.....

B. Put the words into the correct order. (Kelimeleri doğru sıraya koyalım.)

1) is / old / she . **She is old.**

2) small / it / is

3) not / is / it / big.

4) he / weak / is

5) thin / he / is.

6) he / short / is.

7) it / not / fast / is.

8) slow / is / it.

C. Make sentences with I can / I can't (Cümleler yapalım.)



1) climb a tree.

4) dive.

2)ride a bike.

5) drive a car.

3) study English.

6) jump high.

D. Write sentences according to the pictures. (Resimlere göre cümleler yazalım.)



1. She is thin.
She is not fat.



2.
.....



3.
.....



4.
.....

Test Time

1. Resimdeki kişiler için hangi sıfatlar kullanılabilir?

- A) Small – Big
- B) Fat – Thin
- C) Young - Old



2. Aşağıdaki sıfatlardan hangisinin zıtları yanlış verilmiştir?

- A) Tall X Long
- B) Cold X Hot
- C) Fat X Thin

3. A: Are you weak?

B: No, _____

Yukarıdaki soruyu en uygun tamamlayan seçeneği işaretleyin.

- A) I am
- B) I am not
- C) I can't



4. "She can play volleyball ___ she can't play tennis."

Cümlesindeki boşluğu en uygun şekilde tamamlayan seçenek aşağıdakilerden hangisidir?

- A) but
- B) and
- C) not

5. Resme göre hangi sıfat kullanılabilir?

- D) Small – Big
- E) Tall – Short
- F) Fast - Slow



6. Yandaki resimler için sırasıyla hangi sıfatların kullanılması uygundur?

- A) Small – Old – Big
- B) Big – Fat – Fast
- C) Strong – Thin – Fast

CEVAP ANAHTARI

TÜRKÇE TESTİ

1	2	3	4	5	6	7	8	9	10	11	12	13	14	15	16	17	18	19	20
C	B	A	B	C	C	A	C	B	C	C	A	C	A	C	B	B	C	B	A

MATEMATİK TESTİ

1	2	3	4	5	6	7	8	9	10	11	12	13	14	15	16	17	18	19	20
B	B	A	B	C	B	C	C	A	C	C	A	B	B	C	B	B	A	A	B

FEN BİLİMLERİ TESTİ

1	2	3	4	5	6	7	8	9	10	11	12	13	14	15	16	17	18	19	20
B	C	A	B	B	C	B	B	C	A	B	B	C	A	C	A	A	B	B	B

HAYAT BİLGİSİ TESTİ

1	2	3	4	5	6	7	8	9	10	11	12	13	14	15	16	17	18	19	20
B	A	C	C	A	A	B	B	B	A	B	A	C	C	C	B	C	A	B	A

İNGİLİZCE TESTİ

ANSWER KEY (CEVAP ANAHTARI)

A. Write the words under the pictures. (resimlerin altına kelimeleri yazalım.)

Fat strong old tall slow big

B. Put the words into the correct order. (Kelimeleri doğru sıraya koyalım.)

1) She is old.

2) It is small.

3) It is not big.

4) He is weak.

5) He is thin.

6) He is short.

7) It is not fast.

8) It is slow.

C. Make sentences with I can / I can't (Cümleler yapalım.)

1) I can climb a tree.

2) I can ride a bike.

3) I can study English.

4) I can't dive.

5) I can't drive a car.

6) I can't jump high

D. Write sentences according to the pictures. (Resimlere göre cümleler yazalım.)

1. She is thin.

She is not fat.

3. He is young.

He is not old.

2. It is big.

It is not small.

4. He is old.

He is not young.

Test Time

1	2	3	4	5	6
B	A	B	A	C	C

Çalışmada Emegi Geçen Öğretmenlerimiz

Bilge YILMAZ

Özgür ÖNER

Seda AYDINLI

Nevzat YILMAZ

Lokman İLİK

*Bu çalışma Sirt İl Millî Eğitim Müdürlüğü
Ölçme Değerlendirme Merkezi tarafından hazırlanmıştır.*