

2. Sınıf

Haftalık Ödev

31 MAYIS- 4 HAZİRAN



SIİRT
İL MİLLÎ EĞİTİM MÜDÜRLÜĞÜ

[www.
siirt.meb.gov.tr](http://www.siirt.meb.gov.tr)



/siirtmem

Azra, bahçeyi suladıktan sonra havuzun kenarına oturdu ve havuzu seyretmeye başladı.

Havuzdaki su ne kadar güzeldi. Eğildiğinde kendi yüzünü görebiliyordu. Suya bakarken susuzluğun nasıl bir şey olacağını düşündü. Sabah kalkar kalkmaz bol suyla yüzünü yıkıyordu. Dişlerini fırçalarken bazen çeşmeyi açık bırakıyordu. Ya bir gün kalktığımda sular akmazsa? İçinden “ Bundan sonra suyu daha dikkatli kullanmalıyım. Suyu boşa akıtmamalıyım.” dedi.

İlk 3 soruyu metne göre cevaplayınız.

1. Yukarıdaki metnin konusu aşağıdakilerden hangisidir?

- A) Havuz suyunu kirletmemek
- B) Suyu tasarruflu kullanmak
- C) Azra'nın dişlerini fırçalaması

2. Metinde aşağıdakilerden hangisinden söz edilmemiştir?

- A) Su ile kişisel bakımımızı yaptığımızdan
- B) Su ile bahçe sulaması yapıldığından
- C) Bitkilerin de suya ihtiyacı olduğundan

3. Metinde anlatılmak istenen ana düşünce aşağıdakilerden hangisidir?

- A) Sabahları kalkar kalkmaz kişisel bakımımızı yapmalıyız.
- B) Bahçelerimizi yeterince sulamalıyız.
- C) Su tükenebilen kaynaklarımızdan olduğu için suyu boşa yere kullanmamalıyız.

4. Bir soğuk kış günüydü. Dondurucu bir soğuk vardı. Baloncu çocuk, incecik titrek sesiyle “balon var, balon!” diye bağırmasına rağmen kimseye sesini duyuramıyordu.

Yukarıdaki metinde hangi hikâye unsuruna **yer verilmemiştir**?

- A) Yer
- B) Kişi
- C) Zaman

5. “İhtiyar adam çorabını dışarı astı.” Cümlesinde hangi **kelimenin hem eş hem de zıt anlamlısı** vardır?

- A) Dışarı
- B) İhtiyar
- C) Astı

Aslı, her gece uyumadan önce kitap okur.

6. Yukarıdaki cümlede aşağıdaki soruların hangisinin cevabı **yoktur**?

- A) Nerede?
- B) Kim?
- C) Ne zaman?

- 1-Etrafı merak ediyordu.
- 2-Oraya doğru koştu.
- 3-Minik kedi yuvasından çıktı.
- 4-Ağaçların arasından gelen sesi duydu.

7. Yukarıda karışık verilen olayların doğru sıralanışı aşağıdakilerden hangisidir?

- A) 4-3-2-1
- B) 3-1-4-2
- C) 1-4-3-2

8. Aşağıdaki cümlelerin hangisi neden – sonuç cümlesi **değildir**?

- A) Fırın kapandığı için ekmek alamadım.
- B) Size gelemedim çünkü misafirimiz geldi.
- C) Olaylar karşısında herkesten daha cesurdu.

- 1-katkıda
- 2-tasarruflu
- 3-bütçemize
- 4-bulunuruz
- 5-suyu
- 6-kullanarak

9. Yukarıdaki kelimelerle anlamlı ve kurallı bir cümle oluşturulduğunda sıralama aşağıdakilerden hangisi olmalıdır?

- A) 5-4-2-3-1-6
- B) 5-2-6-3-1-4
- C) 4-3-1-5-2-6


10. “Kendine yapılan iyiliğe kötülükle karşılık vermek.” Anlamına gelen atasözü aşağıdakilerden hangisidir?

- A) Dikensiz gül olmaz.
- B) İşleyen demir pas tutmaz.
- C) Besle kargayı oysun gözünü.



11. Yukarıda yazılan sözcüklerden kaç tanesi **yanlış** yazılmıştır?

- A) 4
- B) 5
- C) 6



12. Yukarıdaki resmi verilen kelime çifti arasındaki anlam ilişkisi aşağıdakilerden hangisinde vardır?

- A) borç – alacak
- B) ödül – ceza
- C) vatan – yurt

△=kuş ○=horoz □=kelebek

☆=fil

13. Sembollerle verilen sözcüklerin, sözlük sıralaması aşağıdakilerden hangisinde doğru verilmiştir?

A) ☆ ○ □ △

B) ○ ☆ △ □

C) ☆ □ ○ △

Beni dünyaya getirdin.
Sütün ile besledin.
Benim için uykusuz,
Ne geceler geçirdin.

Bin bir emek, zahmetle,
Bugünlere getirdin.
Eşi yoktur sevginin,
Her şeyimsin sen benim.

14. Yukarıdaki şiirin ana duygusu aşağıdakilerden hangisidir?

- A) Aile sevgisi
B) Anne sevgisi
C) Yaşam sevgisi

1. Kırmızı ışık

2. Kare kutu

3. Yel değirmeni

15. Yukarıda verilenlerden hangisinde varlığın özelliğini belirten kelime kullanılmamıştır?

- A) 1 B) 2 C) 3

16. "Babam gazete ekmek ve peynir aldı." cümlesinde virgül hangi görselin adından sonra konmalıdır?



Satır sonuna sığmayan sözcükler hecelendiği gibi bölünür.

17. Aşağıdakilerden hangisinde bu kurala uyulmamıştır?

- A) Hür-riyet B) Ata-türk C) bilgis-ayar

18. “Kemal gibi öğrenciler oldukça bu okul daima başarılı olacaktır.”

Cümlesinde okulun başarılı olduğunu anlatmak için hangi örneğe başvurulmuştur?

- A) Öğrencilerin ödevlerini yapması
- B) Kemal’in başarılı olmasına
- C) Diğer okullardaki öğrencilerin başarısız olmasına

Özel adlara eklenen unvan, takma ad, rütbe, meslek adları büyük harfle başlar.



19. Aşağıdakilerden hangisi Berat’ın açıklamasına göre yanlıştır?

- A) Aslı Hanım yemek yapıyordu.
- B) Murat bey okula gidiyordu.
- C) Mehmet Usta çok yoruldu.

20. “ Teyzelerimin tayini manisaya çıktı.” Cümlesindeki yazım yanlışı nasıl giderilmelidir?

- A) Cümlelerin sonundaki noktayı silip iki nokta yaparak
- B) “manisaya” sözcüğünü “Manisa’ya” şeklinde yazarak
- C) Teyzelerim derken “lerin” den önce kesme işareti kullanarak

Cevap Anahtarı

1-B

2-C

3-C

4-A

5-B

6-A

7-B

8-C

9-B

10-C

11-A

12-B

13-A

14-A

15-C

16-B

17-C

18-B

19-B

20-B

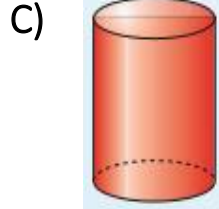
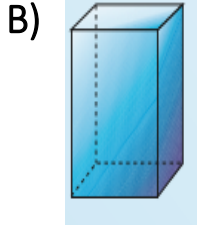
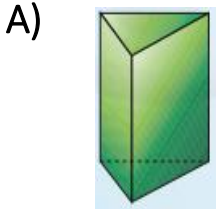
1. 47 sayısından önce ve sonra gelen sayıların toplamı kaçtır?

- A) 94 B) 93 C) 95

2. “..... tane 3, 21 eder.” Cümlesinin doğru olabilmesi için noktalı yere hangi sayı gelmelidir?

- A) 6 B) 7 C) 5

3. Yandaki dairesel bölgeyi, aşağıdakilerden hangisinin bir yüzünü kullanarak elde edebiliriz?



4. Aşağıdaki doğal sayılardan hangisi 68 sayısından sonra gelir?

- A) 6 onluk, 8 birlik
B) 9 birlik, 6 onluk
C) 6 birlik, 9 onluk

5. Elif 8 yaşındadır. Kaç yıl sonra Elif 24 yaşında olur?

- A) 32 B) 16 C) 14

6. $17 + 3 = \square + 17$

Yukarıda belirtilen eşitlikte “ \square ” yerine hangi sayı gelmelidir?

- A) 3 B) 17 C) 20

7. Bir çıkarma işleminde eksilen 67, fark 38’dir. Bu işlemde çıkan kaçtır?

- A) 39 B) 29 C) 31

8. Adar, her birinde 7’şer kurabiye olan paketlerden 4 paket aldı. Paketlerin tamamını bir tabağa boşalttığında tabakta kaç kurabiye olur?

- A) 27 B) 11 C) 28

18. Mert 1 metre 26 santimetre, Gamze 1 metre 17 santimetre uzunluğundadır. Mert, Gamze'den ne kadar uzundur?



- A) 26 cm B) 1 m 9cm C) 9 cm

İçecek Adı	Kişi Sayısı
Süt	
Portakal suyu	/
Kayısı suyu	/
Şeftali suyu	

Tablo: Aşağıda bir pansiyonda kalan tüm müşterilerin sevdikleri içeceklerin grafiği verilmiştir.

Not: 19 ve 20 soruları tabloya göre cevaplayınız.

19. Tabloya göre meyve suları sevenlerin toplamı, süt sevenlerden kaç fazladır?

- A) 8 B) 26 C) 10

20. Tabloya göre aşağıdakilerden hangisi söylenemez?

- A) En sevilen içecek süttür.
B) Pansiyonda 44 müşteri kalmaktadır.
C) Şeftali suyu sevenler, portakal suyu sevenlerden 2 fazladır.

CEVAP ANAHTARI

1. A
2. B
3. C
4. B
5. B
6. A
7. B
8. C
9. A
10. C
11. C
12. B
13. B
14. A
15. B
16. C
17. A
18. C
19. A
20. C



Merhaba ben Miray.
Masal ve müzik
dinlemekten çok
hoşlanırım.

1. Miray hangi özelliklerinden söz etmektedir?

- A) Fiziksel özelliklerinden
- B) Duygusal farklılıklardan
- C) Bireysel farklılıklarından

2. Aşağıdakilerden hangisini temel ihtiyaçlarımızdan **değildir**?

- A) Beslenmek
- B) Giyinmek
- C) Okula gitmek

1- Bize lazım olan kadar meyve almalıyız.

2- Önce isteklerimizi sonra ihtiyaçlarımızı almalıyız

3. Kaynakları tutumlu kullanan biri yukarıdakilerden hangisini veya hangilerini yapar?

- A) Yalnız 1
- B) Yalnız 2
- C) 1 ve 2

- 1) Kurtalan İlçesi
- 2) Barış Caddesi
- 3) Siirt ili
- 4) Fırat Mahallesi

4. Can evinin adresini yazarken yukarıdakilerden hangisini **önce yazmalıdır**?

- A) 1 B) 4 C) 3

- 1-Poşeti verir misin?
- 2-Televizyonu hemen kapat!
- 3-Öğretmenim, çıkabilir miyim?
- 4-Biraz hızlı ol!

5. Yukarıdaki cümlelerden hangisi nezaket ifadelerine **uygun söylenmiştir**?

- A) 1 - 4 B) 2 - 3 C) 1- 3

6. "**Dengeli ve düzenli beslenme**" konusunu anlatan öğretmenimiz aşağıdakilerden hangisini söylemiş **olamaz**?

- A) Günde üç öğün yemek yemeliyiz
- B) Her besinden ihtiyacımız kadarını yemeliyiz
- C) Her öğünde istediğimiz şeyleri yemek



Annemin erkek kardeşine

derim



Babamın kız kardeşine
diyorum.

7. Yukarıdaki çocukların söylediği cümlelerde eksik bırakılan yerlere sırası ile hangi sözcükler gelmelidir?



- A) amca teyze
B) dayı hala
C) dayı teyze

-Spor yapmak

-Erken yatıp geç uyanmak

-Kişisel bakımımıza önem göstermek

-Tüm gıdalardan ihtiyacımız olan kadarını almaya çalışmak

8. Sağlıklı büyüyüp gelişmek için yukarıdakilerden kaç tanesini yapmamız gerekir?

- A) 4 B) 3 C) 2

9. Sağlığımızla ilgili bir sorun yaşadığımızda ilk olarak nereye gideriz?

- A) Aşevine B) Eczaneye C) Aile Hekimine

10. Aşağıdaki davranışlardan hangisi yanlıştır?

A) Duran aracın önünden ya da arkasından geçebiliriz.

B) Yürürken yolun sağından yürümeliyiz.

C) Taşıtlara sağdan binip sağdan inmeliyiz.

Handan Pazar günü okul tatil diyerek. Gün boyunca film izledi

11. Handan bu davranışı ile ilgili olarak aşağıdakilerden hangisine dikkat etmemiştir?

A) Teknolojik araçları amacına uygun olarak kullanmalıyız.

B) Tatil olduğu için istediğimiz kadar film izleyebiliriz.

C) Teknolojik araçları kullanırken güvenliğimize dikkat etmeliyiz

12. Ülkemizin etrafında aşağıdaki denizlerden hangisi bulunmaz?

A) Marmara Denizi

B) Ege Denizi

C) Van Denizi



Kültür: Geçmişten günümüze kadar gelen değerlerimizdir

13. Aşağıdakilerden hangisi kültürümüzü oluşturan bir unsur değildir?

A) Bayramlarımız

B) Halayımız

C) Doğamız

1- Çevre ağaçlandırılmalıdır.

2- Barajlar yapılmalıdır.

3- Dere kenarlarına evler yapılmalıdır.

4-Hava durumu takip edilmelidir

14. Selden korunmak için yukarıdakilerden kaç tanesi yapılmalıdır?

A) 4 B) 3 C) 2

15. Aşağıdakilerden hangisi insanların çevreye verdiği zararlardandır?

A) Eskilerinizi atmak yerine değerlendirerek yeni şeyler üretmek.

B) Fabrika atıklarını nehirlere dökmek

C) Camdan yapılmış eşyaları geri dönüşüm kutusuna atmak

16. Fidan ekmek için aşağıdakilerden hangisi gerekli değildir?

A) Toprak B) Su C) Kum

- 1 yılda 4 mevsim vardır.
- 1 yılda 12 ay vardır.
- 1 yılda 52 hafta vardır.
- 1 yılda 365 gün vardır.

17. Yukarıda verilen bilgilerden kaç tanesi doğrudur?

A) 4 B) 3 C) 2

• Sınıfımızı ve okulumuzu bayraklarla süsleriz.

• Tören yapıp şiirler okuruz.

18. Yukarıda verilen bilgiler aşağıdaki bayramların hangisine ait olabilir?

A) Kurban Bayramı

B) Ulusal Egemenlik ve Çocuk Bayramı

C) Ramazan Bayramı

19. Aşağıdakilerden hangisi doğal afet değildir?

A) Deprem B) Sel C) Savaş

20) Kar yağışının fazla olduğu dağlık bölgelerde aşağıdaki doğal afetlerden en çok hangisi gerçekleşebilir?

A) Heyelan B) Çığ C) Deprem

Cevap Anahtarı

1-B

2-C

3-A

4-B

5-C

6-C

7-B

8-B

9-C

10-A

11-A

12-C

13-C

14-B

15-B

16-C

17-B

18-B

19-C

20-B

1. Look at the pictures and write the sentences under the pictures. (Resimlere bakalım ve cümleleri resimlerin altına yazalım.)

Let's swing

Let's dance

Let's slide

Let's sing

Let's skip a rope

Let's ride a bike



.....

2. Put the words into the correct order. (Kelimeleri doğru sıraya koyalım.)

1- sing / I / a / song.

.....

2- play / football / I.

.....

3- I / a / bike / ride.

.....

4- play / I / seek / a / hide / and.

.....

3. Answer the questions with "Yes, I do. / No, I don't." (Soruları "Yes, I do. / No, I don't." ile cevaplayalım.)



1. Do you skip a rope?

.....



2. Do you play basketball?

.....



3. Do you slide?

.....



4. Do you swing?

.....



5. Do you play hide and seek?

.....



6. Do you jump?

.....



Answer Key (Cevap Anahtarı)

1. Look at the pictures and write the sentences under the pictures. (Resimlere bakalım ve cümleleri resimlerin altına yazalım.)



Let's slide



Let's sing



Let's dance



Let's ride a bike



let's skip a rope



Let's dance

2. Put the words into the correct order. (Kelimeleri doğru sıraya koyalım.)

1- I sing a song.

2- I play football.

3- I ride a bike.

4- I play hide and seek.

3. Answer the questions with "Yes, I do. / No, I don't." (Soruları "Yes, I do. / No, I don't." ile cevaplayalım.)

1. Yes, I do.

2. Yes, I do.

3. Yes, I do.

4. No, I don't.

5. No, I don't.

6. No, I don't.

ÇALIŞMADA EMEĞİ GEÇEN ÖĞRETMENLERİMİZ

Abdurrahman CELAN

Mehmet EKİNCİ

Seda AYDINLI

Ekrem AYBEK

Kasım AYDIN

Bu çalışma Siirt Milli Eğitim Müdürlüğü öğretmenleri tarafından hazırlanmıştır. Emeklerinden dolayı teşekkür ederiz.