

4. Sınıf

Haftalık Ödev

07-11 HAZİRAN



SIİRT
İL MİLLÎ EĞİTİM MÜDÜRLÜĞÜ

[www.
siirt.meb.gov.tr](http://www.siirt.meb.gov.tr)



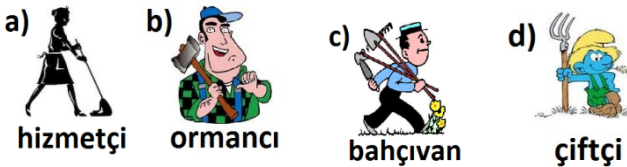
/siirtmem

YÜRÜYEN KÖŞK

Atatürk bir gün Yalova'daki yazlık köşküne gider. Köşkün yanında bulunan ulu çınar ağacının dallarını kesmeye çalışan bahçıvanı görür ve derhal müdahale ederek, ağacın dallarını neden kestğini sorar. Bahçıvanın, ağacın dallarının uzayıp, köşkün duvarına dayandığını ve köşke zarar vereceğini, bu yüzden kesmek istediğini söylemesi üzerine Atatürk, herkesi şaşırtan ve hayrete düşüren bir emir verir. Buna göre, ağacın dalları kesilmeyecek bina kaydırılacaktır. Görev, İstanbul Belediyesi Fen İşleri Yollar-Köprüler Şubesi'ne verilir. Köşkün temeline kadar toprak kazılarak, bina İstanbul'dan getirilen tramvay raylarının üzerine oturtulur ve raylar üzerinde kaydırılarak, çınar ağacından 4,80m uzaklaştırılır. Atatürk'ün çevreye verdiği önem ve doğa sevgisinin simgesi olan bu olay tüm insanlığa güzel bir örnek teşkil eder.

A) İlk 5 soruyu yukarıdaki metne göre cevaplayınız.

1. Atatürk, Yalova'daki köşke gittiğinde, ağacın dallarını kesmekte olan **kimmiş?**



2. Görevli ağacın dalları **neden kesiyormuş?**

- A) Kışlık odun ihtiyacını karşılamak için
B) Ağacın dalı köşke zarar verdiği için
C) Ağacın budanma zamanı geldiği için
D) Elektrik tellerine çarptığı için

3. Atatürk ağacın kesilmesi ile ilgili **hangi emri vermiştir?**

- A) Hemen ağacın dallarını kesin.
B) Ağacı biraz ileriye kaydırın.
C) Köşkü biraz ileriye kaydırın.
D) Ağacı kökünden kesin.

4. Metnin **konusu** aşağıdakilerden hangisidir?

- A) Atatürk İlkeleri
B) Atatürk'ün kitap sevgisi
C) Atatürk İnkılâpları
D) Atatürk'ün doğa sevgisi

5. Yukarıdaki metnin **ana fikri** aşağıdakilerden hangisidir?

- A) Yaşlılara yardım etmeliyiz.
B) Katı atıkları geri dönüşüm kutusuna atmalıyız.
C) İnsanlara saygılı olmalıyız.
D) Ağaçları ve doğayı her zaman korumalıyız.

6. "**kırılmak**" sözcüğü aşağıdaki seçeneklerin hangisinde mecaz anlamda kullanılmıştır?

- A) Vazo yere düşünce **kırıldı**.
B) Leyla'nın bu sözlerine karşı kalbim **kırıldı**.
C) Yeni aldığım gözlük **kırıldı**.
D) Taş çarptığı için arabanın camı **kırıldı**.

7. **Aşağıdaki cümlelerin hangisinde öznel bir anlatım vardır?**

- A) Oturduğumuz apartman 4 katlıdır.
B) Liseyi Balıkesir'de okudum.
C) Ayda bir doktor kontrolüne gidiyorum.
D) Bilgisayar oyunları çok eğlencelidir.

8. Aşağıdaki cümlelerden hangisi nesnel bir yargıdır?

- A) Meltem'e pembe ayakkabı çok yakışıyor.
- B) Kuşlar kanatları olmadan uçamaz.
- C) Ne kadar güzel bir park!
- D) Dedem şapka giyince daha genç görünüyor.

9. Aşağıdaki seçeneklerin hangisinde neden-sonuç ilişkisi yoktur?

- A) Kar yağışı yüzünden sınav iptal edilmiş.
- B) Cam, rüzgârdan dolayı kırılmış.
- C) Kolay olan sınavdan düşük not almış.
- D) Dondurma yediğinden dolayı boğazı şişmiş.

10. Aşağıdaki cümlelerin hangisinde mecazlı bir anlatım yoktur?

- A) Benimle yüzme yarışı yapmak yürek ister.
- B) Bahar gelince ağaçlar çiçek açar.
- C) Şampiyonun mutluluğu gözlerinden okunuyordu.
- D) Sevincinden ağzı kulaklarına varıyordu.

11. Aşağıdaki cümlelerden hangisi neden sonuç cümlesidir?

- A) Cezası nedeniyle sinemaya gelemiyor.
- B) Soğuk bir kış günü yola çıktı.
- C) Güneş, gülen yüzünü gösterdi.
- D) Elbiselerini özenle yerleştirdi dolabına.

12. Aşağıdakilerden hangisinde "göz" kelimesi farklı bir anlamda kullanılmıştır?

- A) Küçük çocuğun gözleri masmaviydi.
- B) Çekmecenin gözünü karıştırma.
- C) Gözüne bir cisim kaçmış.
- D) Doktor, gözü için bir damla vermiş.

13. "Toprak" kelimesiyle ilgili verilen bilgilerden hangisi yanlıştır?

- A) İki heceden oluşmuştur.
- B) Her iki hecesi de bir ünsüz, bir ünlü, bir ünsüzden oluşmuştur.
- C) Üç ünlüsü vardır.
- D) İkinci hecesi " – rak " tır.

14. " Güneş eve girer. " Atasözünü hangi seçenekteki kelimeler doğru olarak tamamlar?

- A) girmeyen – doktor
- B) batar – hastane
- C) çıkar – doktor
- D) doğan-hemşire

15. Aşağıdaki sözcükleri sözlük sırasına koyduğumuzda hangi sözcük sonda yer alır?

- A) Mont
- B) Moral
- C) Mola
- D) Mors

16. Aşağıdaki cümlelerden hangisinin yazımında yanlışlık yapılmıştır?

- A) Atatürk 1881 yılında Selanik'te doğdu.
- B) ak akçe kara gün içindir.
- C) Parayı veren düdüğü çalar.
- D) Küçük çocuk annesine çiçek aldı.

17. Cümlelerden hangisinde terim anlamlı kelime vardır?

- A) Bütün çiçekler güzeldir.
- B) Kar tüm yolları kapattı.
- C) Hayal et, yaz, çiz.
- D) Matematik dersinde üçgen çizdik.

18. “Kemalpaşa()daki yarışmaya İsmail() Arif() Murat geldi mi()”

Yukarıdaki cümlede, parantez olan yerlere sırasıyla hangi noktalama işaretleri gelmelidir?

- A) (.) (,) (,) (?) B) (-) (.) (.) (?)
C) (‘) (.) (,) (!) D) (‘) (,) (,) (?)

19. “Her şey bir hayalle başlar. Günümüzde kullandığımız birçok teknolojik ürün, yıllar önce sadece bir hayaldi. Şimdi bize hayal gelenler, gelecekte sıradan şeyler haline geleceklerdir.”

Paragrafta hangisine değinilmemiştir?

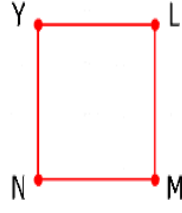
- A. Hayal etmenin önemine
B. Her hayalin bir gün gerçekleşebileceğine
C. Hayallerin bir sınırının olduğuna
D. Birçok teknolojik ürünün bir hayalle başladığına

20. “Bu kitabımda fakir insanların günlük sevinçlerine, kederlerine, hayallerine yer verdim. Orada, uzaklarda kimselerin görmediği insanlara değindim. Madalyonun arka yüzünü anlatmaya çalıştım.”

Paragrafta “Madalyonun arka yüzü” deyimi ile aşağıdakilerden hangisi anlatılmak istenmiştir?

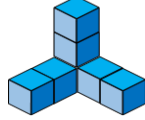
- A. Zengin insanların hayatlarının anlatıldığı
B. Görünen şeylerin bir de görünmeyen taraflarının anlatıldığı
C. Sıradan insanların hayatlarının anlatıldığı
D. Hayatın acı, üzüntülü yanlarının anlatıldığı

1. Şekildeki karenin kenarlarının isimlendirilmesi aşağıdakilerden hangisi olamaz



- A) NM B) ML
C) LY D) MY

2. Yandaki izometrik kâğıt üzerine çizilen yapı kaç küpten oluşmuştur?



- A) 7 B) 9 C) 10 D) 8

3. Aşağıdaki harflerden hangisinin simetri doğrusu yoktur?

- A) A B) E C) F D) Y

4. Aşağıdaki uzunluklardan en kısa olanı hangisidir?

- A) 200 cm B) 3000 mm C) 3m D) 1 km

5. Bir saatte 40 sayfa kitap okuyan Rümeyza, 120 sayfayı ne kadar sürede okur?

- A) 160dk B) 80dk
C) 200dk D) 180dk

6. Kitabımın önce $\frac{1}{8}$ 'ini, sonra $\frac{2}{8}$ 'ini okudum. Geriye kitabımın kaçta kaç kalır?

- A) $\frac{3}{8}$ B) $\frac{5}{8}$ C) $\frac{7}{8}$ D) $\frac{8}{8}$

7. Aşağıdakilerden hangisi mm ile ölçülür?



a) ağaç



b) kalem




c) kapı



d) Uğur böceği

8. Aşağıdaki dikdörtgen aşağıdaki seçeneklerden hangisi ile isimlendirilemez?



- A) ELMA B) ELAM
C) AELM D) MAEL

9. 4 metre kumaşın 230 cm'sini kullandım. Geriye kaç cm kumaş kalır?

- A) 130 cm B) 3770 cm
C) 630 cm D) 170 cm

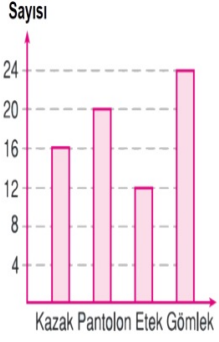
10. Bir  şoför 350 km' lik yolun $\frac{3}{7}$ ' ünü gidiyor. Geriye kaç km yolu kalmıştır ?

- A) 150 km B) 90km
C) 200 km D) 500



11. Yukarıdaki sayı doğrusunda K noktasına karşılık gelen kesir aşağıdakilerden hangisidir ?

- A) $\frac{5}{8}$ B) $\frac{2}{8}$ C) $\frac{4}{8}$ D) $\frac{8}{8}$



“Yandaki sütun grafiğinde, bir mağazada bir günde satılan ürünlerin sayısı gösterilmiştir.”

12. En çok satılan ürün ile en az satılan ürünün farkı kaçtır?

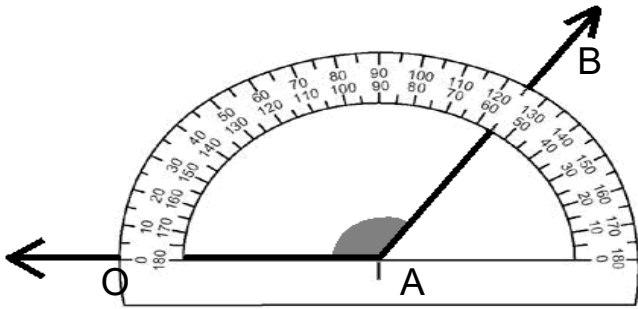
- A)15 B)12 C)20 D)36

13. Bir pantolonun satış fiyatı 30 TL ise, pantolon satışından ele geçen para kaç TL'dir?

- A)50 TL B)600TL
C)320TL D)72 TL

14. Öğretmen tahtaya kaldırdığı dört öğrenciye sormuş:

- Şekilde bir \hat{OAB} görüyorsunuz. Sembol kullanarak ölçüsünü gösteriniz. Hangi öğrenci soruyu doğru yapmıştır?

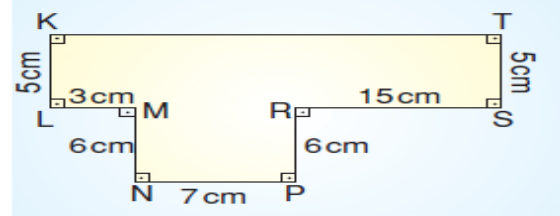
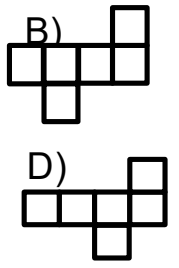
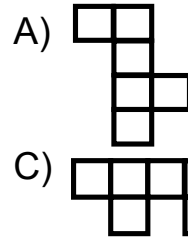


- A) Serra: $s(\hat{A}) = 65^\circ$
B) Vildan: $s(\hat{A}) = 125^\circ$
C) Evin: $s(\hat{A}) = 125^\circ$
D) Ozan: $s(\hat{A}) = 55$

15. Bir bölme işleminde bölüm 26 ,bölen 14 olduğuna göre bölünen sayı en çok kaçtır?

- A) 364 B) 378
C) 377 D) 365

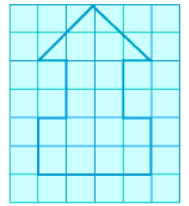
16. Aşağıdakilerden hangisi küpün açılımını değildir?



17. Yukarıdaki şeklin çevresi kaç cm'dir?

- A) 72 cm B) 47 cm C) 75cm D) 50cm

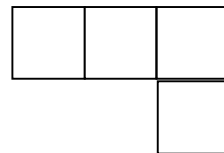
18. Yandaki şeklin çevresi kaç birimdir?



- A) 20 birim B) 30 birim
C) 16 birim D) 18 birim

19. Kare şeklindeki bahçemin bir kenar uzunluğu 85 m'dir. Bahçemin etrafını 3 sıra dikenli tel ile çevirdim. Kaç metre dikenli tel kullanmış oldum?

- A) 1260 B) 1020 C) 945 D) 340



20. Yukarıdaki şekil dört eş kareden oluşmuştur. Bir karenin çevresi 36 cm ise bu şeklin çevresi kaç cm'dir?

- A) 144 B) 117 C) 90 D) 99

1. Aşağıdakilerden hangisi basit devre elemanı değildir?

- A) Anahtar B) Pil
C) Priz D) Ampul

2. Aşağıdakilerden hangisini yaparsak elektriği tasarruflu kullanmış olmayız?

- A) Enerji tasarruflu lambalar kullanmalıyız.
B) Elektrik tüketimi az olan A sınıfı elektrik elektronik aletler tercih edilmelidir.
C) Gereksiz yanan ışıkları kapatmak
D) Odayı ışık şiddeti en düşük olan lamba ile aydınlatmak

3. Aşağıdaki ifadelerden hangisi yanlıştır?

- A) Elektrik kablosunda herhangi bir kopukluk varsa devre çalışmaz.
B) Anahtar açık konumda iken devre çalışmaz.
C) Ampul duya tam yerleşmemişse devre çalışır.
D) Piller pil yatağına doğru bir şekilde yerleştirilmemişse devre çalışmaz.

4. Aşağıda verilen maddelerden hangisi karışım değildir?

- A) Buzlu su
B) Zeytinyağı
C) Ayran
D) Limonata

5. Mıknatıs ile ilgili aşağıdaki bilgilerden hangisi yanlıştır?

- A) Mıknatısın farklı kutupları birbirini çeker.
B) Her mıknatısın kuzey ve güney olmak üzere iki kutbu vardır.
C) Mıknatısın aynı kutupları birbirini iter.
D) Mıknatıs parçalandığı zaman her bir parça mıknatıs özelliği göstermez.

6. Aşağıdaki maddelerden hangisi suda yüzer?

- A) Taş B) Tahta
C) Bilye D) Kum

7. Bazı katı maddeler de sıvı maddeler gibi konulduğu kabın şeklini alabilir. Hangi madde bu örnek olarak verilemez?

- A) Toz şeker B) Tuz
C) Un D) Kuru boya

8. I. Akışkan değildir.
II. Uçucudur.
III. Sıkıştırılmaz.
IV. Konulduğu kabın şeklini alır.

Yukarıdakilerden hangisi ya da hangileri katı maddelerin özelliğinden bahsetmiştir?

- A) Yalnız I B) Yalnız III
C) I – IV D) I – III

9. Yağların vücudumuza katkısı hangisidir?

- A) Onarıcıdır B) Enerji vericidir
C) Koruyucudur D) Düzenleyicidir

10. Pillerle ilgili verilen bilgilerden hangisi yanlıştır?

- A) Bir pilin üzerinde artı(+) ve eksi(-) kutuplar bulunur.
B) Elektrik enerji kaynağıdır.
C) Bitmiş piller doğaya zarar verebilir.
D) Evdeki tüm araçlarımızı pille çalıştırabiliriz.

11. Aşağıdakilerden hangisi dönme hareketi yapmaz?

- A) Atlı karınca B) Otomobil tekeri
C) Saat D) Hızlanan araba

12. Toprağa karışan toplu iğneler aşağıdaki yöntemlerden hangisi ile ayrılabilir?

- A)Buharlaştırma
C)Mıknatısla ayırma
- B)Savurma
D)Süzme

- 13.**
- I. Işık
II. Hava
III. Su
IV. Bulut
V. Ateş

Yukarıdakilerden hangisi ya da hangileri madde değildir?

- A) Yalnız I
C) II, IV
- B) I, V
D) II, IV, V

14)Aşağıda verilen seslerden hangisi kaynağına göre eşleştirilmesi yanlıştır?

- A) Irmak ----Doğal
B) Keman - -- Yapay
C) Rüzgar --- Yapay
D) Kedi --- Doğal

15. Aşağıdaki maddelerden hangisi bir bozunma değildir?

- A)Şekerin renk değiştirmesi
B)Dondurmanın erimesi
C)Tuzun renk değiştirmesi
D)Limonun küflenmesi

16. Aşağıdakilerden hangisi ses kirliliğini azaltma amacı ile alınan bir önlem olamaz?

- A) Fabrika, imalathane gibi gürültüye neden olan kuruluşlar şehir dışına çıkarılmalıdır.
B) Sinema salonlarına ses yalıtımı yapılmalıdır.
C) Binaların duvarları betondan yapılmalıdır.
D) Eğlence yerlerinde yüksek şiddette müzik çalınması engellenmelidir.

17. Öncelikle görevi – yapım ve onarımdır. Büyümeyi ve gelişmeyi sağlar Et, süt, yumurta nohut ve mercimekte bol miktarda bulunur Yukarıda anlatılan besin aşağıdakilerden hangisidir?

- A) Karbonhidratlar
B) Proteinler
C) Yağlar
D) Mineraller

18. Aşağıdakilerden hangisi maden değildir?

- A) Demir
C) Çakıl
- B) Bakır
D) Krom

19. Boya sanayi, dişçilik ve termometre yapımında kullanılan maden hangisidir?

- A) Altın
C) Krom
- B) Civa
D) Linyit

20. Mineral değeri en yüksek olan içecek aşağıdakilerden hangisidir?

- A) Ayran
C) Limonata
- B) Maden suyu
D) Süt

1. I-Sakarya Savaşı
II-Büyük Taarruz
III-I.İnönü savaşı
IV-II.İnönü Savaşı

Mustafa Kemal yukarıdaki Milli Mücadele dönemi savaşlarından hangilerinde başkomutan olarak orduyu yönetmiştir?

- A) I,II,III ve IV B) Yalnız II
C)II ve III D) I ve II

2. Zeynep 1.40cm boyunda ,32 kg ağırlığında siyah saçlı bir çocuktur. Okul araç gereçlerini özenli kullanır, çalışma masası hiçbir zaman dağınık değildir. Yardıma ihtiyacı olan birini görse hemen yardımına koşar, acı çeken birini görünce dayanamaz, ağlar.




Yukarıda Zeynep'in hangi özelliğinden söz edilmemiştir?

- A)Duygusal özelliklerinden
B)Duyarlılığından
C)Okul başarısından
D)Fiziksel özelliklerinden

3. "7 yaşında 1.sınıfa başladım.8 yaşında keman kursuna gittim.9 yaşında çarpım tablosunun tamamını ezberledim.10 yaşında....." diye konuşan **Eyüp'ün, konuşmasını hangi cümle ile tamamlaması beklenebilir?**

- A)Ehliyet aldım
B)Askere gittim
C)Şiir yarışmasında 1.oldum.
D)Okuma yazma öğrendim

4.







	İLGİ
	YETENEK
	İHTİYAÇ







A-Gökyüzünü çok merak ediyorum

B-Yaşımaya göre çok iyi resim çizerim

C-Matematik dersinde açılar konusunu daha iyi anlayabilmek için annemden bana gönye ve iletke almasını istedim.

Yukarıdaki kavramlar ve örnekler eşleştirilecek olursa doğru eşleştirme nasıl olur?

- A)  → C B)  → A
 → B  → B
 → A  → C

- C)  → B D)  → B
 → C  → A
 → A  → C

5. Aşağıdaki çocuk oyunlarından bir grup oluşturulursa hangisi özellikleri bakımından bu grubun dışında kalır?

- A) Lego B)Karaguni
C)Topaç çevirme D)Dalve

6. Aşağıdaki hangi bilim adamı iletişim alanında bir icat yapmıştır?

- A)Thomas Edison
B)Alexander Graham Bell
C)George Mestral
D)Humprey Davy

7. Aşağıdakilerden hangisinin teknolojik gelişmelerle ilgili olduğu söylenemez?

- A) Daha hızlı seyahat edebiliyoruz.
- B) Uzaktan eğitim alabiliyoruz.
- C) Sağlık sorunlarımız daha kolay tespit ediliyor.
- D) Aile üyelerimizi daha çok seviyoruz.

8. Yaşadığımız yerin coğrafi özellikleri orada yapılan ekonomik faaliyetleri de etkiler. Buna göre aşağıdaki illerden hangisinde balıkçılık yapıldığı söylenemez?

- A) Konya
- B) Çanakkale
- C) Mersin
- D) Sinop

9. 29 Ekim 1923'te gerçekleşen tarihi olay hangisidir?

- A) Kurtuluş Savaşı'nın başlaması
- B) TBMM'nin açılması
- C) Cumhuriyetin ilan edilmesi
- D) Düşmanların yurdumuzdan atılması

10. Milli Mücadele sırasında gösterdikleri olağanüstü çaba ve başarılarından dolayı bazı illere unvanlar verilmiştir. Aşağıdakilerden hangisi bu illerden biri değildir?

- A) Maraş
- B) Adıyaman
- C) Antep
- D) Urfa

11. Zamanın geri getirilemeyeceğini ve çok değerli olduğunu bilen Rüzgar zamanını israf etmemek için ilk olarak aşağıdakilerden hangisini yapmalıdır?

- A) Kendisine günlük yaşam planı hazırlamalı
- B) Okul sonrasındaki zamanını kitap okuyarak geçirmeli
- C) Kendine çok fazla zaman ayırmalı
- D) Bütün zamanını ders çalışarak geçirmeli

12. Aşağıdaki ifadelerden hangisi yanlıştır?

- A) Herhangi bir yerin kuş bakışı görünüşünün kağıt üzerine kabataslak çizimine kroki denir.
- B) Kuş bakışı herhangi bir yerin üstten görünümüdür.
- C) Herhangi bir yerin ölçüsüz göz kararı çizimine kabataslak denir.
- D) Krokide yönleri belirtmek gereksizdir.

13. "Sorumluluklarımızla ilk kez karşılaştığımız yer" cümlesi hangi kelime ile tamamlanmalıdır?

- A) Okulumuzdur
- B) Evimizdir
- C) İş yerimizdir
- D) Katıldığımız sosyal kulüplerdir

14. I-Amasya Genelgesi'nin yayınlanması

II-Erzurum Kongresinin toplanması

III-Yurdumuzun işgal edilmesi

IV-Sivas Kongresi'nin düzenlenmesi

Yukarıdaki olaylar kronolojik olarak sıralanırsa en sonda hangisi yer alır?

- A) I
- B) II
- C) III
- D) IV



15. Yaz tatili için Cansu Kastamonu'dan Antalya'ya; Beren Ağrı'dan İzmir'e gitmiştir.

Cansu ve Beren'in gittiği yönler hangi seçenekte doğru verilmiştir?

- A) Cansu güneye, Beren doğuya gitmiştir.
- B) Cansu kuzeye, Beren batıya gitmiştir.

- C)Cansu güneye, Beren batıya gitmiştir.
D)Cansu batıya, Beren kuzeye gitmiştir.

16. Türk Cumhuriyetlerinde kutlanıp doğanın yeniden dirilişini anlatan, baharın gelişini simgeleyen, bayram aşağıdakilerden hangisidir?

- A)Ramazan Bayramı
B)Kurban Bayramı
C)Zafer bayramı
D)Nevruz Bayramı

17. Bir ülkeye giriş çıkışta gümrük işlemlerinin yapıldığı yere sınır kapısı denir.

Aşağıda komşularımız ve sınır kapıları verilmiştir. Hangi seçenekte yanlış eşleştirme yapılmıştır?

- A)Bulgaristan / Sarp Sınır Kapısı
B)Yunanistan /İpsala Sınır Kapısı
C)İran/Gürbulak Sınır Kapısı
D)İrak/Habur Sınır Kapısı

18. Aramızda ticari ilişkilerin olmadığı ve aramızdaki sınır kapısının kapalı olmasından dolayı kara yolu geçişini direk yapamadığımız başkenti Erivan olan doğu komşumuz hangisidir?

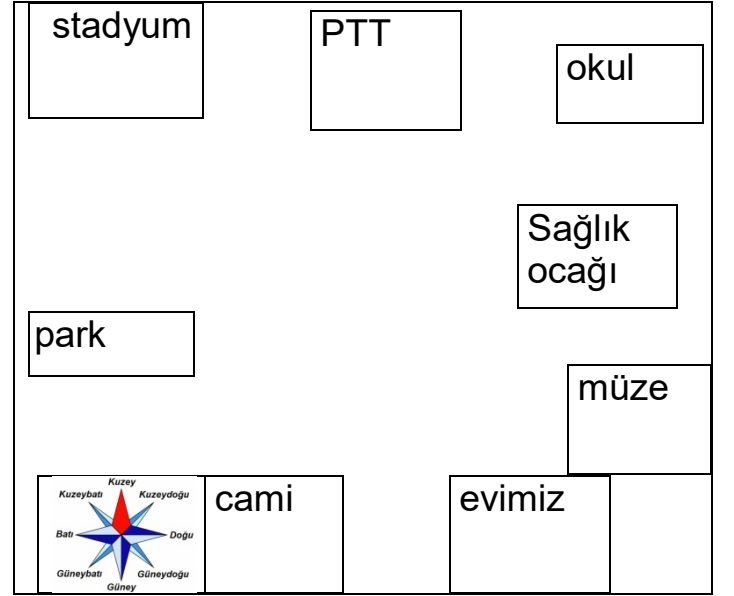
- A)Gürcistan B)Ermenistan
C)Bulgaristan D)İran

19. "Atatürk çok yönlü bir insandı. Çok iyi bir asker ve devlet adamıydı."

Milli Mücadele'nin kazanılmasında Atatürk'ün hangi kişisel özelliğinin etkisi yoktur?

- A)Liderliği
B)Azimli ve kararlı oluşu
C) Sanatseverliği
D) Vatanseverliği

20.



Yukarıdaki krokiye göre hangi bilgi yanlıştır?

- A) Evimizin güneybatısında stadyum vardır.
B) Evimizin batısında cami vardır.
C) Sağlık ocağı PTT'nin güneydoğusundadır.
D) Okul PTT'nin doğusundadır.

1. Write the words under the pictures. (Kelimeleri resimlerin altına yazalım.)

doctor fireman police station waiter farmer post office hospital



.....

2. Match the jobs with the sentences. (Meslekleri cümleler ile eşleştiririm.)

- | | |
|------------|--------------------------------|
| 1- Singer | () He works at a theatre. |
| 2- Vet | () He likes cooking. |
| 3- Teacher | () She works at a school. |
| 4- Chef | () She likes helping animals. |
| 5- Postman | () He likes singing. |
| 6- Actor | () He works at a post office. |

3. Answer the questions. (Soruları cevaplayalım.)



- 1- What is your job?
- 2- Where do you work?
- 3- What do you like?

- 4- What is her job?
- 5- Where does she work?
- 6- What does she like?



- 7- What is his job?
- 8- Where does he work?
- 9- What does he like?

Test time

1. Aşağıdaki sorunun cevabı hangisidir?

"Where do you work?"

- A- I work at a school.
- B- I work at a hospital.
- C- I work at a vet clinic.
- D- I work at a restaurant.




2. He is a

- A- Officer
- B- Pilot
- C- Actor
- D- Artist



3. Aşağıdaki resim meslek eşleştirmelerinden hangisi doğrudur?



4. I'm a I work at a concert hall.

- A- dentist
- B- singer
- C- policewomen
- D- businessman

5. Aşağıdaki meslek işyeri eşleştirmelerinden hangisi yanlış verilmiştir?

- A- Teacher- school
- B- Chef- restaurant
- C- Nurse- hospital
- D- Engineer- restaurat

6. Aşağıdakilerden hangisi diğerlerinden farklıdır?

- A- Writer
- B- Office
- C- Lawyer
- D- English teacher

7. What is her job?

- A- She is a chef.
- B- He is a waiter.
- C- I'm a student.
- D- I'm a housewife.



CEVAP ANAHTARI

Türkçe

1	2	3	4	5	6	7	8	9	10	11	12	13	14	15	16	17	18	19	20
C	B	C	D	D	B	D	B	C	B	A	B	C	A	D	B	D	D	C	B

Matematik

1	2	3	4	5	6	7	8	9	10	11	12	13	14	15	16	17	18	19	20
D	A	C	A	D	B	D	B	D	C	A	B	B	B	C	C	A	A	B	C

Fen Bilimleri

1	2	3	4	5	6	7	8	9	10	11	12	13	14	15	16	17	18	19	20
C	D	C	A	D	B	D	D	B	D	D	C	A	C	B	C	B	C	B	B

Sosyal Bilimler

1	2	3	4	5	6	7	8	9	10	11	12	13	14	15	16	17	18	19	20
D	C	C	B	A	B	D	A	C	B	A	D	B	D	C	D	A	B	C	A

İngilizce

Answer Key (Cevap Anahtarı)

1. Write the words under the pictures. (Kelimeleri resimlerin altına yazalım.)



police station



farmer



post office



fireman



hospital



waiter



doctor

2. Match the jobs with the sentences. (Meslekleri cümleler ile eşleştirelim.)

- 1- (6) He works at a theatre.
- 2- (4) He likes cooking.
- 3- (3) She works at a school.
- 4- (2) She likes helping animals.
- 5- (1) He likes singing.
- 6- (5) He works at a post office.

3. Answer the questions. (Soruları cevaplayalım.)

- 1- I'm a policeman.
- 2- I work at a police station.
- 3- I like saving people.

- 4- She is a singer.
- 5- She works at a concert hall.
- 6- She likes singing.

- 7- He is a dancer.
- 8- He works at a dance school.
- 9- He likes dancing.

Test time

1	2	3	4	5	6	7
C	B	D	B	D	B	A

Çalıřmada Emeęi Geçen Öğretmenlerimiz:

Nevzat YILMAZ

(SINIF ÖĞRETMENİ-FEVZİ ÇAKMAK İLKOKULU)

Mukaddes KAYA

(SINIF ÖĞRETMENİ- FEVZİ ÇAKMAK İLKOKULU)

Onur ÇELEPÇIKAY

(SINIF ÖĞRETMENİ -GAZİ İLKOKULU)

Seda AYDINLI

(İNGİLİZCE ÖĞRETMENİ-80. YIL İLKOKULU)

Mesut ERDOĞAN

(BİLİŐİM TEKNOLOJİLERİ ÖĞRETMENİ-SİİRT TÜRK TELEKOM ÖZEL EĞİTİM ORTAOKULU)

Bu çalıřma Siirt İl Milli Eğitim Müdürlüęü öğretmenleri tarafından hazırlanmıřtır. Emeklerinden dolayı teőekkür ederiz.