

1. Sınıf

# Haftalık Ödev

14-18 HAZİRAN



**SIİRT**  
İL MİLLÎ EĞİTİM MÜDÜRLÜĞÜ

[www.  
siirt.meb.gov.tr](http://www.siirt.meb.gov.tr)



/siirtmem

## ÇOCUKLARIN TOP OYNAMASI

Güneşli bir ilkbahar günüydü. Çocukları da alıp dışarı çıktım. Çocuklar yanlarına toplarını da almak istediler. Onları kırmak istemedim. Top oynayabilecekleri genişçe bir yere geldik. Ben bir bankta oturup onları izlemeye başladım. İki kardeş top oynamaya başladılar. Topun peşinden koşmayı ne kadar da seviyorlar. Gözleri toptan başka hiçbir şeyi görmüyordu.

O kadar mutlu ve neşeliydiler ki, insanın çocuk olup onlara katılası geliyordu. Daha fazla dayanamadım. Bende topa bir iki kez vurdum. Amacım yanlarında olduğumu hissetmelerini sağlamaktı.

Çocuklarda bundan çok memnun oldular. Beni de oyuna katmak istediler. Aman Allah'ım ne kadar da güzel bir gündü. Bunu sık sık tekrarlamalıyım.

5N 1K sorularını yukarıdaki metne göre cevaplayınız.

1) Ne zaman top oynamışlar?

.....

2) Kimler top oynamış?

.....

3) Nerede top oynamışlar?

.....

4) Çocuklar ne severlermiş?

.....

5) Çocukların gözü neyi görmüyor?

.....

6) Nasıl bir gün geçirdiklerini düşünüyorlar?

.....

Verilen kelimelerin ünlü harf sayısını kutuya yazalım.

bayramlık

çanta

silgi

çocuk

bavul

masa

masaı

tatlıcı

ayakkabı

kağıt


lastik

korkma

Tabloda verilen kelimeleri okuyalım. Harf sayıları ile ünlü ve ünsüz harf sayılarını yazalım.

Kelime	Harf Sayısı	Ünlü Harfler	Ünsüz Harfler
araba			
bardak			
tabak			
simitçi			
kalemler			
daire			
dondurmacı			

Hecelerine yanlış ayrılmış olan elmaları **kırmızıya**, doğru ayrılmış olanları **yeşile** boyayalım.



Aşağıdaki ifadeler doğru ise **"D"**, yanlış ise **"Y"** yazınız.

- Piknik yaptıktan sonra çöplerimizi orada bırakmamalıyız.
- Su ve elektriği boş yere açık bırakmamalıyız.
- Ağaçların dallarını koparmalıyız.
- Pet şişeleri geri dönüşüm kutusuna atmalıyız.
- Çöp poşetinin ağzını sıkıca bağlayıp çöp kutusuna atmalıyız.

Aşağıdaki cümlelerdeki boşlukları uygun kelimelerle tamamlayınız.



- ❖ Fabrikaların bacalarına .....takılmalıdır.
- ❖ Tüm canlılar .....bir çevrede yaşamalıdır.
- ❖ Gereksiz yere yanan .....kapatmalıyız.
- ❖ Cam ve kağıt atıkları .....kutusuna atmalıyız.

## YORGAN GİTTİ KAVGA BİTTİ

Nasrettin Hoca ve hanımı gece uyuyorlarmış. Mevsim kış olduğundan hava buz gibi soğukmuş. Tam gece yarısı sokaktan gürültüler, bağırışlar duyulmuş. Nasrettin Hoca, neler olduğunu merak etmiş. Yorgani üzerine alıp dışarı çıkmış. Biraz sonra hanımının yanına geri dönmüş. Ama yorgan üzerinde yokmuş. Yorgani dışarıdakilere kaptırmış.

Hanımı dışarıda ne olduğunu sormuş.

Nasrettin Hoca:

-İki kişi kavga ediyordu, demiş.

Kadın tekrar sormuş:

-Kavga bitti mi?

Nasrettin Hoca:

-Evet. Yorgan gitti, kavga bitti, demiş.



Aşağıdaki 5 N 1 K sorularını metne göre yanıtlayınız.

1-Nasrettin Hoca ve hanımı ne yapıyormuş?

.....

2-Hava neden soğukmuş?

.....

3-Nasrettin Hoca dışarı nasıl çıkmış?

.....

4-Nasrettin Hoca hanımının yanına ne zaman dönmüş?

.....

5-Kavga nerede olmuş?

.....

6-Nasrettin Hoca yorgani kimlere kaptırmış?

.....

$$\begin{array}{r} 5 \\ + 3 \\ \hline \end{array}$$

$$\begin{array}{r} 1 \\ + 2 \\ \hline \end{array}$$

$$\begin{array}{r} 2 \\ + 5 \\ \hline \end{array}$$

$$\begin{array}{r} 6 \\ + 7 \\ \hline \end{array}$$

$$\begin{array}{r} 8 \\ + 1 \\ \hline \end{array}$$

$$\begin{array}{r} 7 \\ + 4 \\ \hline \end{array}$$



$$\begin{array}{r} 7 \\ + 3 \\ \hline \end{array}$$

$$\begin{array}{r} 2 \\ + 1 \\ \hline \end{array}$$

$$\begin{array}{r} 8 \\ + 4 \\ \hline \end{array}$$

$$\begin{array}{r} 3 \\ + 2 \\ \hline \end{array}$$

$$\begin{array}{r} 4 \\ + 1 \\ \hline \end{array}$$

$$\begin{array}{r} 9 \\ + 6 \\ \hline \end{array}$$

Verilmeyen toplananı bulun.

$$11 + \text{rabbit} = 15$$

$$17 + \text{rabbit} = 22$$

$$7 + \text{rabbit} = 19$$

$$8 + \text{rabbit} = 14$$

$$3 + \text{rabbit} = 10$$

$$13 + \text{rabbit} = 20$$

$$4 + \text{rabbit} = 12$$

$$10 + \text{rabbit} = 18$$

$$11 + \text{rabbit} = 16$$

$$5 + \text{rabbit} = 9$$



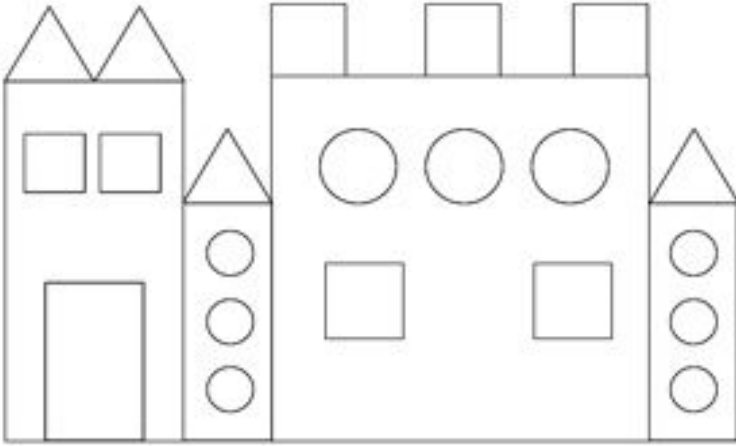








Resimdeki üçgenleri kırmızı, çemberleri sarı, kareleri mavi, dikdörtgenleri yeşil boyayın.



Sayısını yazın.


$$\square = \underline{\quad}$$

$$\triangle = \underline{\quad}$$

$$\circ = \underline{\quad}$$


$$\text{rectangle} = \underline{\quad}$$

Hangisi benziyor? Tabloya numarasını yazın



2,.....	.....	.....	.....





Tablodaki ölçme birimlerinin adını yazın.


Hangilerini kullanarak verilen eşyaların uzunluğunu ölçebiliriz? Ölçün ve yazın.

Defterimin boyu	
Masanın uzun kenarı	
Odamın boyu	
Kapının kısa kenarı	
Kalemimin boyu	




Eksik sayıları yazın		
64		66
74		76
84		86

$\square + 6 = 13$	$\square + 8 = 19$
$12 + \square = 17$	$14 + \square = 15$
$\square + 11 = 18$	$\square + 5 = 20$
$15 + \square = 17$	$12 + \square = 21$



$\square + 7 = 13$	$\square + 9 = 12$	$\square + 6 = 14$
$\square + 5 = 12$	$\square + 3 = 11$	$\square + 8 = 10$
$\square + 4 = 16$	$\square + 7 = 16$	$\square + 5 = 16$
$\square + 8 = 14$	$\square + 6 = 11$	$\square + 8 = 8$

Sıradaki sayıları yazın			
64	67	70	73



Problemleri matematik defterine yazın ve çözün

1-Beyza 7 yaşındadır. Ablası Beyza'dan 4 yaş büyüktür. İkisinin yaşları toplamı kaçtır?

2-Cebimdeki 15 liranın 8 lirasını harcadım. Babam bana 5 lira daha verdi. Kaç liram oldu?

3-Sınıfımızda 13 kız öğrenci var. Kız öğrencilerden 6 eksik erkek öğrenci var. Sınıfımızda toplam kaç öğrenci vardır?

4-Yaren'in 9 cevizi var. Faruk'un Yaren'den 5 fazla cevizi var. İkisinin toplam kaç cevizi vardır?

Yazılan kelimedeki yanlış düzelterip kelimeyi tekrar yazalım.

adanaya  
Adana'ya

ahmete  
-----

ayşenin  
-----

Atatürkün  
-----

Ersine  
-----

Beyzaya  
-----

elifin  
-----

irem  
-----

ebrar  
-----

zeynepten  
-----

asmine  
-----

sümeyyede  
-----

ömerin  
-----

yusufa  
-----

gülsümden  
-----

ayşeye  
-----

## SUDOKU (ÇOK KOLAY SEVİYE)

Sudoku 1

1			3	2
	2	4	1	3
		3	4	5
3	5		2	4
4	3	2	5	1

Sudoku 2

3	5	1	2	4
1	2			3
4		2	3	5
2			4	1
5	4	3		2

Sudoku 3

4		2	3	5
2	4		1	3
3	5	1	2	4
5	2	3		1
	3		5	

Sudoku 4

3	5	2	4	1
5	2	3	1	
2	4		5	3
4	1			2
1	3	4		5



Aşağıdaki görsellerin size anımsattığı 3 kelimeyi yazınız.




.....  
.....  
.....



.....  
.....  
.....



.....  
.....  
.....



.....  
.....  
.....

Aşağıdaki sözcüklerin anımsattığı kelimeleri yazınız.

ATATÜRK



.....  
.....

.....  
.....

.....  
.....

OKUL



.....  
.....

.....  
.....

.....  
.....

TATİL



.....  
.....

.....  
.....

.....  
.....

KARNE



.....  
.....

.....  
.....

.....  
.....

HEDİYE



.....  
.....

.....  
.....

.....  
.....

Aşağıdaki sözcükleri cümle içinde kullanınız.

ATATÜRK

.....

OKUL

.....

TATİL

.....

KARNE

.....

HEDİYE

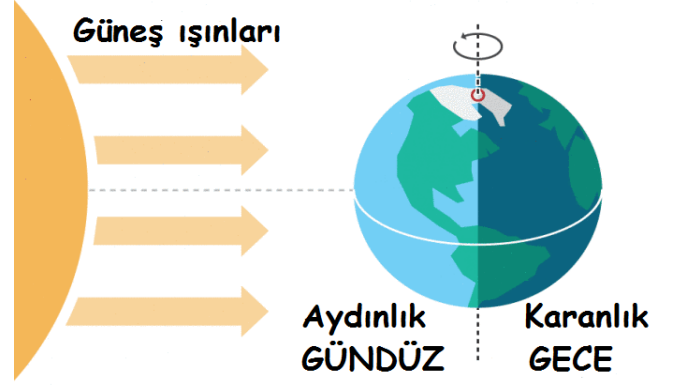
.....



## DÜNYA DÖNÜYOR

Dünya hem kendi etrafında hem de Güneş'in etrafında döner.

Dünya kendi etrafında bir günde yani 24 saatte döner. Bu sırada Dünya'nın Güneşi gören tarafında gündüz, Güneşi görmeyen tarafında gece olur.



Dünya'nın Güneş etrafında dönmesiyle mevsimler oluşur.

1-Dünya kendi etrafında ne kadar sürede döner?

.....

2-Gece ve gündüz nasıl oluşur?


.....

.....

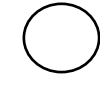
3-Mevsimler nasıl oluşur?

Sözcük	Heceleyin	Kaç heceli?	Sesli harfleri	Sessiz harfleri
aydınlık				
karanlıkta				
kraliçe				
mevsimler				
güneşlik				
Dünya				
Şekerler				
Çay				
ayakkabı				

Çindeki sıvı miktarına göre sıralayın.



Kovayı hangisiyle doldurmak daha kolay?



17	16	18	14	15	15	17	19	13	13
+3	+2	+1	+5	+3	+2	+0	+1	+2	+5

20	19	17	17	16	11	10	10	13	10
+0	+2	+3	+2	+5	+3	+2	+10	+3	+2

Aşağıdaki örüntüleri devam ettirin ve kuralını yazın.



Kural:.....




Kural:.....

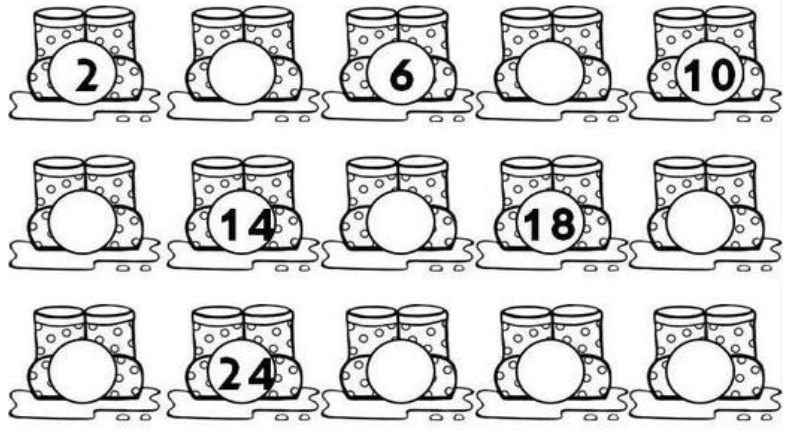


Kural:.....

Önce ve sonraki sayıyı yazın



İkişer ritmik sayın ve yazın



Aşağıdaki cümleleri tamamlayın.

- 2 onluk 3 birlikten oluşan sayı: .....
- 3 onluk 1 birlikten oluşan sayı: .....
- 1 onluk 7 birlikten oluşan sayı: .....
- 3 onluk 4 birlikten oluşan sayı: .....
- 1 onluk 9 birlikten oluşan sayı: .....

$\square + 2 = 11$	$9 + \square = 12$
$3 + \square = 10$	$\square + 5 = 14$
$\square + 9 = 18$	$6 + \square = 16$
$8 + \square = 16$	$\square + 2 = 10$
$\square + 5 = 13$	$6 + \square = 13$
$8 + \square = 12$	$\square + 7 = 11$

Aşağıdaki kelimeleri zıt anlamları ile eşleştiriniz.

soğuk

ön

tok

arka

arka

kış

açmak

geri

az

sıcak

gülmek

ağlamak

hızlı

çok

ileri

gece

yaz

yavaş

ön

aç

Aşağıda zıt anlamlarıyla birlikte verilen kelimelerden doğru olanların dairesine D yanlış olanların dairesine Y yazınız.

aç-tok

kısa-uzun

ileri-yukarı

az-fazla

yavaş-hızlı

gülmek-gülmemek

kirli-temiz

Aşağıdaki cümledeki zıt anlamlı kelimeyi daire içine alınız. Kelimenin zıt anlamını kullanarak cümleyi tekrar yazınız.

★ Annen bana sıcak süt verdi.

★ Babam arabayı hızlı sürüyor.

★ Her sabah kahvaltımı yaparım.

★ Basketbol oynarken çok yoruldum.

★ Yazın Adana'ya gideceğiz.

★ Siirt'te oyun oynayacağımız parklar var.

# SUDOKU (ÇOK KOLAY SEVİYE)

## Sudoku 1

3	1	5	4	2
2		1		3
1	2	4		5
	3	2		4
4	5		2	1

## Sudoku 2

		3	4	1
3	5		1	2
	3			4
4	1	2	3	5
2	4	1	5	

## Sudoku 3

1			4	5
5		4	2	1
3	1	2		4
2	4	5	1	3
4	5	1		2

## Sudoku 4

	1	2	5	4
2	4		3	
5	3	4	1	2
4	5	3		1
1	2		4	3

Yazım yanlış olan cümlelerin başındaki daireyi kırmızıya boyayalım.

- |  |  |
|--|--|
| <input type="radio"/> Defter'i bitti           | <input type="radio"/> Miraça hediye aldım.     |
| <input type="radio"/> Ahmeti parkta gördüm.    | <input type="radio"/> Babam'dan kalem istedim. |
| <input type="radio"/> Ali'in kalemi kaybolmuş. | <input type="radio"/> İzmir'den Amcam gelecek. |
| <input type="radio"/> Sümeyye ile oynadım.     | <input type="radio"/> Onurun siyah kazağı var. |
| <input type="radio"/> Ersin'in kardeşi geldi.  | <input type="radio"/> fatma'den kalem istedim. |
| <input type="radio"/> baba'a telefon aldık.    | <input type="radio"/> Yunus'u parka çağırdım.  |



## GERİ DÖNÜŞÜM NEDİR?

Ege sabah erken kalkıp hazırlandı. Kahvaltısını yaptı, servise bindi. İlk ders Hayat Bilgisi dersi idi.

Ege akşam babası ile konuştuklarını öğretmenine anlattı. Öğretmenine geri dönüşümün ne olduğunu sordu.

Öğretmen: "Çocuklar, Ege çok önemli bir konuyu öğrenmek istiyor. Geri dönüşüm, kullanılmış ürünlerin yeniden kullanılmak üzere toplanıp, fabrikalarda işlenerek yeni bir ürün haline getirilmesidir. Kullanılmış kağıtlar toplanıp, fabrikalarda bazı işlemlerden geçirilir. Yeniden kağıt haline getirilir ve tekrar kullanılabilir. Kullanılmış cam şişeler, kavanozlar fabrikalarda yeniden cam ürün haline getirilir. Plastik kutular, metal ürünler de yeniden kullanılmak için geri dönüştürülebilir." dedi.


1-Ege öğretmenine ne soruyor?

2-Geri dönüşüm nedir?


3-Kullanılmış kağıtlar nasıl geri dönüştürülür?

4-Hangi ürünler geri dönüştürülebilir?


Aşağıdaki sözcüklerin zıt anlamlısını yazın ve her ikisi ile birlikte cümle kurun.




Boş çantayı bıraktı, dolu çantayı aldı.



.....



.....



.....





## GERİ DÖNÜŞÜM

A - Aşağıdaki ifadelerden doğru olanların başına " D " , yanlış olanların başına ise " Y " yazınız .

( ) 1 - Ormanları kesip yerlerine güzel binalar dikmeliyiz .

( ) 2 - Çöplerimizi denizlere atmamız .

( ) 3 - Kapalı ortamları sık sık havalandırmamız .

( ) 4 - Atık pilleri toprağa gömmeliyiz .

( ) 5 - Canlı ve cansız varlıkların bir arada bulunduğu ortama çevre denir.

( ) 6 - Pilleri , mutlaka yeşil atık pil kutularına atmamız.

( ) 7 - Atık kızartmalık yağlarından araç yakıtı üretilmektedir .

( ) 8 - Atık pillerden hiçbir şey yapılmaz .

B - Aşağıdaki cümlelerdeki boşlukları uygun kelimelerle doldurunuz .

\* nazik      \* hava      \* mukavva  
\* çevre kirliliği      \* karton      \* su  
\* toprak      \* havayı      \* tasarruf

1 - Yabancı maddelerin havaya , suya ve toprağa karışarak kirlenmesine . . . . . denir.

2 - Doğaya ve çevreye zarar verenleri . . . . . bir dille uyarılmalıdır.

3 - Kaynakların tutumlu bir şekilde kullanılmasına . . . . . denir .

4 - . . . . . , . . . . . , ve . . . . . cansız varlıkları oluşturur .

5 - Fabrika bacalarından çıkan zehirli gazlar . . . . . kirlendirir .

6 - Atık kağıtlar tekrar işlenerek . . . . . ve . . . . . elde edilir .

Aşağıdaki cümleleri okuyalım. Parantezlere gelmesi gereken noktalama işaretini koyalım.

\* Ahmet( ) Ayşe ( ) Asmin ve Emre oyun oynayacaklar( )

\* Aslı( ) nın kalemi ( ) defteri ve silgisi kaybolmuş ( )

\* Dayım ( ) bana çok güzel bir araba aldı ( )

\* Siirt( ) te sokaklar bayraklarla donatıldı ( )

\* Dikkat yerler kaygan( )

Aşağıda karışık olarak verilen kelimeler ile kurallı ve anlamlı cümleler yazalım. Yazdığımız cümlenin noktalama işaretlerini unutmayalım.

\*bugün okula misiniz gidecek siz



-----

\*gidecek Orkun Ali ve Umut denize sabah yarın



-----

\*aldım meyve suyu simit kantinden



-----

\*attı gol dün Ali maçta iki



-----

\*gitti kursa Mehmet sabah erken saatlerde



-----

Aşağıda 1-E sınıfının haftalık ders programı verilmiştir. Soruları verilen ders programına göre cevaplayalım.

Pazartesi	Salı	Çarşamba	Perşembe	Cuma
Türkçe	Türkçe	Türkçe	Hayat Bilgisi	Hayat Bilgisi
Türkçe	Matematik	Türkçe	Hayat Bilgisi	Türkçe
Matematik	Hayat Bilgisi	Matematik	Türkçe	Matematik
Serbest Etkinlikler	Müzik	Matematik	Türkçe	Matematik
Görsel Sanatlar	Beden Eğitimi	Beden Eğitimi	Serbest Etkinlikler	Serbest Etkinlikler
Beden Eğitimi	Beden Eğitimi	Serbest Etkinlikler	Görsel Sanatlar	Serbest Etkinlikler

## SORULAR

1) Haftanın ilk 1. ve 5. dersi hangisidir?

2) Matematik dersi haftada kaç saattir?

3) En az hangi ders işlenmektedir?

4) Beden Eğitimi dersi haftada kaç gün vardır?

5) Resim defteri hangi gün okula götürülmelidir?

6) Müzik dersi hangi gündür?

7) En çok hangi ders işlenmektedir?

# 1. SINIF KAZANIM PEKİŞTİRME TESTİ

19 MAYIS

TÜRKÇE

Şanlı Atam Samsun'a  
İşte bugün çıkmıştı.  
Kurtuluşa ilk adım  
Samsun'dan atılmıştı.

Erzurum'da, Sivas'ta  
Yapıldı toplantılar.  
Yurdu kurtarmak için  
Alındı çok kararlar.

Yurda saldıranlarla  
Kahramanca savaştık.  
Düşmanları yenerek  
Zaferlere ulaştık.

**Mehmet Sırrı DUMLU**

1.2.3.ve 4. Soruları yukarıdaki şiire göre cevaplayınız.

1. Atatürk Samsun'a ne zaman çıkmıştır?

A) 23 Nisan

B) 29 Ekim

C) 19 Mayıs

2. Kurtuluşa ilk adım nereden atılmıştır?

A) Samsun'dan

B) İstanbul'dan

C) Ankara'dan

3. Aşağıdaki illerden hangisinde Atatürk toplantı yapmamıştır?

A) Erzurum

B) Sivas

C) Adıyaman

4. Bu savaşın sonucunda ne olmuştur?

A) Düşmanlara yenilerek esir olduk.

B) Düşmanlara yenilerek ülkeden kaçtık.


C) Düşmanları yenerek zaferlere ulaştık.

5. Gözde parka geldi mi( )

Yukarıdaki cümlenin sonuna hangi noktalama işareti konmalıdır?

- A) (.)nokta                      B) (?)soru işareti              C) (!)ünlem işareti

6. Aşağıdaki noktalama işaretlerinden hangisi cümle sonlarında kullanılmaz?



7. Kırtasiyeden kalem( ) defter( ) silgi aldım( )

Yukarıdaki cümlede yay ayraç ( ) ile gösterilen yerlere sırasıyla hangi noktalama işaretleri gelmelidir?

A) ? , , , .

B) , , , , .

C) ! , , , .

8. İstanbulda teyzemin yanında kaldım.

**1**

**2**

**3**

**4**

Yukarıdaki cümlede kaç numaralı kelimedeki kesme işareti (´) kullanılmalıdır?

A) **1**

B) **2**

C) **3**

9. Aşağıdaki cümlelerin hangisinde özel ad yanlış yazılmıştır?

A) Babamla Ankara'ya gittik.

B) Esra bizde kaldı.

C) Ömer ile Ercin sınava hazırlandı.

10. Hangi seçenekteki kelimeler zıt anlamlı **değildir**?

A) mutlu - neşeli

B) fakir - zengin


C) iyi - kötü

# 1. SINIF KAZANIM PEKİŞTİRME TESTİ

## MATEMATİK

1. Büyük uzunlukları aşağıdakilerden hangisi ile ölçeriz?

A)



B)



C)



2. Hangi cetvel daha uzundur?

A)



B)



C)



3. Aşağıdakilerden hangisi kamyonlardan daha kısadır?

A)




B)



C)



4.



Yandaki kalemlerin kısa olandan uzun olana doğru sıralanışı hangi seçenektir?

A) 1-2-3

B) 2-1-3

C) 1-3-2



5. Aşağıdaki uzunluk ölçme birimlerinden hangisi daha kısadır?

A) Kulaç

B) Parmak

C) Karış

6. Aşağıdakilerden hangisi kulaçla ölçülmez?

A)



B)



C)



7. Hangisini parmakla ölçebiliriz?

A) Çanta


B) Karpuz

C) Silgi

8.



Aşağıdaki mumlar uzunluklarına göre sıralanmıştır. Yandaki Kutunun içindeki mum hangi mumların arasına gelmelidir?




A) 1-2

B) 2-3

C) 3-4

9.



Yandaki boy sırasına göre hangi bilgi doğrudur ?

- A) 4 - 1' den kısadır.
- B) 5 - 6' dan uzundur.
- C) 4 - 3' den uzundur.

10. Aşağıdaki hayvanları uzundan kısaya doğru sıraladığımızda sondan ikinci olan kaç numaralı hayvandır?



- A) 2
- B) 4
- C) 5

# 1. SINIF KAZANIM PEKİŞTİRME TESTİ

## HAYAT BİLGİSİ

1. Aşağıdakilerden hangisi insanlar tarafından yetiştirilir ve genellikle besin kaynağı olarak tüketilir?

A) Bahçe bitkileri

B) Orman bitkileri

C) Yabani bitkiler

2. Ahmet Adıyaman'da yaşamaktadır. Buna göre, Ahmet çevresine baktığında aşağıdaki bitkilerden hangisini göremez?

A) Kaktüs

B) Tütün

C) Nar

3. Aşağıdakilerden hangisi ağaçların faydalarından birisi değildir?

A) Soluduğumuz havayı temizler.

B) Besin kaynağıdır.

C) Bizi soğuktan korur.

4. Aşağıdakilerden hangisi ağaçtan elde ettiğimiz bir besindir?

A) Domates

B) İncir

C) Karpuz

5. Aşağıdaki hayvanlardan hangisi evcil hayvan değildir?

A)



B)



C)




6. Aşağıdaki hayvanlardan hangisi kış uykusuna yatmaktadır?

A)



B)



C)



7. Hayvanlardan elde ettiğimiz besinler hangi seçenekte yanlış eşleştirilmiştir?

A)

Arı



Bal

B)

Tavuk



Yumurta

C)

Tavşan



Süt

8. Aşağıdaki cümlelerden doğru olanlara “D”, yanlış olanlara “Y” yazalım ve doğru şıkkı işaretleyelim.

.....	Sıcak havalarda hayvanlar için kapının önüne bir kap su bırakırım.
.....	Ağaç dallarını kırıp, etrafa atarım.
.....	Bitkilere ve hayvanlara zarar verenleri uyarırım.

A) YDY

B) DYD

C) DDY

9. Erdem aşağıdaki davranışlardan hangisini yaparsa doğayı korumuş olur?

A) Ailesiyle birlikte fidan dikme etkinliğine katılması

B) Ağacın gövdesini bıçakla kazması

C) Piknik alanına çöplerini atması

10. Kedisini çok seven Elif, aşağıdaki davranışlardan hangisini yapmaz?

A) Kedisini besler.

B) Kedisini aç bırakır.

C) Kediyle bahçede oyun oynar.

# AİLE ETKİNLİĞİ: MANDALDAN UÇAK YAPIMI

- Tahta Mandal
- Dondurma Çubukları
- Tahta çay karıştırma çubukları
- Renkli keçeli kalemler
- Yapıştırıcı (Ahşap tutkalı)
- Makas (Şekilli kesen makas varsa çok daha iyi olur)

- Tahta mandalları ve dondurma çubuklarını boyayarak başlıyoruz işe. Mandalları boyayıp boyamamak sizin tercihinize kalmış.
- Keçeli kalemlerle boyama yapabileceğiniz gibi akrilik veya guaj boyanız varsa onlarla da boyama yapabilirsiniz.
- Karıştırma çubuğunu istediğimiz uzunlukta, şekil vererek kesiyoruz.
- Mandalın bir ağzı yukarıya bir ağzı aşağıya bakacak şekilde tutarak aşağıya bakan ağzının tutma yerine karıştırma çubuğunu, üst tarafta kalan ağzının uç kısmına da dil çubuğunu yapıştırıyoruz.
- Son olarak alt orta kısmına küçük bir karton yapıştırarak uç kısmının havada kalmasını sağlıyoruz.

Hayal gücünü kullanarak atık malzemeleri kullanarak el becerisi gelişir.



1 CEVAP ANAHTARI		
TÜRKÇE	MATEMATİK	HAYAT BİLGİSİ
1 C	1 A	1 A
2 A	2 B	2 A
3 C	3 C	3 C
4 C	4 A	4 B
5 B	5 B	5 C
6 A	6 A	6 A
7 B	7 C	7 C
8 A	8 B	8 B
9 C	9 C	9 A
10 A	10 A	10 B

Bu çalışma Eba Tv'ye paralel, aynı zamanda genel tekrar amacıyla hazırlanmıştır.

HAZIRLAYAN: Ersin İNCE  
Şht. Org. Eşref Bitlis İlkokulu

DÜZENLEYEN: Fırat NARİN

Bu çalışma Siirt İl Milli Eğitim Müdürlüğü Öğretmenleri tarafından hazırlanmıştır. Emeklerinden dolayı teşekkür ederiz.